

МИНИСТЕРСТВО НАУКИ И ВЫСШЕГО ОБРАЗОВАНИЯ
РОССИЙСКОЙ ФЕДЕРАЦИИ
ФЕДЕРАЛЬНОЕ ГОСУДАРСТВЕННОЕ БЮДЖЕТНОЕ
ОБРАЗОВАТЕЛЬНОЕ УЧРЕЖДЕНИЕ ВЫСШЕГО ОБРАЗОВАНИЯ
«СЕВЕРО-КАВКАЗСКАЯ ГОСУДАРСТВЕННАЯ АКАДЕМИЯ
СРЕДНЕПРОФЕССИОНАЛЬНЫЙ КОЛЛЕДЖ

УТВЕРЖДАЮ
Зам. директора по УР
М.А. Малеева
« 20 » 2025 г.



РАБОЧАЯ ПРОГРАММА
ОБЩЕОБРАЗОВАТЕЛЬНОЙ УЧЕБНОЙ ДИСЦИПЛИНЫ
МАТЕМАТИКА

специальность 54.02.01 Дизайн (по отраслям)

Черкесск, 2025 г.

Рабочая программа общеобразовательной учебной дисциплины разработана на основе Федерального государственного образовательного стандарта (далее – ФГОС) СОО в пределах образовательной программы СПО по специальности среднего профессионального образования (далее – СПО) 54.02.01 Дизайн (по отраслям), направление подготовки - 54.00.00 Изобразительное и прикладные виды искусств

Организация-разработчик
СПК ФГБОУ ВО «СевКавГА»

Разработчик:
Узденова Ф.Х., преподаватель СПК ФГБОУ ВО «СевКавГА»

Одобрена на заседании цикловой комиссии «Общеобразовательные дисциплины»
от «08» 02 2025 г. протокол № 6

Руководитель образовательной программы Е.В. Батракова Е.В. Батракова

Рекомендована методическим советом колледжа
от «08» 02 2025 г. протокол № 3

СОДЕРЖАНИЕ

**1. ОБЩАЯ ХАРАКТЕРИСТИКА РАБОЧЕЙ ПРОГРАММЫ
ОБЩЕОБРАЗОВАТЕЛЬНОЙ УЧЕБНОЙ ДИСЦИПЛИНЫ**

**2. СТРУКТУРА И СОДЕРЖАНИЕ ОБЩЕОБРАЗОВАТЕЛЬНОЙ УЧЕБНОЙ
ДИСЦИПЛИНЫ**

**3. УСЛОВИЯ РЕАЛИЗАЦИИ ПРОГРАММЫ ОБЩЕОБРАЗОВАТЕЛЬНОЙ
УЧЕБНОЙ ДИСЦИПЛИНЫ**

**4. КОНТРОЛЬ И ОЦЕНКА РЕЗУЛЬТАТОВ ОСВОЕНИЯ
ОБЩЕОБРАЗОВАТЕЛЬНОЙ УЧЕБНОЙ ДИСЦИПЛИНЫ**

1. ОБЩАЯ ХАРАКТЕРИСТИКА РАБОЧЕЙ ПРОГРАММЫ ОБЩЕОБРАЗОВАТЕЛЬНОЙ УЧЕБНОЙ ДИСЦИПЛИНЫ

ОУД.03 «МАТЕМАТИКА»

1.1 Место дисциплины в структуре образовательной программы СПО

Общеобразовательная дисциплина «Математика» является обязательной частью общеобразовательного цикла образовательной программы в соответствии с ФГОС по специальности 54.02.01. Дизайн (по отраслям)

1.2. Цели и планируемые результаты освоения дисциплины:

1.2.1. Цель дисциплины

Содержание программы общеобразовательной дисциплины «Математика» направлено на достижение результатов ее изучения в соответствии с требованиями ФГОС СОО с учетом профессиональной направленности ФГОС СПО.

1.2.2. Планируемые результаты освоения общеобразовательной дисциплины в соответствии с ФГОС СПО и на основе ФГОС СОО

Особое значение дисциплина имеет при формировании и развитии ОК и ПК

Общие компетенции	Планируемые результаты обучения	
	Общие	Дисциплинарные
<p>ОК 01. Выбирать способы решения задач профессиональной деятельности применительно к различным контекстам</p>	<p>Умения: распознавать задачу и/или проблему в профессиональном и/или социальном контексте; анализировать задачу и/или проблему и выделять её составные части; определять этапы решения задачи; выявлять и эффективно искать информацию, необходимую для решения задачи и/или проблемы; составить план действия; определить необходимые ресурсы; владеть актуальными методами работы в профессиональной и смежных сферах; реализовать составленный план; оценивать результат и последствия своих действий (самостоятельно или с помощью наставника)</p> <p>Знания: актуальный профессиональный и социальный контекст, в котором приходится работать и жить; основные источники информации и ресурсы для решения задач и проблем в профессиональном и/или социальном контексте; алгоритмы выполнения работ в профессиональной и смежных областях; методы работы в профессиональной и смежных сферах; структуру плана для решения задач; порядок оценки результатов решения задач профессиональной деятельности</p>	<p>владеть методами доказательств, алгоритмами решения задач; умение формулировать определения, аксиомы и теоремы, применять их, проводить доказательные рассуждения в ходе решения задач;</p> <ul style="list-style-type: none"> - уметь оперировать понятиями: степень числа, логарифм числа; умение выполнять вычисление значений и преобразования выражений со степенями и логарифмами, преобразования дробно-рациональных выражений; - уметь оперировать понятиями: рациональные, иррациональные, показательные, степенные, логарифмические, тригонометрические уравнения и неравенства, их системы; - уметь оперировать понятиями: функция, непрерывная функция, производная, первообразная, определенный интеграл; умение находить производные элементарных функций, используя справочные материалы; исследовать в простейших случаях функции на монотонность, находить наибольшие и наименьшие значения функций; строить графики многочленов с использованием аппарата математического анализа; применять производную при решении задач на движение; решать практико-ориентированные задачи на наибольшие и наименьшие значения, на нахождение пути, скорости и ускорения; - уметь оперировать понятиями: рациональная функция, показательная функция, степенная функция, логарифмическая функция, тригонометрические функции, обратные функции; умение строить графики изученных функций, использовать графики при изучении процессов и зависимостей, при решении задач из других учебных предметов и задач из реальной жизни; выражать формулами зависимости между величинами; - уметь решать текстовые задачи разных типов (в том

		<p>числе на проценты, доли и части, на движение, работу, стоимость товаров и услуг, налоги, задачи из области управления личными и семейными финансами); составлять выражения, уравнения, неравенства и их системы по условию задачи, исследовать полученное решение и оценивать правдоподобность результатов;</p> <ul style="list-style-type: none"> - уметь оперировать понятиями: среднее арифметическое, медиана, наибольшее и наименьшее значения, размах, дисперсия, стандартное отклонение числового набора; умение извлекать, интерпретировать информацию, представленную в таблицах, на диаграммах, графиках, отражающую свойства реальных процессов и явлений; представлять информацию с помощью таблиц и диаграмм; исследовать статистические данные, в том числе с применением графических методов и электронных средств; - уметь оперировать понятиями: случайный опыт и случайное событие, вероятность случайного события; умение вычислять вероятность с использованием графических методов; применять формулы сложения и умножения вероятностей, комбинаторные факты и формулы при решении задач; оценивать вероятности реальных событий; знакомство со случайными величинами; умение приводить примеры проявления закона больших чисел в природных и общественных явлениях; - уметь оперировать понятиями: точка, прямая, плоскость, пространство, двугранный угол, скрещивающиеся прямые, параллельность и перпендикулярность прямых и плоскостей, угол между прямыми, угол между прямой и плоскостью, угол между плоскостями, расстояние от точки до плоскости, расстояние между прямыми, расстояние между плоскостями; умение использовать при решении задач изученные факты и теоремы планиметрии;
		<p>плоскостью, угол между плоскостями, расстояние от точки до плоскости, расстояние между прямыми, расстояние между плоскостями; умение использовать при решении задач изученные факты и теоремы планиметрии;</p>

		<p>умение оценивать размеры объектов окружающего мира;</p> <p>- уметь оперировать понятиями: многогранник, сечение многогранника, куб, параллелепипед, призма, пирамида, фигура и поверхность вращения, цилиндр, конус, шар, сфера, сечения фигуры вращения, плоскость, касающаяся сферы, цилиндра, конуса, площадь поверхности пирамиды, призмы, конуса, цилиндра, площадь сферы, объем куба, прямоугольного параллелепипеда, пирамиды, призмы, цилиндра, конуса, шара; умение изображать многогранники и поверхности вращения, их сечения от руки, с помощью чертежных инструментов и электронных средств; умение распознавать симметрию в пространстве; умение распознавать правильные многогранники;</p> <p>уметь оперировать понятиями: движение в пространстве, подобные фигуры в пространстве; использовать отношение площадей поверхностей и объемов подобных фигур при решении задач;</p> <p>- уметь вычислять геометрические величины (длина, угол, площадь, объем, площадь поверхности), используя изученные формулы и методы;</p> <p>- уметь оперировать понятиями: прямоугольная система координат, координаты точки, вектор, координаты вектора, скалярное произведение, угол между векторами, сумма векторов, произведение вектора на число; находить с помощью изученных формул координаты середины отрезка, расстояние между двумя точками;</p> <p>- уметь выбирать подходящий изученный метод для</p>
		<p>решения задачи, распознавать математические факты и математические модели в природных и общественных явлениях, в искусстве; умение приводить примеры математических открытий российской и мировой математической науки</p>
ОК 02. Использовать	Умения: определять задачи для поиска информации;	- уметь оперировать понятиями: рациональная функция,

<p>современные средства поиска, анализа и интерпретации информации, и информационные технологии для выполнения задач профессиональной деятельности</p>	<p>определять необходимые источники информации; планировать процесс поиска; структурировать получаемую информацию; выделять наиболее значимое в перечне информации; оценивать практическую значимость результатов поиска; оформлять результаты поиска; применять средства информационных технологий для решения профессиональных задач; использовать современное программное обеспечение</p> <p>Знания: номенклатура информационных источников, применяемых в профессиональной деятельности; приемы структурирования информации; формат оформления результатов поиска информации; современные средства и устройства информатизации; порядок их применения и программное обеспечение в профессиональной деятельности</p>	<p>показательная функция, степенная функция, логарифмическая функция, тригонометрические функции, обратные функции; умение строить графики изученных функций, использовать графики при изучении процессов и зависимостей, при решении задач из других учебных предметов и задач из реальной жизни; выражать формулами зависимости между величинами;</p> <p>- уметь оперировать понятиями: тождество, тождественное преобразование, уравнение, неравенство, система уравнений и неравенств, равносильность уравнений, неравенств и систем, рациональные, иррациональные, показательные, степенные, логарифмические, тригонометрические уравнения, неравенства и системы; уметь решать уравнения, неравенства и системы с помощью различных приемов; решать уравнения, неравенства и системы с параметром; применять уравнения, неравенства, их системы для решения математических задач и задач из различных областей науки и реальной жизни;</p> <p>- уметь свободно оперировать понятиями: движение, параллельный перенос, симметрия на плоскости и в пространстве, поворот, преобразование подобия, подобные фигуры; уметь распознавать равные и подобные фигуры, в том числе в природе, искусстве, архитектуре; уметь использовать геометрические отношения, находить геометрические величины (длина,</p>
		<p>угол, площадь, объем) при решении задач из других учебных предметов и из реальной жизни</p>
<p>ОК 03. Планировать и реализовывать собственное профессиональное и личностное развитие, предпринимательскую</p>	<p>Умения: определять актуальность нормативно-правовой документации в профессиональной деятельности; применять современную научную профессиональную терминологию; определять и выстраивать траектории профессионального развития и самообразования; выявлять достоинства и недостатки коммерческой идеи; презентовать идеи</p>	<p>- уметь оперировать понятиями: рациональные, иррациональные, показательные, степенные, логарифмические, тригонометрические уравнения и неравенства, их системы;</p> <p>- уметь оперировать понятиями: многогранник, сечение многогранника, куб, параллелепипед, призма, пирамида,</p>

<p>деятельность в профессиональной сфере, использовать знания по правовой и финансовой грамотности в различных жизненных ситуациях</p>	<p>открытия собственного дела в профессиональной деятельности; оформлять бизнес-план; рассчитывать размеры выплат по процентным ставкам кредитования; определять инвестиционную привлекательность коммерческих идей в рамках профессиональной деятельности; презентовать бизнес-идею; определять источники финансирования</p> <p>Знания: содержание актуальной нормативно-правовой документации; современная научная и профессиональная терминология; возможные траектории профессионального развития и самообразования; основы предпринимательской деятельности; основы финансовой грамотности; правила разработки бизнес-планов; порядок выступления презентации; кредитные банковские продукты</p>	<p>фигура и поверхность вращения, цилиндр, конус, шар, сфера, сечения фигуры вращения, плоскость, касающаяся сферы, цилиндра, конуса, площадь поверхности пирамиды, призмы, конуса, цилиндра, площадь сферы, объем куба, прямоугольного параллелепипеда, пирамиды, призмы, цилиндра, конуса, шара; умение изображать многогранники и поверхности вращения, их сечения от руки, с помощью чертежных инструментов и электронных средств; уметь распознавать симметрию в пространстве; уметь распознавать правильные многогранники;</p> <p>- уметь оперировать понятиями: прямоугольная система координат, координаты точки, вектор, координаты вектора, скалярное произведение, угол между векторами, сумма векторов, произведение вектора на число; находить с помощью изученных формул координаты середины отрезка, расстояние между двумя точками</p>
<p>ОК 04. Эффективно взаимодействовать и работать в коллективе и команде</p>	<p>Умения: определять актуальность нормативно-правовой документации в профессиональной деятельности; применять современную научную профессиональную терминологию; определять и выстраивать траектории профессионального развития и самообразования; выявлять достоинства и недостатки коммерческой идеи; презентовать идеи открытия</p>	<p>- уметь оперировать понятиями: случайный опыт и случайное событие, вероятность случайного события; уметь вычислять вероятность с использованием графических методов; применять формулы сложения и умножения вероятностей, комбинаторные факты и формулы при решении задач; оценивать вероятности реальных событий; знакомство со случайными</p>
	<p>собственного дела в профессиональной деятельности; оформлять бизнес-план; рассчитывать размеры выплат по процентным ставкам кредитования; определять инвестиционную привлекательность коммерческих идей в рамках профессиональной деятельности; презентовать бизнес-идею; определять источники финансирования</p> <p>Знания: содержание актуальной нормативно-правовой документации; современная научная и профессиональная терминология; возможные</p>	<p>величинами; умение приводить примеры проявления закона больших чисел в природных и общественных явлениях;</p> <p>- уметь свободно оперировать понятиями: степень с целым показателем, корень натуральной степени, степень с рациональным показателем, степень с действительным (вещественным) показателем, логарифм числа, синус, косинус и тангенс произвольного числа;</p> <p>- уметь свободно оперировать понятиями: график функции, обратная функция, композиция функций,</p>

	<p>траектории профессионального развития и самообразования; основы предпринимательской деятельности; основы финансовой грамотности; правила разработки бизнес-планов; порядок выстраивания презентации; кредитные банковские продукты</p>	<p>линейная функция, квадратичная функция, степенная функция с целым показателем, тригонометрические функции, обратные тригонометрические функции, показательная и логарифмическая функции; уметь строить графики функций, выполнять преобразования графиков функций;</p> <ul style="list-style-type: none"> - уметь использовать графики функций для изучения процессов и зависимостей при решении задач из других учебных предметов и из реальной жизни; выразить формулами зависимости между величинами; - свободно оперировать понятиями: четность функции, периодичность функции, ограниченность функции, монотонность функции, экстремум функции, наибольшее и наименьшее значения функции на промежутке; уметь проводить исследование функции; - уметь использовать свойства и графики функций для решения уравнений, неравенств и задач с параметрами; изображать на координатной плоскости множества решений уравнений, неравенств и их систем
<p>ОК 05. Осуществлять устную и письменную коммуникацию на</p>	<p>Умения: грамотно излагать свои мысли и оформлять документы по профессиональной тематике на государственном языке, проявлять толерантность в</p>	<ul style="list-style-type: none"> - уметь оперировать понятиями: среднее арифметическое, медиана, наибольшее и наименьшее значения, размах, дисперсия, стандартное отклонение числового набора;
<p>государственном языке Российской Федерации с учетом особенностей социального и культурного контекста</p>	<p>рабочем коллективе;</p> <ul style="list-style-type: none"> - убежденность в значимости для личности и общества отечественного и мирового искусства, этнических культурных традиций и народного творчества; - готовность к самовыражению в разных видах искусства, стремление проявлять качества творческой личности; <p>Знания: особенности социального и культурного контекста; правила оформления документов и построения устных сообщений.</p>	<p>умение извлекать, интерпретировать информацию, представленную в таблицах, на диаграммах, графиках, отражающую свойства реальных процессов и явлений; представлять информацию с помощью таблиц и диаграмм; исследовать статистические данные, в том числе с применением графических методов и электронных средств;</p> <ul style="list-style-type: none"> - уметь оперировать понятиями: точка, прямая, плоскость, пространство, двугранный угол, скрещивающиеся прямые, параллельность и перпендикулярность прямых и плоскостей, угол между прямыми, угол между прямой и плоскостью, угол между плоскостями, расстояние от

		<p>точки до плоскости, расстояние между прямыми, расстояние между плоскостями;</p> <p>- уметь использовать при решении задач изученные факты и теоремы планиметрии; умение оценивать размеры объектов окружающего мира</p>
<p>ОК 06. Проявлять гражданско-патриотическую позицию, демонстрировать осознанное поведение на основе традиционных российских духовно-нравственных ценностей, в том числе с учетом гармонизации межнациональных и межрелигиозных отношений, применять стандарты антикоррупционного поведения;</p>	<p>Умения: описывать значимость своей специальности; применять стандарты антикоррупционного поведения.</p> <p>Знания: сущность гражданско-патриотической позиции, общечеловеческих ценностей; значимость профессиональной деятельности по специальности; стандарты антикоррупционного поведения и последствия его нарушения.</p>	<p>- уметь решать текстовые задачи разных типов (в том числе на проценты, доли и части, на движение, работу, стоимость товаров и услуг, налоги, задачи из области управления личными и семейными финансами); составлять выражения, уравнения, неравенства и их системы по условию задачи, исследовать полученное решение и оценивать правдоподобность результатов;</p> <p>- уметь оперировать понятиями: определение, аксиома, теорема, следствие, свойство, признак, доказательство, равносильные формулировки; уметь формулировать обратное и противоположное утверждение, приводить примеры и контрпримеры, использовать метод математической индукции; проводить доказательные рассуждения при решении задач, оценивать логическую правильность рассуждений;</p> <p>- уметь свободно оперировать понятиями: последовательность, арифметическая прогрессия,</p>
		<p>геометрическая прогрессия, бесконечно убывающая геометрическая прогрессия; уметь задавать последовательности, в том числе с помощью рекуррентных формул;</p> <p>- уметь выбирать подходящий метод для решения задачи; понимание значимости математики в изучении природных и общественных процессов и явлений; уметь распознавать проявление законов математики в искусстве, уметь приводить примеры математических открытий российской и мировой математической науки</p>
<p>ОК 07. Содействовать сохранению окружающей среды, ресурсосбережению, применять знания об</p>	<p>Умения: соблюдать нормы экологической безопасности; определять направления ресурсосбережения в рамках профессиональной деятельности по специальности</p> <p>Знания: правила экологической безопасности при</p>	<p>- уметь оперировать понятиями: функция, непрерывная функция, производная, первообразная, определенный интеграл; уметь находить производные элементарных функций, используя справочные материалы; исследовать в простейших случаях функции на монотонность,</p>

<p>изменении климата, принципы бережливого производства, эффективно действовать в чрезвычайных ситуациях</p>	<p>ведении профессиональной деятельности; основные ресурсы, задействованные в профессиональной деятельности; пути обеспечения ресурсосбережения</p>	<p>находить наибольшие и наименьшие значения функций; строить графики многочленов с использованием аппарата математического анализа; применять производную при решении задач на движение; решать практико-ориентированные задачи на наибольшие и наименьшие значения, нахождение пути, скорости и ускорения;</p> <ul style="list-style-type: none"> - уметь оперировать понятиями: движение в пространстве, подобные фигуры в пространстве; использовать отношение площадей поверхностей и объемов подобных фигур при решении задач; - уметь вычислять геометрические величины (длина, угол, площадь, объем, площадь поверхности), используя изученные формулы и методы
<p>ПК.1.1. Разрабатывать техническое задание согласно требованиям заказчика</p>	<p>- разработки технического задания согласно требованиям заказчика</p> <p>Умения: разрабатывать концепцию проекта;</p>	<p>- уметь решать текстовые задачи разных типов (в том числе на проценты, доли и части, на движение, работу, стоимость товаров и услуг, налоги, задачи из области управления личными и семейными финансами); составлять выражения, уравнения, неравенства и их</p>
	<p>находить художественные специфические средства, новые образно-пластические решения для каждой творческой задачи;</p> <p>выбирать графические средства в соответствии с тематикой и задачами проекта;</p> <p>владеть классическими изобразительными и техническими приемами, материалами и средствами проектной графики и макетирования</p> <p>Знания: современные тенденции в области дизайна; теоретические основы композиционного построения в графическом и в объемно-пространственном дизайне</p>	<p>системы по условию задачи, исследовать полученное решение и оценивать правдоподобность результатов;</p>

2. СТРУКТУРА И СОДЕРЖАНИЕ ОБЩЕОБРАЗОВАТЕЛЬНОЙ УЧЕБНОЙ ДИСЦИПЛИНЫ

2.1. Объем общеобразовательной учебной дисциплины и виды учебной работы

Вид учебной работы	Объем в часах
Объем образовательной программы	242
Индивидуальный проект	-
Консультации	2
Суммарная учебная нагрузка во взаимодействии с преподавателем	234
в том числе:	
лекции, уроки	156
практические занятия	78
лабораторные занятия	-
из них профессионально ориентированное содержание (содержание прикладного модуля)	40
Промежуточная аттестация: экзамен	6

2.2. Тематический план и содержание общеобразовательной учебной дисциплины

Наименование разделов и тем	Содержание учебного материала и формы организации деятельности обучающихся	Объем в часах	Коды компетенций, формированию которых способствует элемент программы
1	2	3	4
Раздел 1. Повторение курса математики основной школы		18	ОК 01, ОК 02, ОК 03, ОК 04, ОК 05, ОК 06 ПК-1.1
Тема 1.1	Содержание учебного материала	4	
Цель и задачи математики при освоении специальности.	Цель и задачи математики при освоении специальности.		
Числа и вычисления	Базовые знания и умения по математике в профессиональной и в повседневной деятельности.		
	Действия над положительными и отрицательными числами, с обыкновенными и десятичными дробями.		
	Действия со степенями, формулы сокращенного умножения		
	Комбинированное занятие	4	
Тема 1.2	Содержание учебного материала	4	
Процентные вычисления.	Простые проценты, разные способы их вычисления.		
Уравнения и неравенства	Комбинированное занятие	2	
	Линейные, квадратные, дробно-линейные уравнения и неравенства		
	Практическое занятие	2	
Тема 1.3.	Профессионально-ориентированное содержание (содержание прикладного модуля)	6	
Процентные вычисления в профессиональных задачах	Простые и сложные проценты. Процентные вычисления в профессиональных задачах		
	Практическое занятие	6	
Тема 1.4	Содержание учебного материала	4	
Решение задач. Входной контроль	Вычисления и преобразования. Уравнения и неравенства. Геометрия на плоскости		
	Комбинированное занятие	4	
Раздел 2 Прямые и плоскости в пространстве. Координаты и векторы в пространстве		36	ОК 01, ОК 03, ОК 04, ОК 07 ПК-1.1
Тема 2.1. Основные понятия стереометрии. Расположение прямых и плоскостей	Содержание учебного материала	4	
	Предмет стереометрии. Основные понятия (точка, прямая, плоскость, пространство). Основные аксиомы стереометрии. Пересекающиеся, параллельные и скрещивающиеся прямые. Угол между прямыми в пространстве. Перпендикулярность прямых. Основные пространственные фигуры		

	Комбинированное занятие	4	
Тема 2.2. Параллельность прямых, прямой и плоскости, плоскостей	Содержание учебного материала	6	
	Параллельные прямая и плоскость. Определение. Признак. Свойства. Параллельные плоскости. Определение. Признак. Свойства.		
	Тетраэдр и его элементы.		
	Комбинированное занятие	4	
	Параллелепипед и его элементы. Свойства противоположных граней и диагоналей параллелепипеда. Построение основных сечений		
	Практическое занятие	2	
Тема 2.3. Перпендикулярность прямых, прямой и плоскости, плоскостей	Содержание учебного материала	4	
	Перпендикулярные прямые. Параллельные прямые, перпендикулярные к плоскости. Признак перпендикулярности прямой и плоскости		
	Комбинированное занятие	4	
Тема 2.4. Перпендикуляр и наклонная. Теорема о трех перпендикулярах	Содержание учебного материала	4	
	Перпендикуляр и наклонная. Теорема о трех перпендикулярах. Угол между прямой и плоскостью. Угол между плоскостями. Перпендикулярные плоскости. Расстояния в пространстве		
	Комбинированное занятие	4	
	Практическое занятие	2	
Тема 2.5. Координаты и векторы в пространстве	Содержание учебного материала	6	
	Декартовы координаты в пространстве. Векторы в пространстве. Сложение и вычитание векторов. Умножение вектора на число. Скалярное произведение векторов.		
	Комбинированное занятие	4	
	Простейшие задачи в координатах		
	Практическое занятие	2	
Тема 2.6. Прямые и плоскости в практических задачах	Профессионально-ориентированное содержание (содержание прикладного модуля)	6	
	Взаимное расположение прямых в пространстве. Параллельность прямой и плоскости, параллельность плоскостей, перпендикулярность плоскостей. Расположение прямых и плоскостей в окружающем мире (природе, архитектуре, технике). Решение практико-ориентированных задач		
	Практическое занятие	6	
Тема 2.7 Решение задач. Прямые и плоскости, координаты и векторы в	Содержание учебного материала	4	
	Расположение прямых и плоскостей в пространстве. Перпендикулярность и параллельность прямых и плоскостей. Декартовы координаты в		

пространстве	пространстве. Векторы в пространстве. Сложение и вычитание векторов. Умножение вектора на число. Координаты вектора		ОК 01, ОК 02, ОК 03, ОК 04, ОК 05
	Комбинированное занятие	4	
Раздел 3. Основы тригонометрии. Тригонометрические функции		24	
Тема 3.1 Тригонометрические функции произвольного угла, числа	Содержание учебного материала	4	
	Радианная мера угла. Поворот точки вокруг начала координат. Определение синуса, косинуса, тангенса и котангенса. Знаки синуса, косинуса, тангенса и котангенса по четвертям. Зависимость между синусом, косинусом, тангенсом и котангенсом одного и того же угла		
	Комбинированное занятие	4	
Тема 3.2 Основные тригонометрические тождества	Содержание учебного материала	4	
	Тригонометрические тождества. Преобразования простейших тригонометрических выражений. Синус, косинус, тангенс и котангенс углов α и $-\alpha$		
	Комбинированное занятие	4	
Тема 3.3 Тригонометрические функции, их свойства и графики	Содержание учебного материала	6	
	Область определения и множество значений тригонометрических функций. Чётность, нечётность, периодичность тригонометрических функций. Свойства и графики функций $y = \cos x$, $y = \sin x$, $y = \operatorname{tg} x$, $y = \operatorname{ctg} x$.		
	Комбинированное занятие	4	
	Сжатие и растяжение графиков тригонометрических функций. Преобразование графиков тригонометрических функций		
	Практическое занятие	2	
Тема 3.4 Обратные тригонометрические функции	Содержание учебного материала	4	
	Обратные тригонометрические функции. Их свойства и графики.		
	Комбинированное занятие	4	
Тема 3.5 Тригонометрические уравнения и неравенства	Содержание учебного материала	6	
	Уравнение $\cos x = a$. Уравнение $\sin x = a$. Уравнение $\operatorname{tg} x = a$, $\operatorname{ctg} x = a$. Решение тригонометрических уравнений основных типов: простейшие тригонометрические уравнения, сводящиеся к квадратным., решаемые разложением на множители, однородные.		
	Комбинированное занятие	4	
	Простейшие тригонометрические неравенства		
Тема 3.6 Решение задач.	Содержание учебного материала		
	Преобразование тригонометрических выражений. Решение		
Основы тригонометрии.	тригонометрических уравнений и неравенств в том числе с использованием		

Тригонометрические функции	свойств функций		
	Практическое занятие		2
Раздел 4. Производная и первообразная функции			48
			ОК 01, ОК 03, ОК 04, ОК 06, ОК 07 <i>ПК-1.1</i>
Тема 4.1 Понятие производной. Формулы и правила дифференцирования	Содержание учебного материала		8
	Приращение аргумента. Приращение функции. Задачи, приводящие к понятию производной. Определение производной. Алгоритм отыскания производной. Формулы дифференцирования. Правила дифференцирования		
	Комбинированное занятие		4
	Формулы дифференцирования. Правила дифференцирования		
	Практическое занятие		4
Тема 4.2 Понятие о непрерывности функции. Метод интервалов	Содержание учебного материала		8
	Понятие непрерывной функции. Свойства непрерывной функции. Связь между непрерывностью и дифференцируемостью функции в точке.		
	Комбинированное занятие		4
	Алгоритм решения неравенств методом интервалов		
	Практическое занятие		4
Тема 4.3 Геометрический и физический смысл производной	Содержание учебного материала		4
	Геометрический смысл производной функции – угловой коэффициент касательной к графику функции в точке. Уравнение касательной к графику функции.		
	Комбинированное занятие		2
	Алгоритм составления уравнения касательной к графику функции $y=f(x)$		
	Практическое занятие		2
Тема 4.4 Монотонность функции. Точки экстремума	Содержание учебного материала		4
	Возрастание и убывание функции, соответствие возрастания и убывания функции знаку производной. Задачи на максимум и минимум.		
	Комбинированное занятие		2
	Алгоритм исследования функции и построения ее графика с помощью производной		
	Практическое занятие		2
Тема 4.5 Исследование	Содержание учебного материала		6

функций и построение графиков	Исследование функции на монотонность и построение графиков		ОК 01, ОК 04, ОК 06, ОК 07 ПК-1.1
	Комбинированное занятие	2	
	Исследование функции на монотонность и построение графиков		
	Практическое занятие	4	
Тема 4.6 Наибольшее и наименьшее значения функции	Содержание учебного материала	2	
	Нахождение наибольшего и наименьшего значений функций, построение графиков с использованием аппарата математического анализа		
	Комбинированное занятие	2	
Тема 4.7 Нахождение оптимального результата с помощью производной в практических задачах	Профессионально-ориентированное содержание (содержание прикладного модуля)	6	
	Наименьшее и наибольшее значение функции		
	Практическое занятие	6	
Тема 4.8 Первообразная функции. Правила нахождения первообразных	Содержание учебного материала	4	
	Ознакомление с понятием интеграла и первообразной для функции $y=f(x)$. Решение задач на связь первообразной и ее производной, вычисление первообразной для данной функции. Таблица формул для нахождения первообразных. Изучение правила вычисления первообразной		
	Комбинированное занятие	2	
	Правила нахождения первообразных		
	Практическое занятие	2	
Тема 4.9 Площадь криволинейной трапеции. Формула Ньютона – Лейбница	Содержание учебного материала	4	
	Задачи, приводящие к понятию определенного интеграла – о вычислении площади криволинейной трапеции. Понятие определённого интеграла Геометрический и физический смысл определенного интеграла. Формула Ньютона – Лейбница.		
	Комбинированное занятие	2	
	Решение задач на применение интеграла для вычисления физических величин и площадей		
	Практическое занятие	2	
Тема 4.10 Решение задач. Производная и первообразная функции.	Содержание учебного материала	2	
	Формулы и правила дифференцирования. Исследование функций с помощью производной. Наибольшее и наименьшее значения функции. Вычисление первообразной. Применение первообразной		
	Комбинированное занятие	2	

Раздел 5. Многогранники и тела вращения		34
Тема 5.1 Призма, параллелепипед, куб, пирамида и их сечения	Содержание учебного материала	8
	Призма (наклонная, прямая, правильная) и её элементы. Параллелепипед. Свойства прямоугольного параллелепипеда. Куб. Пирамида и её элементы. Правильная пирамида	
	Комбинированное занятие	8
Тема 5.2 Правильные многогранники в жизни	Содержание учебного материала	4
	Площадь поверхности многогранников. Простейшие комбинации многогранников. Вычисление элементов пространственных фигур (ребра, диагонали, углы). Правильные многогранники	
	Комбинированное занятие	4
Тема 5.3 Цилиндр, конус, шар и их сечения	Профессионально-ориентированное содержание (содержание прикладного модуля)	4
	Цилиндр, конус, сфера и шар. Основные свойства прямого кругового цилиндра, прямого кругового конуса. Изображение тел вращения на плоскости. Представление об усечённом конусе. Сечения конуса (параллельное основанию и проходящее через вершину), сечения цилиндра (параллельно и перпендикулярно оси), сечениях шара. Развёртка цилиндра и конуса	
	Практическое занятие	4
Тема 5.4 Объемы и площади поверхностей тел	Содержание учебного материала	8
	Объем прямоугольного параллелепипеда. Объем куба. Объемы прямой призмы и цилиндра. Объемы пирамиды и конуса. Объем шара	
	Комбинированное занятие	6
	Объемы и площади поверхностей тел	
Тема 5.5 Примеры симметрий в профессии	Практическое занятие	2
	Профессионально-ориентированное содержание (содержание прикладного модуля)	6
	Понятие о симметрии в пространстве (центральная, осевая, зеркальная). Обобщение представлений о правильных многогранниках (тетраэдр, куб, октаэдр, додекаэдр, икосаэдр). Примеры симметрий в профессии	
	Практическое занятие	6
Тема 5.6 Решение задач. Многогранники и тела	Содержание учебного материала	4
	Объемы и площади поверхности многогранников и тел вращения	

вращения	Комбинированное занятие	4	
Раздел 6. Степени и корни. Степенная, показательная и логарифмическая функции		42	
Тема 6.1 Степенная функция, ее свойства. Преобразование выражений с корнями n-ой степени	Содержание учебного материала	4	
	Понятие корня n-ой степени из действительного числа. Функции $y = \sqrt[n]{x}$ их свойства и графики. Свойства корня n-ой степени. Преобразование иррациональных выражений		
	Комбинированное занятие	4	
Тема 6.2 Свойства степени с рациональным и действительным показателями	Содержание учебного материала	6	
	Понятие степени с рациональным показателем. Степенные функции, их свойства и графики		
	Комбинированное занятие	6	
Тема 6.3 Решение иррациональных уравнений	Содержание учебного материала	4	
	Равносильность иррациональных уравнений. Методы их решения		
	Комбинированное занятие	4	
Тема 6.4 Показательная функция, ее свойства. Показательные уравнения и неравенства	Содержание учебного материала	8	
	Степень с произвольным действительным показателем. Определение показательной функции и ее свойства. Знакомство с применением показательной функции. Решение показательных уравнений методом уравнивания показателей, методом введения новой переменной, функционально-графическим методом. Решение показательных неравенств		
	Комбинированное занятие	6	
	Показательные уравнения и неравенства		
Тема 6.5 Логарифм числа. Свойства логарифмов	Содержание учебного материала	6	
	Логарифм числа. Свойства логарифмов. Операция логарифмирования		
	Комбинированное занятие	6	
Тема 6.6 Логарифмическая функция, ее свойства. Логарифмические уравнения, неравенства	Содержание учебного материала	8	
	Логарифмическая функция и ее свойства. Понятие логарифмического уравнения. Операция потенцирования. Три основных метода решения логарифмических уравнений: функционально-графический, метод потенцирования, метод введения новой переменной. Логарифмические неравенства		
	Комбинированное занятие	6	
	Логарифмические уравнения, неравенства		
	Практическое занятие	2	
Тема 6.7 Логарифмы в	<i>Профессионально-ориентированное содержание (содержание</i>	4	

ОК 01, ОК 02, ОК 03, ОК 05,
ОК 07
ПК-1.1

природе и технике	прикладного модуля)			
	Применение логарифма. Логарифмическая спираль в природе. Ее математические свойства			
	Практическое занятие		4	
Тема 6.8 Решение задач. Степенная, показательная логарифмическая функции	Содержание учебного материала		2	
	Степенная, показательная и логарифмическая функции. Решение уравнений			
	Комбинированное занятие		2	
Раздел 7. Элементы теории вероятностей и математической статистики			32	
Тема 7.1 Событие, вероятность события. Сложение и умножение вероятностей	Содержание учебного материала		8	ОК 02, ОК 03, ОК 05 , ПК-1.1
	Совместные и несовместные события. Теоремы о вероятности суммы событий. Условная вероятность. Зависимые и независимые события. Теоремы о вероятности произведения событий			
	Комбинированное занятие		8	
Тема 7.2 Вероятность в профессиональных задачах	Профессионально-ориентированное содержание (содержание прикладного модуля)		8	
	Относительная частота события, свойство ее устойчивости. Статистическое определение вероятности. Оценка вероятности события			
	Практическое занятие		8	
Тема 7.3 Дискретная случайная величина, закон ее распределения	Содержание учебного материала		8	
	Виды случайных величин. Определение дискретной случайной величины. Закон распределения дискретной случайной величины. Ее числовые характеристики			
	Комбинированное занятие		8	
Тема 7.4 Задачи математической статистики.	Содержание учебного материала		6	
	Первичная обработка статистических данных. Числовые характеристики (среднее арифметическое, медиана, размах, дисперсия).			
	Комбинированное занятие		4	
	Работа с таблицами, графиками, диаграммами			
	Практическое занятие		2	
Тема 7.5 Элементы теории вероятностей и математической статистики	Содержание учебного материала		2	
	Виды событий, вероятность событий. Сложение и умножение вероятностей. Дискретная случайная величина, закон ее распределения. Задачи математической статистики.			

	Комбинированное занятие	2	
Консультации		2	
Промежуточная аттестация:			
1 семестр – другая форма контроля;			
2 семестр - экзамен		6	
Всего:		242	

3. УСЛОВИЯ РЕАЛИЗАЦИИ ПРОГРАММЫ ОБЩЕОБРАЗОВАТЕЛЬНОЙ УЧЕБНОЙ ДИСЦИПЛИНЫ

3.1. Для реализации программы общеобразовательной учебной дисциплины предусмотрены следующие специальные помещения:

Рабочие места преподавателя и обучающихся: доска меловая – 1 шт., стол ученический – 17 шт., стул ученический – 30 шт., стол – 1 шт., стул – 1 шт. Технические средства обучения: персональный компьютер в сборе; многофункциональное устройство; комплект проекционный мультимедийный в составе (проектор, экран)

3.2. Информационное обеспечение реализации программы

Баврин, И. И. Математика для технических колледжей и техникумов : учебник и практикум для среднего профессионального образования / И. И. Баврин. — 2-е изд., испр. и доп. — Москва : Издательство Юрайт, 2023. — 397 с. — (Профессиональное образование). — ISBN 978-5-534-08026-1. — Текст : электронный // Образовательная платформа Юрайт [сайт]. — URL: https://urait.ru/bcode/512900 .
Математика: алгебра и начала математического анализа, геометрия. Алгебра и начала математического анализа 10-11кл [Текст]: учебник: базовый и углубленный уровни / Ш.А.Алимов, Ю.М.Колягин, М.В.Ткачева и др.- 12-е изд, стер.- М.: Просвещение, 2024.- 463с.
Математика: алгебра и начала математического анализа, геометрия. Геометрия 10-11кл [Текст]: учебник: базовый и углубленный уровни / Л.С.Атанасян, В.Ф.Бутузов, С.Б.Кадомцев и др.- 11-е изд, стер.- М.: Просвещение, 2023.- 287с.
Богомолов, Н. В. Математика : учебник для среднего профессионального образования / Н. В. Богомолов, П. И. Самойленко. — 5-е изд., перераб. и доп. — Москва : Издательство Юрайт, 2023. — 401 с. — (Профессиональное образование). — ISBN 978-5-534-07878-7. — Текст : электронный // Образовательная платформа Юрайт [сайт]. — URL: https://urait.ru/bcode/511565 .

4. КОНТРОЛЬ И ОЦЕНКА РЕЗУЛЬТАТОВ ОСВОЕНИЯ ОБЩЕОБРАЗОВАТЕЛЬНОЙ УЧЕБНОЙ ДИСЦИПЛИНЫ

Контроль и оценка результатов освоения общеобразовательной дисциплины раскрываются через дисциплинарные результаты, направленные на формирование общих и профессиональных компетенций по разделам и темам содержания учебного материала.

Общая/профессиональная компетенция	Раздел/Тема	Тип оценочных мероприятий
ОК 01. Выбирать способы решения задач профессиональной деятельности применительно к различным контекстам	Р 1, Тема 1.1, 1.2, 1.3 П-о/с, 1.4. Р 2, Темы 2.1, 2.2, 2.3, 2.4, 2.5, 2.6 П-о/с, 2.7 Р 3, Темы 3.1, 3.2, 3.3, 3.4, 3.5, 3.6 Р 4, Темы 4.1, 4.2, 4.3, 4.4, 4.5, 4.6, 4.7 П-о/с, 4.8, 4.9, 4.10 Р 5, Темы 5.1, 5.2, 5.3 П-о/с, 5.4, 5.5, 5.6 Р 6, Темы 6.1, 6.2, 6.3, 6.4, 6.5, 6.6, 6.7 П-о/с, 6.8	Тестирование Устный опрос Индивидуальная самостоятельная работа Представление результатов практических работ Защита творческих работ Контрольная работа Выполнение заданий на экзамене
ОК 02.Использовать современные средства поиска, анализа и интерпретации информации, и информационные технологии для выполнения задач профессиональной деятельности	Р 1, Тема 1.1, 1.2, 1.3 П-о/с, 1.4. Р 3, Темы 3.1, 3.2, 3.3, 3.4, 3.5, 3.6 Р 6, Темы 6.1, 6.2, 6.3, 6.4, 6.5, 6.6, 6.7 П-о/с, 6.8 Р 7, Темы 7.1, 7.2 П-о/с, 7.3, 7.4	Тестирование Устный опрос Индивидуальная самостоятельная работа Представление результатов практических работ Контрольная работа Выполнение заданий на экзамене
ОК 03.Планировать и реализовывать собственное профессиональное и личностное развитие, предпринимательскую деятельность в профессиональной сфере, использовать знания по финансовой грамотности в различных жизненных ситуациях	Р 1, Тема 1.1, 1.2, 1.3 П-о/с, 1.4. Р 2, Темы 2.1, 2.2, 2.3, 2.4, 2.5, 2.6 П-о/с, 2.7 Р 3, Темы 3.1, 3.2, 3.3, 3.4, 3.5, 3.6 Р 4, Темы 4.1, 4.2, 4.3, 4.4, 4.5, 4.6, 4.7 П-о/с, 4.8, 4.9, 4.10 Р 6, Темы 6.1, 6.2, 6.3, 6.4, 6.5, 6.6, 6.7 П-о/с, 6.8 Р 7, Темы 7.1, 7.2 П-о/с, 7.3, 7.4	Тестирование Устный опрос Индивидуальная самостоятельная работа Представление результатов практических работ Контрольная работа Выполнение заданий на экзамене
ОК 04.Эффективно взаимодействовать и работать в	Р 1, Тема 1.1, 1.2, 1.3 П-о/с, 1.4.	Тестирование Устный опрос
коллективе и команде	Р 2, Темы 2.1, 2.2, 2.3, 2.4, 2.5, 2.6 П-о/с, 2.7	Индивидуальная самостоятельная работа

	<p>Р 3, Темы 3.1, 3.2, 3.3, 3.4, 3.5, 3.6</p> <p>Р 4, Темы 4.1, 4.2, 4.3, 4.4, 4.5, 4.6, 4.7 П-о/с, 4.8, 4.9, 4.10</p> <p>Р 5, Темы 5.1, 5.2, 5.3 П-о/с, 5.4, 5.5, 5.6</p>	<p>Представление результатов практических работ</p> <p>Контрольная работа</p> <p>Выполнение заданий на экзамене</p>
<p>ОК 05.Осуществлять устную и письменную коммуникацию на государственном языке Российской Федерации с учетом особенностей социального и культурного контекста</p>	<p>Р 1, Тема 1.1, 1.2, 1.3 П-о/с, 1.4.</p> <p>Р 3, Темы 3.1, 3.2, 3.3, 3.4, 3.5, 3.6</p> <p>Р 6, Темы 6.1, 6.2, 6.3, 6.4, 6.5, 6.6, 6.7 П-о/с, 6.8</p> <p>Р 7, Темы 7.1, 7.2 П-о/с, 7.3, 7.4</p>	<p>Тестирование</p> <p>Устный опрос</p> <p>Индивидуальная самостоятельная работа</p> <p>Представление результатов практических работ</p> <p>Контрольная работа</p> <p>Выполнение заданий на экзамене</p>
<p>ОК 06.Проявлять гражданско-патриотическую позицию, демонстрировать осознанное поведение на основе традиционных общечеловеческих ценностей, в том числе с учетом гармонизации межнациональных и межрелигиозных отношений, применять стандарты антикоррупционного поведения</p>	<p>Р 1, Тема 1.1, 1.2, 1.3 П-о/с, 1.4.</p> <p>Р 4, Темы 4.1, 4.2, 4.3, 4.4, 4.5, 4.6, 4.7 П-о/с, 4.8, 4.9, 4.10</p> <p>Р 5, Темы 5.1, 5.2, 5.3 П-о/с, 5.4, 5.5, 5.6</p>	<p>Тестирование</p> <p>Устный опрос</p> <p>Индивидуальная самостоятельная работа</p> <p>Представление результатов практических работ</p> <p>Контрольная работа</p> <p>Выполнение заданий на экзамене</p>
<p>ОК 07.Содействовать сохранению окружающей среды, ресурсосбережению, применять знания об изменении климата, принципы бережливого производства, эффективно действовать в чрезвычайных ситуациях</p>	<p>Р 2, Темы 2.1, 2.2, 2.3, 2.4, 2.5, 2.6 П-о/с, 2.7</p> <p>Р 4, Темы 4.1, 4.2, 4.3, 4.4, 4.5, 4.6, 4.7 П-о/с, 4.8, 4.9, 4.10</p> <p>Р 5, Темы 5.1, 5.2, 5.3 П-о/с, 5.4, 5.5, 5.6</p> <p>Р 6, Темы 6.1, 6.2, 6.3, 6.4, 6.5, 6.6, 6.7 П-о/с, 6.8</p>	<p>Тестирование</p> <p>Устный опрос</p> <p>Индивидуальная самостоятельная работа</p> <p>Представление результатов практических работ</p> <p>Контрольная работа</p> <p>Выполнение заданий на экзамене</p>
<p>ПК1.1. Разрабатывать техническое задание согласно требованиям заказчика;</p>	<p>Р.1.Темы 1.1-1.4,</p> <p>Р.2.Темы 2.1-2.7,</p> <p>Р.4.Темы 4.1-4.10</p> <p>Р 3. Темы 3.1-3.6</p> <p>Р 5. Темы 5.1-5.6</p> <p>Р 6 Темы 6.1-6.6</p>	<p>Тестирование</p> <p>Устный опрос</p> <p>Индивидуальная самостоятельная работа</p> <p>Представление результатов практических работ</p>
		<p>Контрольная работа</p> <p>Выполнение заданий на экзамене</p>

**МИНИСТЕРСТВО НАУКИ И ВЫСШЕГО ОБРАЗОВАНИЯ РОССИЙСКОЙ ФЕДЕРАЦИИ
ФЕДЕРАЛЬНОЕ ГОСУДАРСТВЕННОЕ БЮДЖЕТНОЕ УЧРЕЖДЕНИЕ ВЫСШЕГО
ОБРАЗОВАНИЯ «СЕВЕРО-КАВКАЗСКАЯ ГОСУДАРСТВЕННАЯ АКАДЕМИЯ»**

СРЕДНЕПРОФЕССИОНАЛЬНЫЙ КОЛЛЕДЖ

Фонд оценочных средств

для проведения текущего контроля и промежуточной аттестации
образовательной программы

общеобразовательной учебной дисциплины «Математика»

для специальности 54.02.01 Дизайн (по отраслям)

форма проведения оценочной процедуры

экзамен

г. Черкесск, 2025

1. ОБЩИЕ ПОЛОЖЕНИЯ.

Фонд оценочных средств (ФОС) предназначен для контроля и оценки образовательных достижений обучающихся, освоивших программу общеобразовательной учебной дисциплины «Математика».

ФОС включает контрольные материалы для проведения текущего контроля и промежуточной аттестации в форме *экзамена*.

ФОС разработан в соответствии с Федеральным государственным образовательным стандартом среднего общего образования и рабочей программой общеобразовательной учебной дисциплины «Математика».

II. РЕЗУЛЬТАТЫ ОСВОЕНИЯ ОБЩЕОБРАЗОВАТЕЛЬНОЙ УЧЕБНОЙ ДИСЦИПЛИНЫ, ПОДЛЕЖАЩЕЙ ПРОВЕРКЕ

Общие компетенции	Планируемые результаты освоения дисциплины		Показатели оценки
	Общие	Дисциплинарные	
ОК 01. Выбирать способы решения задач профессиональной деятельности применительно к различным контекстам ОК 02.Использовать современные средства поиска, анализа и интерпретации информации, и информационные технологии для выполнения задач профессиональной деятельности ОК 03. Планировать и реализовывать собственное профессиональное и личностное развитие, предпринимательскую деятельность в профессиональной сфере, использовать знания по правовой и финансовой грамотности в различных жизненных ситуациях; ОК 04.Эффективно взаимодействовать и работать в коллективе и команде ОК 05.Осуществлять	В части трудового воспитания: - готовность к труду, осознание ценности мастерства, трудолюбие; - готовность к активной деятельности технологической и социальной направленности, способность инициировать, планировать и самостоятельно выполнять такую деятельность; - интерес к различным сферам профессиональной деятельности, Овладение универсальными учебными познавательными действиями: а) базовые логические действия: - самостоятельно формулировать и актуализировать проблему, рассматривать ее всесторонне;	-владеть методами доказательств, алгоритмами решения задач; умение формулировать определения, аксиомы и теоремы, применять их, проводить доказательные рассуждения в ходе решения задач; - уметь оперировать понятиями: степень числа, логарифм числа; умение выполнять вычисление значений и преобразования выражений со степенями и логарифмами, преобразования дробно-рациональных выражений; - уметь оперировать понятиями: рациональные, иррациональные, показательные, степенные, логарифмические, тригонометрические уравнения и неравенства, их системы; - уметь оперировать понятиями: функция, непрерывная функция,	Практические задания Тестирование Задания для входного контроля (обязательная часть, дополнительная часть) Задания для проведения текущего контроля (теоретические вопросы – устный опрос, контрольные работы) Задания для рубежного контроля Экзаменационные задания

<p>устную и письменную коммуникацию на государственном языке Российской Федерации с учетом особенностей социального и культурного контекста</p> <p>ОК 06. Проявлять гражданско-патриотическую позицию, демонстрировать осознанное поведение на основе традиционных российских духовно-нравственных ценностей, в том числе с учетом гармонизации межнациональных и межрелигиозных отношений, применять стандарты антикоррупционного поведения;</p> <p>ОК 07. Содействовать сохранению окружающей среды, ресурсосбережению, применять знания об изменении климата, принципы бережливого производства, эффективно действовать в чрезвычайных ситуациях</p> <p>ПК 1.1. Разрабатывать техническое задание согласно требованиям заказчика</p>	<ul style="list-style-type: none"> - устанавливать существенный признак или основания для сравнения, классификации и обобщения; - определять цели деятельности, задавать параметры и критерии их достижения; - выявлять закономерности и противоречия в рассматриваемых явлениях; - вносить коррективы в деятельность, оценивать соответствие результатов целям, оценивать риски последствий деятельности; - развивать креативное мышление при решении жизненных проблем <p>б) базовые исследовательские действия:</p> <ul style="list-style-type: none"> - владеть навыками учебно-исследовательской и проектной деятельности, навыками разрешения проблем; - выявлять причинно-следственные связи и актуализировать задачу, выдвигать гипотезу ее решения, находить аргументы для доказательства своих утверждений, задавать параметры 	<p>производная, первообразная, определенный интеграл; умение находить производные элементарных функций, используя справочные материалы; исследовать в простейших случаях функции на монотонность, находить наибольшие и наименьшие значения функций; строить графики многочленов с использованием аппарата математического анализа; применять производную при решении задач на движение; решать практико-ориентированные задачи на наибольшие и наименьшие значения, нахождение пути, скорости и ускорения;</p> <ul style="list-style-type: none"> - уметь оперировать понятиями: рациональная функция, показательная функция, степенная функция, логарифмическая функция, тригонометрические функции, обратные функции; умение строить графики изученных функций, использовать графики при изучении процессов и зависимостей, при решении задач из других учебных предметов и задач из реальной жизни; выражать формулами 	
	<ul style="list-style-type: none"> и критерии решения; - анализировать полученные в ходе решения задачи 	<p>зависимости между величинами;</p> <ul style="list-style-type: none"> - уметь решать текстовые задачи 	

	<p>результаты, критически оценивать их достоверность, прогнозировать изменение в новых условиях;</p> <p>-- уметь переносить знания в познавательную и практическую области жизнедеятельности;</p> <p>- уметь интегрировать знания из разных предметных областей;</p> <p>- выдвигать новые идеи, предлагать оригинальные подходы и решения; и способность их использования в познавательной и социальной практике</p>	<p>разных типов (в том числе на проценты, доли и части, на движение, работу, стоимость товаров и услуг, налоги, задачи из области управления личными и семейными финансами);</p> <p>составлять выражения, уравнения, неравенства и их системы по условию задачи, исследовать полученное решение и оценивать правдоподобность результатов;</p> <p>- уметь оперировать понятиями: среднее арифметическое, медиана, наибольшее и наименьшее значения, размах, дисперсия, стандартное отклонение числового набора; умение извлекать, интерпретировать информацию, представленную в таблицах, на диаграммах, графиках, отражающую свойства реальных процессов и явлений; представлять информацию с помощью таблиц и диаграмм; исследовать статистические данные, в том числе с применением графических методов и электронных средств;</p> <p>- уметь оперировать понятиями: случайный опыт и случайное событие, вероятность случайного события;</p>	
		<p>умение вычислять вероятность с использованием графических методов; применять формулы сложения и умножения вероятностей,</p>	

		<p>комбинаторные факты и формулы при решении задач; оценивать вероятности реальных событий; знакомство со случайными величинами; умение приводить примеры проявления закона больших чисел в природных и общественных явлениях;</p> <p>- уметь оперировать понятиями: точка, прямая, плоскость, пространство, двугранный угол, скрещивающиеся прямые, параллельность и перпендикулярность прямых и плоскостей, угол между прямыми, угол между прямой и плоскостью, угол между плоскостями, расстояние от точки до плоскости, расстояние между прямыми, расстояние между плоскостями; умение использовать при решении задач изученные факты и теоремы планиметрии; умение оценивать размеры объектов окружающего мира;</p> <p>- уметь оперировать понятиями: многогранник, сечение многогранника, куб, параллелепипед,</p>	
		<p>призма, пирамида, фигура и поверхность вращения, цилиндр, конус, шар, сфера, сечения фигуры вращения, плоскость, касающаяся сферы, цилиндра, конуса, площадь поверхности пирамиды, призмы,</p>	

		<p>конуса, цилиндра, площадь сферы, объем куба, прямоугольного параллелепипеда, пирамиды, призмы, цилиндра, конуса, шара; умение изображать многогранники и поверхности вращения, их сечения от руки, с помощью чертежных инструментов и электронных средств; умение распознавать симметрию в пространстве; умение распознавать правильные многогранники; уметь оперировать понятиями: движение в пространстве, подобные фигуры в пространстве; использовать отношение площадей поверхностей и объемов подобных фигур при решении задач;</p> <p>- уметь вычислять геометрические величины (длина, угол, площадь, объем, площадь поверхности), используя изученные формулы и методы;</p> <p>- уметь оперировать понятиями: прямоугольная система координат, координаты</p>	
		<p>точки, вектор, координаты вектора, скалярное произведение, угол между векторами, сумма векторов, произведение вектора на число; находить с помощью изученных формул координаты середины отрезка, расстояние между двумя точками;</p> <p>-уметь выбирать</p>	

		<p>подходящий изученный метод для решения задачи, распознавать математические факты и математические модели в природных и общественных явлениях, в искусстве; умение приводить примеры математических открытий российской и мировой математической науки</p>	
	<p>В области ценности научного познания: -сформированность мировоззрения, соответствующего современному уровню развития науки и общественной практики, основанного на диалоге культур, способствующего осознанию своего места в поликультурном мире; - совершенствование языковой и читательской культуры как средства взаимодействия между людьми и</p>	<p>уметь оперировать понятиями: рациональная функция, показательная функция, степенная функция, логарифмическая функция, тригонометрические функции, обратные функции; умение строить графики изученных функций, использовать графики при изучении процессов и зависимостей, при решении задач из других учебных предметов и задач из реальной жизни; выражать формулами зависимости между величинами;</p>	
	<p>познания мира; - осознание ценности научной деятельности, готовность осуществлять проектную и исследовательскую деятельность индивидуально и в группе. Овладение универсальными учебными познавательными действиями: в) работа с информацией:</p>	<p>- уметь оперировать понятиями: тождество, тождественное преобразование, уравнение, неравенство, система уравнений и неравенств, равносильность уравнений, неравенств и систем, рациональные, иррациональные, показательные, степенные, логарифмические, тригонометрические уравнения, неравенства</p>	

	<p>- владеть навыками получения информации из источников разных типов, самостоятельно осуществлять поиск, анализ, систематизацию и интерпретацию информации различных видов и форм представления;</p> <p>- создавать тексты в различных форматах с учетом назначения информации и целевой аудитории, выбирая оптимальную форму представления и визуализации;</p> <p>- оценивать достоверность, легитимность информации, ее соответствие правовым и морально-этическим нормам;</p> <p>- использовать средства информационных и коммуникационных</p>	<p>и системы; уметь решать уравнения, неравенства и системы с помощью различных приемов; решать уравнения, неравенства и системы с параметром; применять уравнения, неравенства, их системы для решения математических задач и задач из различных областей науки и реальной жизни;</p> <p>- уметь свободно оперировать понятиями: движение, параллельный перенос, симметрия на плоскости и в пространстве, поворот, преобразование подобия, подобные фигуры; уметь распознавать равные и подобные фигуры, в том числе в природе, искусстве, архитектуре; уметь использовать геометрические отношения, находить геометрические величины (длина, угол,</p>	
	<p>технологий в решении когнитивных, коммуникативных и организационных задач с соблюдением требований эргономики, техники безопасности, гигиены, ресурсосбережения, правовых и этических норм, норм информационной безопасности;</p> <p>- владеть навыками распознавания и защиты информации, информационной безопасности личности</p>	<p>площадь, объем) при решении задач из других учебных предметов и из реальной жизни</p>	

	<p>В области духовно-нравственного воспитания:</p> <ul style="list-style-type: none"> -- сформированность нравственного сознания, этического поведения; - способность оценивать ситуацию и принимать осознанные решения, ориентируясь на морально-нравственные нормы и ценности; - осознание личного вклада в построение устойчивого будущего; - ответственное отношение к своим родителям и (или) другим членам семьи, созданию семьи на основе осознанного принятия ценностей семейной жизни в 	<p>уметь оперировать понятиями:</p> <p>рациональные, иррациональные, показательные, степенные, логарифмические, тригонометрические уравнения и неравенства, их системы;</p> <ul style="list-style-type: none"> - уметь оперировать понятиями: многогранник, сечение многогранника, куб, параллелепипед, призма, пирамида, фигура и поверхность вращения, цилиндр, конус, шар, сфера, сечения фигуры вращения, плоскость, касающаяся сферы, цилиндра, конуса, площадь поверхности пирамиды, призмы, конуса, цилиндра, площадь сферы, объем куба, прямоугольного 	
	<p>соответствии с традициями народов России;</p> <p>Овладение универсальными регулятивными действиями:</p> <p>а) самоорганизация:</p> <ul style="list-style-type: none"> - самостоятельно осуществлять познавательную деятельность, выявлять проблемы, ставить и формулировать собственные задачи в образовательной деятельности и жизненных ситуациях; - самостоятельно составлять план решения проблемы с учетом имеющихся ресурсов, собственных возможностей и предпочтений; 	<p>параллелепипеда, пирамиды, призмы, цилиндра, конуса, шара; умение изображать многогранники и поверхности вращения, их сечения от руки, с помощью чертежных инструментов и электронных средств;</p> <p>уметь распознавать симметрию в пространстве; уметь распознавать правильные многогранники;</p> <ul style="list-style-type: none"> - уметь оперировать понятиями: прямоугольная система координат, координаты точки, вектор, координаты вектора, скалярное произведение, угол между векторами, сумма векторов, произведение вектора 	

	<p>- давать оценку новым ситуациям; способствовать формированию и проявлению широкой эрудиции в разных областях знаний, постоянно повышать свой образовательный и культурный уровень;</p> <p>б) самоконтроль: использовать приемы рефлексии для оценки ситуации, выбора верного решения;</p> <p>- уметь оценивать риски и своевременно принимать решения по их снижению;</p> <p>в) эмоциональный интеллект,</p>	<p>на число; находить с помощью изученных формул координаты середины отрезка, расстояние между двумя точками</p>	
	<p>предполагающий сформированность: внутренней мотивации, включающей стремление к достижению цели и успеху, оптимизм, инициативность, умение действовать, исходя из своих возможностей;</p> <p>- эмпатии, включающей способность понимать эмоциональное состояние других, учитывать его при осуществлении коммуникации, способность к сочувствию и сопереживанию;</p> <p>- социальных навыков, включающих способность выстраивать отношения с другими людьми, заботиться, проявлять интерес и</p>		

	разрешать конфликты		
	<p>готовность к саморазвитию, самостоятельности и самоопределению;</p> <p>- овладение навыками учебно-исследовательской, проектной и социальной деятельности;</p> <p>Овладение универсальными коммуникативными действиями:</p> <p>б) совместная деятельность:</p> <p>- понимать и</p>	<p>- уметь оперировать понятиями: случайный опыт и случайное событие, вероятность случайного события; уметь вычислять вероятность с использованием графических методов; применять формулы сложения и умножения вероятностей, комбинаторные факты и формулы при решении задач; оценивать вероятности реальных событий;</p>	
	<p>использовать преимущества командной и индивидуальной работы;</p> <p>- принимать цели совместной деятельности, организовывать и координировать действия по ее достижению:</p> <p>составлять план действий, распределять роли с учетом мнений участников</p> <p>обсуждать результаты совместной работы;</p> <p>- координировать и выполнять работу в условиях реального, виртуального и комбинированного взаимодействия;</p> <p>- осуществлять позитивное стратегическое поведение в различных ситуациях, проявлять творчество и воображение, быть</p>	<p>знакомство со случайными величинами; умение приводить примеры проявления закона больших чисел в природных и общественных явлениях;</p> <p>- уметь свободно оперировать понятиями: степень с целым показателем, корень натуральной степени, степень с рациональным показателем, степень с действительным (вещественным) показателем, логарифм числа, синус, косинус и тангенс произвольного числа;</p> <p>- уметь свободно оперировать понятиями: график функции, обратная функция, композиция функций, линейная функция, квадратичная функция, степенная функция с целым показателем, тригонометрические функции, обратные</p>	

	<p>инициативным. Овладение универсальными регулятивными действиями: г) принятие себя и других людей: - принимать мотивы и аргументы других людей при анализе результатов деятельности; - признавать свое право и право других людей на ошибки; - развивать</p>	<p>тригонометрические функции, показательная и логарифмическая функции; уметь строить графики функций, выполнять преобразования графиков функций; - уметь использовать графики функций для изучения процессов и зависимостей при решении задач из других учебных предметов и из реальной жизни;</p>	
	<p>способность понимать мир с позиции другого человека</p>	<p>выражать формулами зависимости между величинами; - свободно оперировать понятиями: четность функции, периодичность функции, ограниченность функции, монотонность функции, экстремум функции, наибольшее и наименьшее значения функции на промежутке; уметь проводить исследование функции; - уметь использовать свойства и графики функций для решения уравнений, неравенств и задач с параметрами; изображать на координатной плоскости множества решений уравнений, неравенств и их систем</p>	
	<p>В области эстетического воспитания: - эстетическое отношение к миру, включая эстетику быта, научного и технического творчества, спорта, труда</p>	<p>уметь оперировать понятиями: среднее арифметическое, медиана, наибольшее и наименьшее значения, размах, дисперсия, стандартное отклонение числового набора; умение извлекать, интерпретировать</p>	

	<p>и общественных отношений;</p> <ul style="list-style-type: none"> - способность воспринимать различные виды искусства, традиции и творчество своего и других народов, ощущать эмоциональное воздействие искусства; - убежденность в значимости для 	<p>информацию, представленную в таблицах, на диаграммах, графиках, отражающую свойства реальных процессов и явлений; представлять информацию с помощью таблиц и диаграмм; исследовать статистические данные, в том числе с применением</p>	
	<p>личности и общества отечественного и мирового искусства, этнических культурных традиций и народного творчества;</p> <ul style="list-style-type: none"> - готовность к самовыражению в разных видах искусства, стремление проявлять качества творческой личности; <p>Овладение универсальными коммуникативными действиями:</p> <p>а) общение:</p> <ul style="list-style-type: none"> - осуществлять коммуникации во всех сферах жизни; - распознавать невербальные средства общения, понимать значение социальных знаков, распознавать предпосылки конфликтных ситуаций и смягчать конфликты; - развернуто и логично излагать свою точку зрения с использованием языковых средств 	<p>графических методов и электронных средств;</p> <ul style="list-style-type: none"> - уметь оперировать понятиями: точка, прямая, плоскость, пространство, двугранный угол, скрещивающиеся прямые, параллельность и перпендикулярность прямых и плоскостей, угол между прямыми, угол между прямой и плоскостью, угол между плоскостями, расстояние от точки до плоскости, расстояние между прямыми, расстояние между плоскостями; - уметь использовать при решении задач изученные факты и теоремы планиметрии; умение оценивать размеры объектов окружающего мира 	
	<ul style="list-style-type: none"> - осознание 	<ul style="list-style-type: none"> - уметь решать 	

	<p>обучающимися российской гражданской идентичности;</p> <p>- целенаправленное развитие внутренней позиции личности на основе духовно-нравственных ценностей народов Российской Федерации,</p>	<p>текстовые задачи разных типов (в том числе на проценты, доли и части, на движение, работу, стоимость товаров и услуг, налоги, задачи из области управления личными и семейными финансами); составлять выражения, уравнения, неравенства и их</p>	
	<p>исторических и национально-культурных традиций, формирование системы значимых ценностно-смысловых установок, антикоррупционного мировоззрения, правосознания, экологической культуры, способности ставить цели и строить жизненные планы;</p> <p>В части гражданского воспитания:</p> <p>- осознание своих конституционных прав и обязанностей, уважение закона и правопорядка;</p> <p>- принятие традиционных национальных, общечеловеческих гуманистических и демократических ценностей;</p> <p>- готовность противостоять идеологии экстремизма, национализма, ксенофобии, дискриминации по социальным, религиозным, расовым, национальным признакам;</p> <p>- готовность вести</p>	<p>системы по условию задачи, исследовать полученное решение и оценивать правдоподобность результатов;</p> <p>- <i>*уметь оперировать понятиями: определение, аксиома, теорема, следствие, свойство, признак, доказательство, равносильные формулировки; уметь формулировать обратное и противоположное утверждение, приводить примеры и контрпримеры, использовать метод математической индукции; проводить доказательные рассуждения при решении задач, оценивать логическую правильность рассуждений;</i></p> <p>-уметь свободно оперировать понятиями: последовательность, арифметическая прогрессия, геометрическая прогрессия, бесконечно убывающая геометрическая прогрессия; уметь задавать последовательности, в том числе с помощью рекуррентных формул;</p> <p>- уметь выбирать</p>	

	<p>совместную деятельность в интересах гражданского общества, участвовать в самоуправлении в</p>	<p><i>подходящий метод для решения задачи;</i> <i>понимание значимости математики в изучении природных и общественных процессов и явлений;</i></p>	
	<p>общеобразовательной организации и детско-юношеских организациях;</p> <ul style="list-style-type: none"> - умение взаимодействовать с социальными институтами в соответствии с их функциями и назначением; - готовность к гуманитарной и волонтерской деятельности; <p>патриотического воспитания:</p> <ul style="list-style-type: none"> - сформированность российской гражданской идентичности, патриотизма, уважения к своему народу, чувства ответственности перед Родиной, гордости за свой край, свою Родину, свой язык и культуру, прошлое и настоящее многонационального народа России; - ценностное отношение к государственным символам, историческому и природному наследию, памятникам, традициям народов России, достижениям России в науке, искусстве, спорте, технологиях и труде; - идейная убежденность, готовность к служению и защите 	<p><i>уметь распознавать проявление законов математики в искусстве, уметь приводить примеры математических открытий российской и мировой математической науки</i></p>	

	<p>Отечества, ответственность за его судьбу; освоенные обучающимися межпредметные понятия и универсальные учебные действия (регулятивные, познавательные, коммуникативные); - способность их использования в познавательной и социальной практике, готовность к самостоятельному планированию и осуществлению учебной деятельности, организации учебного сотрудничества с педагогическими работниками и сверстниками, к участию в построении индивидуальной образовательной траектории; - овладение навыками учебно-исследовательской, проектной и социальной деятельности</p>		
	<p>- не принимать действия, приносящие вред окружающей среде; - уметь прогнозировать неблагоприятные экологические последствия предпринимаемых действий, предотвращать их; - расширить опыт деятельности экологической</p>	<p>уметь оперировать понятиями: функция, непрерывная функция, производная, первообразная, определенный интеграл; уметь находить производные элементарных функций, используя справочные материалы; исследовать в простейших случаях функции на</p>	

	<p>направленности; - разрабатывать план решения проблемы с учетом анализа имеющихся материальных и нематериальных ресурсов; - осуществлять целенаправленный поиск переноса средств и способов действия в профессиональную среду; - уметь переносить знания в познавательную и практическую области жизнедеятельности; - предлагать новые проекты, оценивать идеи с позиции новизны, оригинальности, практической значимости; - давать оценку новым ситуациям, вносить коррективы в деятельность, оценивать соответствии результатов целям</p>	<p>монотонность, находить наибольшие и наименьшие значения функций; строить графики многочленов с использованием аппарата математического анализа; применять производную при решении задач на движение; решать практико-ориентированные задачи на наибольшие и наименьшие значения, нахождение пути, скорости и ускорения; - уметь оперировать понятиями: движение в пространстве, подобные фигуры в пространстве; использовать отношение площадей поверхностей и объемов подобных фигур при решении задач; е- уметь вычислять геометрические величины (длина, угол, площадь, объем, площадь поверхности), используя изученные формулы и методы</p>	
	<p>-уметь выполнять косметические услуги по уходу за кожей лица ,шеи и зоны декольте</p>	<p>- уметь решать текстовые задачи разных типов (в том числе на проценты, доли и части, на движение, работу, стоимость товаров и услуг, налоги, задачи из области управления личными и семейными финансами); составлять выражения, уравнения, неравенства и их системы по условию задачи, исследовать</p>	
		<p>полученное решение и оценивать</p>	

		<p>правдоподобность результатов;</p> <p>- уметь оперировать понятиями: определение, аксиома, теорема, следствие, свойство, признак, доказательство, равносильные формулировки; уметь формулировать обратное и противоположное утверждение, приводить примеры и контрпримеры, использовать метод математической индукции; проводить доказательные рассуждения при решении задач, оценивать логическую правильность рассуждений;</p>	
--	--	--	--

Фонд оценочных средств для входного контроля

Входной контроль состоит из заданий, взятых из открытого банка ОГЭ и ВПР по математике. На выполнение заданий входного контроля дается 1 академический час (45 минут).

Входной контроль состоит из 2-х частей: обязательной и дополнительной.

Обязательная часть содержит задания минимального обязательного уровня, дополнительная часть – более сложные задания.

При выполнении заданий требуется представить ход решения и указать полученный ответ. Правильно выполненное задание из обязательной части оценивается в один балл; правильное выполнение заданий дополнительной части оценивается 3 баллами или 1-2 баллами за частичное решение.

Баллы, полученные за все выполненные задания, суммируются.

Шкала перевода баллов в отметки по пятибалльной системе

<i>Отметка</i>	<i>Число баллов, необходимое для получения отметки</i>
<i>«3» (удов.)</i>	<i>7-9</i>
<i>«4» (хорошо)</i>	<i>10-12</i>
<i>«5» (отлично)</i>	<i>13-15</i>

Образовательные результаты, подлежащие проверке (элементы):

ДР6 1, ДР6 5, ДР6 6, ДР6 9, ДР6 12, ДР6 14.

ОК 01, ОК 02, ОК 05, ОК 06.ПК 1.1.

Задания входного контроля

Обязательная часть

При решении заданий 1-4 запишите правильный ответ из четырех предложенных:

1. (1 балл) Раскройте формулу сокращенного умножения a^2-b^2 :

А) $a^2-2ab+b^2$; Б) $(a-b)(a+b)$; В) $a^2+2ab-b^2$; Г) $(a-b)(a-b)$

2. (1 балл) Площадь треугольника вычисляется по формуле:

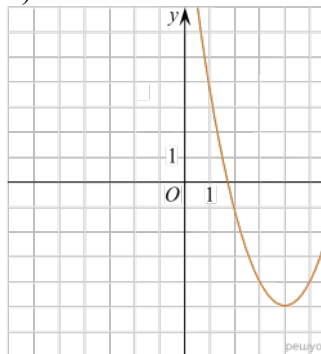
А) $S=a*b$; Б) $S=(a*b)/2$; В) $S=2a*b$; Г) $S=(a*b)/3$.

3. (1 балл) Какое из следующих чисел заключено между числами $\frac{10}{17}$ и $\frac{5}{8}$?

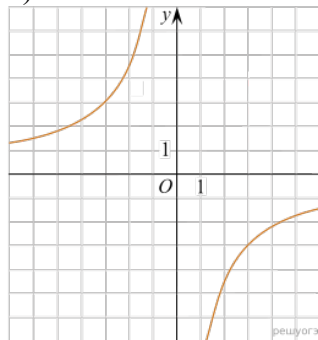
А) 0,4; Б) 0,5; В) 0,6; Г) 0,7

4. (1 балл) Даны графики функций. Какая формула соответствует графику 3):

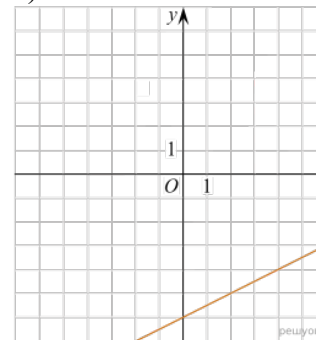
1)



2)



3)



А) $y = \frac{1}{2}x - 6$; Б) $y = x^2 - 8x + 11$; В) $y = -\frac{9}{x}$; Г) $y = x + 5$.

При выполнении заданий 5-8 запишите ход решения и полученный ответ.

$$\frac{1}{2} + \frac{11}{5}$$

5. (2 балла) Вычислите:

6. (2 балла) Решите уравнение $x^2-7x+10=0$. Если уравнение имеет более одного корня, в ответ запишите меньший из корней.

7. (2 балла) Для ремонта требуется 57 рулонов обоев. Какое наименьшее количество пачек обойного клея нужно для такого ремонта, если 1 пачка клея рассчитана на 5 рулонов?

8. (2 балла) Высота ВН параллелограмма ABCD делит его сторону AD на отрезки AN = 2 и ND = 32. Диагональ параллелограмма BD равна 40. Найдите площадь параллелограмма.

Дополнительная часть

При выполнении задания 9 запишите ход, обоснование решения и полученный ответ.

9. (3 балла) Рыболов проплыл на лодке от пристани некоторое расстояние вверх по течению реки, затем бросил якорь, 2 часа ловил рыбу и вернулся обратно через 5 часов от начала путешествия. На какое расстояние от пристани он отплыл, если скорость течения реки равна 2 км/ч, а собственная скорость лодки 6 км/ч?

Эталоны ответов:

Номер задания	1	2	3	4	5	6	7	8	9
Ответ	Б	Б	В	А	2,7	2	12	816	8

1. Фонд оценочных средств для текущего контроля

Текущий контроль проводится во время аудиторных занятий по математике в соответствии с учебным планом и рабочей программы ОД «Математика» по всем разделам программы. Текущий контроль состоит из двух частей: теоретической и практической. При этом обучающиеся получают две отметки.

Теоретическая часть проходит в форме устных ответов: обучающиеся вытягивают пять карточек с вопросами, дают полный ответ (со списком вопросов обучающиеся знакомятся в начале изучения раздела).

Шкала перевода баллов в отметки по пятибалльной системе

<i>Отметка</i>	<i>Количество верных ответов на теоретические вопросы</i>
«3» (удов.)	3
«4» (хорошо)	4
«5» (отлично)	5

Задания практической части (контрольные работы) частично взяты из открытого банка ЕГЭ и ВПР по математике.

На выполнение контрольной работы по математике дается 1 академический час (45 минут).

Контрольная работа состоит из 2-х частей. В первой части предлагается выполнить 4 задания – выбрать правильный ответ из четырех предложенных. Во второй части предлагается выполнить 6 заданий – оформить ход решения и записать полученный ответ.

За правильное выполнение любого задания первой части обучающийся получает один балла. Правильное выполнение заданий второй части оценивается 2 баллами или 1 баллом за частичное решение.

Баллы, полученные за все выполненные задания, суммируются.

Шкала перевода баллов в отметки по пятибалльной системе

<i>Отметка</i>	<i>Число баллов, необходимое для получения отметки</i>
«3» (удов.)	8-10
«4» (хорошо)	11-13
«5» (отлично)	14-16

3.1 Прямые и плоскости, координаты и векторы в пространстве

Образовательные результаты, подлежащие проверке (элементы):

ДР6 1, ДР6 9, ДР6 11, ДР6 12, ДР6 13, ДР6 14.

ОК 01, ОК 03, ОК 05, ОК 07.

ПК 1.1.

Теоретические вопросы:

1. Сформулируйте теорему Пифагора.
2. Перечислите основные фигуры в пространстве.
3. Перечислите способы задания плоскости.
4. Продолжите теорему: «Если одна из двух параллельных прямых перпендикулярна плоскости, то...».
5. Продолжите теорему: «Если две параллельные плоскости пересекаются третьей, то...».
6. Сформулируйте определение двугранного угла.
7. Раскройте понятие «угол между прямыми».
8. Перечислите взаимное расположение двух прямых в пространстве
9. Какие прямые называются параллельными в пространстве?
10. Какие прямые называются скрещивающимися в пространстве?
11. Какие прямые называются перпендикулярными в пространстве?
12. Перечислите взаимное расположение прямой и плоскости в пространстве.
13. Раскройте понятие «угол между прямой и плоскостью».
14. Раскройте понятие «параллельность прямой и плоскости».
15. Раскройте понятие «перпендикулярность прямой и плоскости».
16. Перечислите взаимное расположение двух плоскостей в пространстве.
17. Раскройте понятие «угол между плоскостями».
18. Раскройте понятие «параллельность плоскостей».
19. Раскройте понятие «перпендикулярность плоскостей».
20. Как найти расстояние от точки до прямой?
21. Как найти расстояние между прямыми?
22. Как найти расстояние между плоскостями?
23. Продолжите определение: «Перпендикуляр – это...».
24. Продолжите определение: «Наклонная – это...».
25. Продолжите определение: «Проекция наклонной – это...».
26. Перечислите свойства параллельного проектирования.
27. Из чего состоит прямоугольная система координат в пространстве?
28. Если точка лежит в плоскости xy , какая координата у нее нулевая?
29. Приведите пример координат точки A , которая лежит на оси z .
30. Раскройте понятие «вектор».
31. Какие векторы называются коллинеарными?
32. Какие векторы называются перпендикулярными?

Контрольная работа

Первая часть

При решении заданий 1-4 запишите правильный ответ из четырех предложенных.

1. (1 балл) Расшифруйте краткую запись: $a \in \beta$.
А) точка a принадлежит плоскости β ; Б) точка a принадлежит прямой β ; В) прямая a принадлежит плоскости β ; Г) прямая a пересекает плоскость β .
2. (1 балл) Прямые AB и CD скрещиваются. Какое расположение имеют прямые AC и BD ?
А) параллельные; Б) перпендикулярные; В) скрещиваются; Г) пересекаются.
3. (1 балл) Какие из векторов $a(1,2,-3)$, $c(3,6,-6)$, $v(2,4,-6)$ коллинеарные?

А) а, в; Б) с, в; В) а, с; Г) коллинеарных векторов нет.

4. (1 балл) Даны точки $A(2,0,5)$, $B(2,4,-2)$ $C(-2,6,3)$. Серединой какого отрезка является точка $M(0,3,4)$?

А) АВ; Б) ВС; В) АС; Г) СВ.

Вторая часть

При выполнении заданий 5-10 запишите ход решения и полученный ответ.

5. (2 балла) Через концы отрезка АВ и его середину М проведены параллельные прямые, пересекающие некоторую плоскость в точках A_1 , B_1 и M_1 . Найдите длину отрезка MM_1 , если отрезок АВ не пересекает плоскость и если $AA_1=6,8$ см, $BB_1=7,4$ см.

6. (2 балла) Прямые АС, АВ и АД попарно перпендикулярны. Найдите отрезок СД, если $AB=5$ см, $BC=13$ см, $AD=9$ см.

7. (2 балла) Даны векторы $a(-6,0,8)$, $b(-3,2,-6)$. Найдите скалярное произведение векторов.

8. (2 балла) Начертите куб $ABCD A_1 B_1 C_1 D_1$. Построить точку $K \in AB$, точку $M \in DD_1 C$, отрезок $PE \in A_1 B_1 C_1$.

9. (2 балла) При каких значениях n векторы $\vec{a}(4,n,2)$, $\vec{b}(1,2,n)$ перпендикулярны?

10. (2 балла) Оформите лист бумаги А4 вертикальными, горизонтальными, наклонными линиями, используя разные цветовые оттенки.

Эталоны ответов:

Номер задания	1	2	3	4	5	6	7	8	9	10
Ответ	В	В	А	В	7,1	15	-30	-	-1	-

3.2 Основы тригонометрии. Тригонометрические функции

Образовательные результаты, подлежащие проверке

(элементы):

ДРБ 1, ДРБ 3, ДРБ 5, ДРБ 14.

ОК 01, ОК 02, ОК 03. ПК 1.1

Теоретические вопросы:

1. Чему равен угол в один радиан?
2. В каких четвертях тригонометрического круга функция $y=\sin x$ принимает положительные значения?
3. В каких четвертях тригонометрического круга функция $y=\cos x$ принимает отрицательные значения?
4. Продолжите определение: «Синус острого угла – это...».
5. Продолжите определение: «Косинус острого угла – это...».
6. Продолжите определение: «Тангенс острого угла – это...».
7. Сформулируйте основное тригонометрическое тождество.
8. Чему равно произведение $\operatorname{tg}x \cdot \operatorname{ctg}x$?
9. Чему равен $\sin(2x)$? Сформулируйте правило вычисления.
10. Чему равен $\cos(2x)$? Сформулируйте правило вычисления.
11. Перечислите тригонометрические функции, укажите их периоды.
12. Чему равен период функции $y=\cos(4x)$?
13. ему равен период функции $y=\cos(x/4)$?
14. Определите область значения функции $y=3\cos(5x)$?
15. Перечислите способы решения тригонометрических уравнений.

16. Раскройте алгоритм решения однородных тригонометрических уравнений первого порядка.

17. Раскройте алгоритм решения однородных тригонометрических уравнений второго порядка.

Контрольная работа

Первая часть

При решении заданий 1-4 запишите правильный ответ из четырех предложенных.

1. (1 балл) В $\triangle ABC$ $\cos C = \frac{AB}{AC}$. Какая из сторон является гипотенузой $\triangle ABC$?

А) АВ; Б) АС; В) ВС; Г) СВ.

2. (1 балл) Углом какой четверти является угол $\alpha = 410^\circ$? А) I; Б) II; В) III; Г) IV.

3. (1 балл) Какие из функций являются чётными?

А) $y = \sin x$; Б) $y = \cos x$; В) $y = \operatorname{tg} x$; Г) $y = \operatorname{ctg} x$.

4. (1 балл) Период функции $y = \sin x$?

А) $\pi/2$; Б) 2π ; В) 4π ; Г) π .

Вторая часть

При выполнении заданий 5-10 запишите ход решения и полученный ответ.

5. (2 балла) Вычислите: $\sin \frac{\pi}{2} + \cos \frac{\pi}{2}$.

6. (2 балла) Найдите значение выражения $4\arccos \frac{\sqrt{2}}{2} - 4\arcsin(\frac{-\sqrt{2}}{2})$

7. (2 балла) Найдите значение выражения $7 \operatorname{tg} 13^\circ \cdot \operatorname{tg} 77^\circ$.

8. (2 балла) Решите уравнение $\cos x = \frac{1}{2}$. Запишите наименьший положительный

корень уравнения.

9. Решите уравнение $\sin^2 x - 4 \sin x + 3 = 0$.

10. Постройте график тригонометрической функции $y=2 \sin x$

Эталоны ответов:

Номер задания	1	2	3	4	5	6	7	8	9	10
Ответ	Б	А	В	Б	1	2π	7	$\pi/3$	$\pi/2+2\pi n,$ $n \in Z$	

3.3 Производная и первообразная функции

Образовательные результаты, подлежащие проверке (элементы):

ДРб 1, ДРб 4, ДРб 6, ДРб 14.

ОК 01, ОК 03, ОК 06.

ПК 1.1.

Теоретические вопросы:

1. Продолжите определение: «Производная – это...».
2. Раскройте геометрический смысл производной.
3. Раскройте физический смысл производной.
4. Перечислите правила вычисления производных.
5. Чему равна производная степенной функции?
6. Чему равна производная произведения?
7. Чему равна производная частного?
8. Чему равна производная сложной функции?
9. Сформулируйте признак возрастания функции.
10. Сформулируйте признак убывания функции.
11. Сформулируйте признак точки максимума функции.
12. Сформулируйте признак точки минимума функции.
13. Составьте алгоритм решения задач на нахождения наибольшего и наименьшего значения функции на отрезке?
14. Составьте алгоритм исследования и построения графика функции с помощью производной.
15. Продолжите определение: «Функция $F(x)$ называется ...».
16. Раскройте геометрический смысл определенного интеграла.
17. Продолжите определение: «Криволинейная трапеция – это...».
18. Сформулируйте формулу Ньютона-Лейбница.
19. В чем заключается общий вид всех первообразных?
20. Перечислите правила вычисления интегралов.

Контрольная работа

Первая часть

При решении заданий 1-4 запишите правильный ответ из четырех предложенных.

1. (1 балл) Чему равна производная функции $y=2x^3$?
А) $y' = 5x$; Б) $y' = 6x$; В) $y' = 6$; Г) $y' = 6x^2$.
2. (1 балл) По какой из формул вычисляется производная частного?
$$\frac{u}{v} \quad \frac{u'v - uv'}{v^2}$$

А) $(u+v)' = u' + v'$; Б) $(uv)' = u'v + uv'$; В) $(\frac{u}{v})' = \frac{u'v - uv'}{v^2}$; Г) $(f(g(x)))' = f'(g(x)) * g'(x)$.
3. (1 балл) Решите уравнение $f'(x)=0$, если $f(x)=3x^2 - 6x + 4$. Выберите ответ.
А) 1; Б) -1; В) 4; Г) -4.
4. (1 балл) Общий вид всех первообразных для $f(x)=\sin x$?
А) $F(x)=\cos x + C$; Б) $F(x)=-\cos x + C$; В) $F(x)=\operatorname{tg} x + C$; Г) $F(x)=-\operatorname{tg} x + C$.

Ответ	Г	В	А	Б	8	1,25	(-4; 4)	-3	12	10x10
--------------	---	---	---	---	---	------	---------	----	----	-------

3.4 Многогранники и тела вращения

Образовательные результаты, подлежащие проверке (элементы):

ДРб 1, ДРб 6, ДРб 9, ДРб 10, ДРб 11, ДРб 12, ДРб 14.

ОК 01, ОК 03, ОК 05, ОК 06, ОК 7.

ПК 1.1

Теоретические вопросы:

1. Продолжите определение: «Многогранник – это...».
2. Продолжите определение: «Призма – это...».
3. Продолжите определение: «Прямоугольный параллелепипед – это...».
4. Продолжите определение: «Куб – это...».
5. Продолжите определение: «Пирамида – это...».
6. Сформулируйте свойство о противолежащих гранях параллелепипеда.
7. Сформулируйте свойство о диагоналях параллелепипеда.
8. Сформулируйте свойство о диагонали и линейных размерах прямоугольного параллелепипеда.
9. Какая призма называется прямой?
10. Какая призма называется правильной?
11. Раскройте понятие «правильная пирамида».
12. Что такое апофема правильной пирамиды?
13. В чем отличие полной поверхности призмы от полной поверхности пирамиды?
14. Сформулируйте теорему о вычислении боковой поверхности прямой призмы.
15. Сформулируйте теорему о вычислении боковой поверхности правильной пирамиды.
16. Назовите предметы из вашей профессиональной деятельности, которые имеют формы многогранников.
17. Продолжите определение: «Цилиндр – это...».
18. Продолжите определение: «Конус – это...».
19. Продолжите определение: «Усеченный конус – это...».
20. Продолжите определение: «Шар – это...».
21. Что является высотой усеченного конуса?
22. Что является осевым сечением цилиндра, конуса, усеченного конуса, шара?
23. Перечислите единицы измерения площади, объема.
24. Чему равно отношение площадей поверхностей подобных фигур в пространстве?
25. Чему равно отношение объемов подобных фигур в пространстве?
26. Назовите предметы из вашей профессиональной деятельности, которые имеют формы тел вращения.

Контрольная работа

Первая часть


При решении заданий 1-4 запишите правильный ответ из четырех предложенных.

1. (1 балл) В каких единицах измеряется объем многогранника?
А) в метрах; Б) в кубических метрах; В) в квадратных метрах; Г) в двугранных градусах.
2. (1 балл) Площадь полной поверхности призмы вычисляется по формуле:
А) $S = S_{\text{бок}} + 2 S_{\text{осн.}}$; Б) $S_{\text{бок}} = P_{\text{осн}} \cdot H$; В) $S = S_{\text{бок}} + S_{\text{осн.}}$; Г) $S_{\text{бок}} = 2P_{\text{осн}} \cdot H$.
3. (1 балл) Что является осевым сечением конуса?
А) равнобедренный треугольник; Б) равнобедренная трапеция; В) прямоугольник; Г) прямоугольная трапеция.
4. (1 балл) Какая фигура получается при вращении прямоугольного треугольника вокруг одного из своих катетов?
А) конус; Б) усеченный конус; В) пирамида; Г) усеченная пирамида.

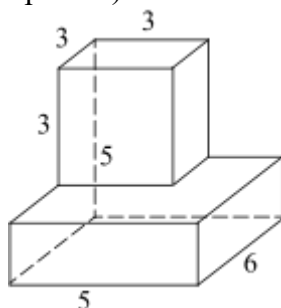
Вторая часть

При выполнении заданий 5-10 запишите ход решения и полученный ответ.

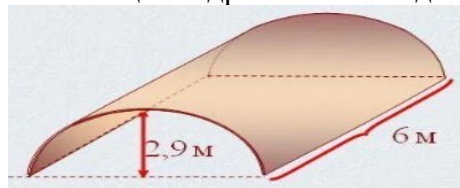
5. (2 балла) Ребро основания правильной треугольной пирамиды 3 м, апофема 6 м. Найдите площадь боковой поверхности пирамиды.
6. (2 балла) Две стороны параллелограмма относятся как 3:17, а периметр его равен 40. Найдите большую сторону параллелограмма.



7. (2 балла) Прямоугольник со сторонами 8 см и 3 см вращается вокруг большей стороны. Найдите объем, площади боковой и полной поверхностей полученного тела.
8. (2 балла) Найдите объем многогранника, изображенного на рисунке (все двугранные углы прямые).



9. (2 балла) Клиенту необходимо, чтобы в комнате обязательно присутствовали объемные элементы декора цилиндрической формы. Построить из бумаги модель цилиндра. Размеры для построения выбрать самостоятельно, с учетом того, что соотношение радиуса к высоте должно быть 1:2.
10. (2 балла) Рассчитать количество 2-х килограммовых банок краски нужно купить для окрашивания цилиндрического свода подвала. Расход краски 100 г на 1 м². Считать $\pi=3$.



Эталоны ответов:

Номер задания	1	2	3	4	5	6	7	8	9	10
Ответ	Б	А	А	А	27	17	72π	87	-	3

							48π ; 64π			
--	--	--	--	--	--	--	----------------------	--	--	--

3.5 Степенная, показательная и логарифмическая функции
Образовательные результаты, подлежащие проверке (элементы):

ДРб 1, ДРб 2, ДРб 3, ДРб 4, ДРб 6, ДРб 14.
 ОК 01, ОК 02, ОК 03, ОК 06. ПК 1.1

Теоретические вопросы:

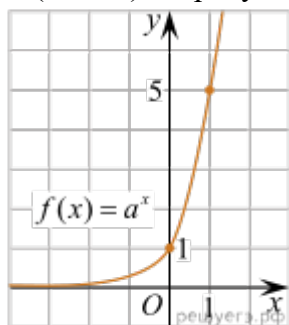
1. Сформулируйте определение степенной функции.
2. Перечислите свойства степенной функции
3. Сформулируйте определение показательной функции.
4. Перечислите свойства показательной функции
5. Сформулируйте определение логарифмической функции.
6. Перечислите свойства логарифмической функции.
7. Продолжите определение: «Логарифм – это...».
8. Чему равен логарифм произведения?
9. Чему равен логарифм частного?
10. Приведите примеры логарифмической спирали в природе и в окружающем мире.
11. На что необходимо обратить внимание при решении иррационального уравнения четной степени?
12. Чему равен корень четной степени из отрицательного числа? Приведите пример.
13. Чему равен корень нечетной степени из отрицательного числа? Приведите пример.
14. На что стоит обратить внимание при решении логарифмических и иррациональных, дробно-рациональных уравнений и неравенств?
15. В чем заключается графический способ решения уравнений.

Контрольная работа

Первая часть

При решении заданий 1-4 запишите правильный ответ из четырех предложенных.

1. (1 балл) Между какими двумя натуральными числами находится число $\sqrt[3]{19}$? А) 19 и 20; Б) 2 и 3; В) 18 и 19; Г) 3 и 4.
2. (1 балл) На рисунке изображён график функции вида $f(x)=a^x$. Найдите значение $f(2)$.



- А) 25.; Б) 5; В) 32; Г) нет верного ответа.
3. (1 балл) Какая из функций возрастают на всей области определения?
 А) $f(x)=\log_5 x$; Б) $f(x)=0,7^x$; В) $f(x)=x^2$; Г) $f(x)=\log_{\frac{1}{2}} x$.
 4. (1 балл) Укажите область определения функции $f(x)=\lg \frac{2x-3}{x+7}$
 А) $(-7; 1,5)$; Б) $(-\infty; -1,5), (7; +\infty)$; В) $(-1,5; 7)$; Г) $(-\infty; -7), (1,5; +\infty)$.

Вторая часть

При выполнении заданий 5-10 запишите ход решения и полученный ответ.

5. (2 балла) Найдите значение выражения $4^8 \cdot 11^{10} : 44^8$.

6. (2 балла) Сколько целых решений имеет неравенство $1 < 7^{x-1} \leq 49$?
7. (2 балла) Найдите корень уравнения $\log_5(4+x) = 2$.
8. (2 балла) Расстояние от наблюдателя, находящегося на небольшой высоте h километров над землёй, до наблюдаемой им линии горизонта вычисляется по формуле $l = \sqrt{2Rh}$, где $R=6400$ км — радиус Земли. С какой высоты горизонт виден на расстоянии 48 километров? Ответ выразите в километрах.
9. (2 балла) В ходе распада радиоактивного изотопа его масса уменьшается по закону $m(t) = m_0 \cdot 2^{-t/T}$, где m_0 — начальная масса изотопа, t — время, прошедшее от начального момента, T — период полураспада. В начальный момент времени масса изотопа 184 мг. Период его полураспада составляет 7 мин. Найдите, через сколько минут масса изотопа будет равна 23 мг.
10. (2 балла) Найдите значение выражения $\log_6 108 + \log_6 2$

Эталоны ответов:

Номер задания	1	2	3	4	5	6	7	8	9	10
Ответ	Б	А	А	Г	121	2	21	0,18	21	3

3.6 Элементы теории вероятностей и математической статистики

Образовательные результаты, подлежащие проверке (элементы):

ДР6 7, ДР6 8, ДР6 14.
ОК 01, ОК 03, ОК 04, ОК 05.
ПК 1.1.

Теоретические вопросы:

1. Продолжите определение: «Случайное событие – это...». Приведите пример.
2. Приведите пример достоверного события.
3. Приведите пример невозможного события.
4. Продолжите определение: «Вероятность случайного события – это...».
5. Сформулируйте правило нахождения сложения вероятностей.
6. Сформулируйте правило умножения вероятностей.
7. Как найти среднее арифметическое числового ряда?
8. Как найти медиану числового ряда?
9. Как вычисляется размах числового ряда?
10. Для чего нужны диаграммы, графики? Перечислите виды диаграмм.
11. Приведите примеры проявления закона больших чисел в природных явлениях.
12. Приведите примеры проявления закона больших чисел в общественных явлениях.
13. Что изучает статистика?
14. Продолжите определение: «Сочетание – это...».
15. Продолжите определение: «Размещение – это...».
16. Продолжите определение: «Перестановки – это...».

Контрольная работа

Первая часть

При решении заданий 1-4 запишите правильный ответ из четырех предложенных

1. (1 балл) Каких событий не бывает в теории вероятностей?
А) случайные; Б) неслучайные; В) достоверные; Г) невозможные.
2. (1 балл) Событие, которое при выполнении определенной совокупности условий, обязательно произойдет - это:
А) случайное; Б) неслучайное; В) достоверное; Г) невозможное.
3. (1 балл) Вероятность случайного события есть неотрицательное число, заключенное между числами:
А) 0 и 1; Б) 0 и 100; В) -1 и 1; Г) -100 и 100.
4. (1 балл) Группировка – это...
А) упорядочение единиц совокупности по признаку; Б) разбиение единиц совокупности на группы по признаку; В) обобщение единичных фактов; Г) обобщение единичных признаков.

Вторая часть

При выполнении заданий 5-10 запишите ход решения и полученный ответ.

5. (2 балла) В офисе дизайнерского агентства находятся 8 посетителей женского пола и 2 мужского. Определить вероятность того, что первым к консультанту обратится мужчина.
6. (2 балла) На конференцию приехали 2 ученых из Германии, 3 из Сербии и 7 из Швейцарии. Каждый из них делает на конференции один доклад. Порядок докладов определяется жеребьевкой. Найдите вероятность того, что пятым окажется доклад ученого из Сербии.
7. (2 балла) Маша, Тимур, Диана, Костя и Антон бросили жребий — кому достанется проект по оформлению свадебного зала. Найдите вероятность того, что проект точно не будет выполнять Антон.
8. (2 балла) В ящике три красных и три синих фломастера. Фломастеры вытаскивают по

очереди в случайном порядке. Какова вероятность того, что первый раз синий фломастер появится третьим по счету?

9. (2 балла) Дан ряд чисел: 175; 172; 179; 171; 174; 170; 172; 169. Найдите моду ряда и среднее арифметическое ряда.

10.(2 балла) При анализе ценовых предпочтений клиентов дизайнерского агентства получены данные, представленные в таблице: доля клиентов, приобретающих дизайнерские услуги одинакового назначения, но различной цены. Найти моду случайной величины. X – цены продаваемых услуг.

x_i	3500	4500	5500	6500	7500	8500
p_i	1/20	3/20	3/20	8/20	4/20	1/20

Эталоны ответов:

Номер задания	1	2	3	4	5	6	7	8	9	10
Ответ	Б	В	А	А	0,2	0,25	0,8	0,15	172; 172,75	6500

2. Фонд оценочных средств для рубежного контроля (по итогам 3.1 – 3.3)

Образовательные результаты, подлежащие проверке (элементы):

ДРб 1, ДРб 3, ДРб 4, ДРб 5, ДРб 6, ДРб 9, ДРб 11, ДРб 12, ДРб 13, ДРб 14.

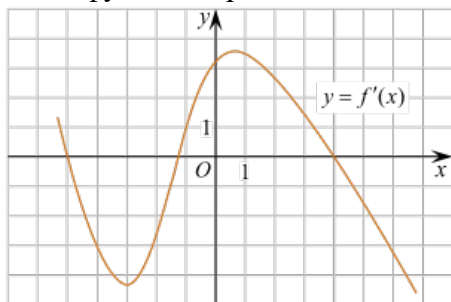
ОК 01, ОК 02, ОК 03, ОК 05, ОК 06.

ПК 1.1

Первая часть

При решении заданий 1-4 запишите правильный ответ из четырех предложенных.

1. Даны точки $A(2,0,5)$, $B(-2,6,3)$. Какие координаты имеет середина отрезка AB – точка M ?
А) $M(0, 3, 4)$; Б) $M(2, 3, 4)$; В) $M(0, -3, 4)$; Г) $M(0, 3, -4)$.
2. (1 балл) Прямые AB и CD параллельные. Какое расположение имеют прямые AC и BD ?
А) параллельные; Б) перпендикулярные; В) скрещиваются; Г) пересекаются.
3. (1 балл) Какие из функций являются чётными?
А) $y=\sin x$; Б) $y=\cos x$; В) $y=\operatorname{tg} x$; Г) $y=\operatorname{ctg} x$.
4. (1 балл) На рисунке изображен график производной функции $y=f(x)$. При каком значении x функция принимает свое наибольшее значение на отрезке $[-4; -2]$?



- А) 0,5; Б) -4; В) -5; Г) 1.

Вторая часть

При выполнении заданий 5-10 запишите ход решения и полученный ответ.

5. (2 балла) Через концы отрезка AB и его середину M проведены параллельные прямые, пересекающие некоторую плоскость в точках A_1 , B_1 и M_1 . Найдите длину отрезка MM_1 , если отрезок AB не пересекает плоскость и если $AA_1=6$ см, $BB_1=4$ см.
6. (2 балла) Даны точки $A(6,7,8)$, $B(8,2,6)$. Найдите длину вектора AB .
7. (2 балла) Найдите $\operatorname{tg}\left(\alpha + \frac{\pi}{2}\right)$, если $\operatorname{tg} \alpha = 0,5$.
8. (2 балла) Материальная точка движется прямолинейно по закону $x(t)=t^2-13t+23$ (где x — расстояние от точки отсчета в метрах, t — время в секундах, измеренное с начала движения). В какой момент времени (в секундах) ее скорость была равна 3 м/с?
9. (2 балла) Дана функция $f(x)=3x^2+1$. Чему равна $F(1)$?
10. (2 балла) Решите уравнение $\cos x=1$. В ответ запишите наименьший неотрицательный корень.

Эталоны ответов:

Номер задания	1	2	3	4	5	6	7	8	9	10
Ответ	А	Г	Б	Б	5	$\sqrt{33}$	-2	8	2	0

Фонд оценочных средств для промежуточной аттестации (экзамен)

На выполнение письменной экзаменационной работы по математике дается 2 астрономических часа (120 минут).

Экзаменационная работа состоит из 2-х частей: обязательной и дополнительной.

Обязательная часть содержит задания минимального обязательного уровня, дополнительная часть – более сложные задания.

При выполнении заданий обязательной части требуется представить ход решения и указать полученный ответ. За правильное выполнение любого задания из обязательной части обучающийся получает один балл. При выполнении задания из дополнительной части необходимо подробно описать ход решения и дать ответ. Правильное выполнение заданий дополнительной части оценивается 3 баллами или 1-2 баллами за частичное решение.

Баллы, полученные за все выполненные задания, суммируются.

Шкала перевода баллов в отметки по пятибалльной системе

Отметка	Число баллов, необходимое для получения отметки
«3» (удов.)	6-9
«4» (хорошо)	10-13 (не менее одного задания из дополнительной части)
«5» (отлично)	более 16 (не менее двух заданий из дополнительной части)

Образовательные результаты, подлежащие проверке (элементы):

ДРб 1, ДРб 2, ДРб 3, ДРб 4, ДРб 5, ДРб 6, ДРб 7, ДРб 8, ДРб 9, ДРб 10, ДРб 11, ДРб 12, ДРб 13, ДРб 14.

ОК 01, ОК 02, ОК 03, ОК 04, ОК 05, ОК 06, ОК 07.

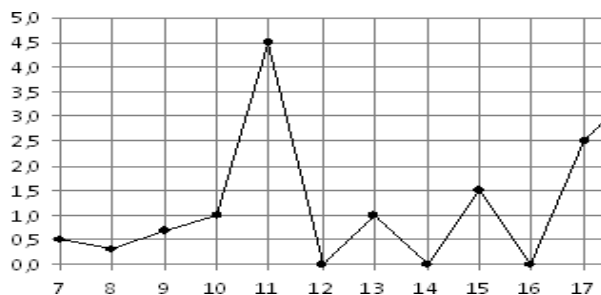
ПК 1.1

Экзаменационные задания по математике

Обязательная часть

При выполнении заданий 1-12 запишите ход решения и полученный ответ.

1. (ОК 01)(1 балл) Вычислите: $2\sin(\pi/6)+2\cos(\pi/3)$
2. ОК 04,(1 балл) На рисунке жирными точками показано суточное количество осадков, выпадавших в Элисте с 7 по 18 декабря 2001 года. По горизонтали указываются числа месяца, по вертикали — количество осадков, выпавших в соответствующий день, в миллиметрах. Для наглядности жирные точки на рисунке соединены линией. Определите по рисунку, сколько дней выпадало более 2 миллиметров осадков?
3. ОК 01(1 балл) Стоимость услуг частного дизайнера возросла на 10%. Определить, сколько стоили услуги дизайнера до подорожания, если после клиент заплатил 55000руб?
4. ОК 02(1 балл) На тарелке 16 пирожков: 7 с рыбой, 5 с вареньем и 4 с вишней. Юля наугад выбирает один пирожок. Найдите вероятность того, что он окажется с вишней.
5. ОК 03(1 балл) Найдите значение выражения $\log_2 2 + \log_2 32$
6. ОК 05(1 балл) Найдите корень уравнения $\sqrt{7-6x} = 7$.
7. ОК 02(1 балл) Решите неравенство $2^{x+5} > 64$. В ответ запишите наименьшее положительное число.



8. ОК 03(1 балл) Найдите корень уравнения $\frac{x+2}{3x-2} = \frac{1}{4}$
9. ОК 07(1 балл) Найдите производную функции в точке $x=0$:

$$y = \frac{5}{4}x^4 - 6x^2 + 7x - 1$$
10. ОК 06(1 балл) Кастрюля, оформленная по индивидуальному заказу, имеет форму цилиндра. Высота кастрюли 35 см, диаметр основания 20 см. Рассчитайте вместимость данной посуды, деленную на π .

Дополнительная часть

При выполнении заданий 11-13 запишите ход решения и полученный ответ

11. ОК 02 (3 балла) Вычислите площадь участка стола, отведенного для презентации работ дизайнера Василия, периметр которого ограничивают линии $y=x^2-2x-2$ и $y=-x^2+2$. Выполните чертеж. Ответ дайте в квадратных метрах.
12. ОК 07 (3 балла) Решите уравнение $\sin^2 x - 2\sin x = 0$. В ответ запишите количество решений, принадлежащих промежутку $[0; 4\pi]$.
13. ПК 1.1 (3 балла) Заказ на 126 открыток первый дизайнер выполняет на 5 часов быстрее, чем второй. Сколько открыток за час изготавливает первый дизайнер, если известно, что он за час может приготовить на 5 открыток больше второго?

Эталоны ответов:

Номер задания	1	2	3	4	5	6	7	8	9	10	11	12	13
Ответ	2	3	50 тыс	0,25	6	-7	1	-10	7	3500	9	5	13

№	Правильный ответ	Содержание вопроса	Компетенция	Время выполнения (мин)
1		Натуральные числа, противоположные им, число 0 образуют множество	ОК 01	3
2		Множество, состоящее из положительных и отрицательных, дробных и целых, числа 0, называется множеством	ОК 02	3
3		Чтобы перемножить степени с одинаковыми основаниями, надо основание степени оставить тем же, а показатели.....	ОК 02	3
4		Продолжите теорему: «Если одна из двух параллельных прямых перпендикулярна плоскости, то и вторая прямая.....».	ОК 04	3
5		Продолжите теорему: «Если две параллельные плоскости пересекаются третьей, то...».	ОК 07	3
6		Если две параллельные прямые параллельны третьей прямой, то они	ОК 01	3
7		Плоскости называются параллельными, если они	ОК 03	3
8		Прямая называется перпендикулярной плоскости, если она перпендикулярна любой прямой,.....	ОК 04	3
9		Боковая поверхность прямой призмы равна произведению периметра основания на	ОК 07	3
10		Если основаниями прямой призмы являются правильные многоугольники, то она называется ...	ОК 02	3
11		Отрезок, для которого указано, какой из его концов является началом, а какой – концом, называется	ОК 03	3
12		Векторы называются равными, если:	ОК 04	3
13		Если длины двух ненулевых векторов равны, и они противоположно направлены, то они называются	ПК1.1	3
14		Скалярное произведение векторов, выраженных своими	ОК 01	3

		координатами, вычисляется как:.....		
15		Если векторы перпендикулярны, то их скалярное произведение равно	ОК 03	3
16		Производная функции-это	ОК 04	3
17		Операция нахождения производной называется	ОК 04	3
18		Точки, в которых производная равна нулю, называются	ОК 06	3
19		Производная постоянной равна	ПК1.1	3
20		При вычислении производной постоянный множитель можно выносить	ОК 01	3
21		Предел отношения приращения функции в точке x к приращению аргумента, когда последнее стремится к нулю называется...	ПК1.1	3
22		Если материальная точка движется по закону $S(t)$, то первая производная от пути по времени есть...	ОК 01	3
23		Геометрический смысл производной состоит в том, что ...	ОК 07	3
24		Уравнение касательной к данной линии в точке M имеет вид...	ОК03	3
25		Ускорение прямолинейного движения равно...	ПК1.1	3
26		Функция возрастает на заданном промежутке, если...	ОК 06	3
27		Функция возрастает на заданном промежутке, если...	ОК 06	3
28		Если график функции расположен выше оси Ox на интервале, то функция на данном	ОК 03	3
29		Если график функции расположен ниже оси Ox на интервале, то функция на данном	ОК 05	3
30		Если две дифференцируемые функции отличаются на постоянное слагаемое, то их производные	ОК 06	3
31		Дифференцируемая функция может иметь экстремум в тех точках, где производная	ОК 07	3
32		Мгновенная скорость движения точки, если $s(t) = 5t + 3$ равна	ОК 06	3
33		Дискретную случайную величину задают указывая её закон	ПК1.11	3
34		Скорость тела, движущегося по закону $s(t) = t^2 + 2$, в момент времени $t = 10$ будет равна	ОК 01	3
35		Вычислите $(\cos x)'$ =	ОК 03	2
36		Вычислите $(kx+b)'$ =	ОК 01	2
37		Вычислите $(\sqrt{x})'$ =	ОК 03	2
38		Вычислите $(10x)'$ =	ОК 04	2
39		Событие, которое обязательно произойдет, называется ...	ОК 05	2
		ся ...		

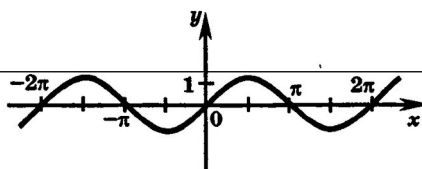
40		Упорядоченное множество, отличающееся только по рядом элементов, называется	ОК 05	2
41		Событие называется ..., если оно не может произойт и в результате данного испытания.	ОК 09	2
42		Множество первообразных для данной функции $f(x)$ называется...	ОК 06	3
43		Определенный интеграл с одинаковыми пределами равен...	ОК 03	3
44		Операцию нахождения первообразной для данной функции называют.....	ПК1.1	3
46		Логарифм, основание которого равно 10 называется	ОК 05	3
47		Логарифм произведения – этологарифмов.	ОК 02	3
48		Логарифм частного – этологарифмов.	ОК 05	3
49		Функция $F(x)$ называется первообразной для функции $f(x)$ на $(a; b)$, если для любого $x \in (a; b)$ выполняется равенство	ОК 07	3
50		Объем конуса определяется по формуле	ПК1.1	3
51		Неопределенный интеграл $\int \sin x dx$ равен	ОК 06	3
52		Показательная функция $y=a^x$ является возрастающей, если основание a больше	ОК 02	3
53		Как называется равенство: <input checked="" type="checkbox"/> Логарифм, основание которого равно $e \approx 2,7$ называется	ОК 05	3
54		Объем цилиндра определяется по формуле	ОК 07	3
55		Геометрический смысл определённого интеграла состоит в том, что он численно равен площади.....	ОК 04	3
56		Отрезок, соединяющий две вершины призмы, не принадлежащие одной называется	ОК 07	3
57		Грани параллелепипеда не имеющие общих вершин, называются	ОК 01	3
58		Перпендикуляр, опущенный из вершины пирамиды на плоскость основания, называется	ОК 02	3
59		Высота боковой грани правильной пирамиды, проведенная из ее вершины, называется	ОК 04	3
60		У куба все грани	ПК1.1	3

ТЕСТОВЫЕ ВОПРОСЫ ЗАКРЫТОГО ТИПА ПО ДИСЦИПЛИНЕ: МАТЕМАТИКА

№	Правильный	Содержание вопроса	Компетенция	Время выполнения
	ный		ция	выполне

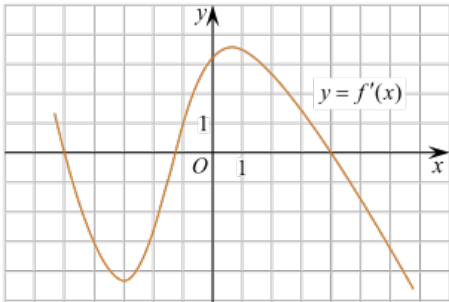
	ответ			ния (мин)
1		Найдите значение выражения $\log_3 \sqrt{27}$ а) 16; б) 0.4; в) 8; г) 1.5	ОК 06	3
2		Сократите дробь $\frac{\log_{11} 32}{\log_{11} 4}$ а) 16; б) 0.4; в) 8; г) 2.5	ОК 07	3
3		Какова величина подоходного налога, который составляет 13% от величины заработной платы в 25000 рублей? а) 1600; б) 400; в) 3250 г) 1200	ОК 01	4
4		Найдите число: 40% которого равны 320 а) 160; б) 400; в) 800; г) 120	ОК 04	3
5		Вычислить: $\frac{(4^3)^2 \cdot 4^5}{4^{10}}$ а) 16; б) 4; в) 8; г) 12	ОК 01	4
6		раскройте формулу сокращенного умножения a^2-b^2 : а) $a^2-2ab+b^2$ б) $(a-b)(a+b)$; в) $a^2+2ab-b^2$; г) $(a-b)(a-b)$	ОК 02	3
7		Больному прописано лекарство, которое нужно пить по 0,5г 3 раза в день в течение 8 дней. В одной упаковке 8 таблеток по 0,25г. Какого наименьшего количества упаковок хватит на весь курс лечения? а) 6 б) 5; в) 6.5; г) 7	ОК 02	4
8		Упростить выражение: $3 \cos^2 x + 3 \sin^2 x - 6$. а) 1; б) -5 в) 3 г) -3	ОК 02	3
9		Найдите множество значений функции $y = \sin x - 1$ а) [-1;1] б) $(-\infty; +\infty)$ в) [-2;0] г) [0;2].	ОК 03	3
10		Найдите значение $\sin \alpha$, если $\cos \alpha = 0,8$ и $\frac{3\pi}{2} \in \alpha \in 2\pi$ а) 3/5 б) -0,6 в) 0,2 г) 2/5	ОК 04	3
11		Какие из функций являются чётными? а) $y = \sin x$; б) $y = \cos x$; в) $y = \operatorname{tg} x$; г) $y = \operatorname{ctg} x$.	ОК 05	3
12		Какое из данных уравнений не имеет корней? а) $\sin x = -0,44$; б) $\cos x = 5$; в) $\operatorname{tg} x = -10$; г) $\cos x = 1$.	ОК 03	3
13		Расшифруйте краткую запись: $a \in \beta$. а) точка а принадлежит плоскости β ; б) точка а принадлежит прямой β ; в) прямая а принадлежит плоскости β ;	ОК 07	3

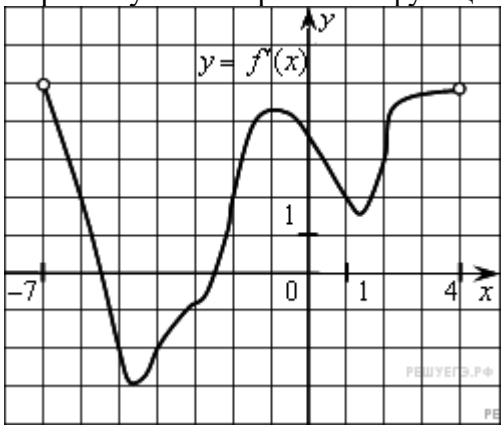
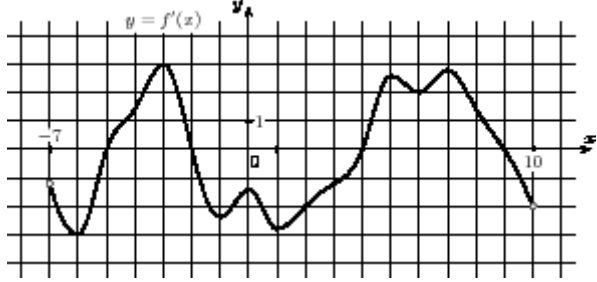
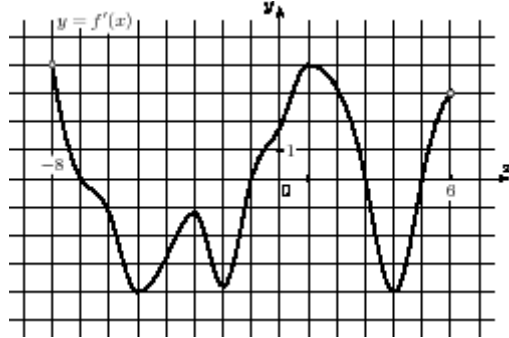
		г) прямая a пересекает плоскость β .		
14		Найдите диагонали прямоугольного параллелепипеда по трем его измерениям: 6; 6; 7 а) 19 б) 11 в) 121 г) 36.	ОК 03	5
15		Как вычислить длину вектора, если известны его координаты? а) она равна квадратному корню из суммы квадратов координат б) она равна произведению квадратов координат в) она равна отношению произведения координат к сумме их квадратов г) она равна сумме квадратов координат	ОК 03	3
16		Даны два вектора с координатами. Вектор $\vec{r} \{5;3\}$ и вектор $\vec{t} \{2;8\}$. Найдите скалярное произведение этих векторов. а) -14 б) -18 в) 34 г) -32	ОК 04	4
17		1. Чему равна производная 1? а) 1 б) 0 в) x г) a (число)	ОК 04	3
18		Вычислите $(6x^3)'$ а) $6x^2$ б) 0 в) $18x^2$ г) $18x$	ОК 01	3
19		Найдите производную функции $y = (2e^x + 3)$ а) $2e^x + 16$ б) e^x в) $2e^x$ г) 0	ОК 03	3
20		Период функции $y = \sin x$? а) $\pi/2$; б) 2π ; в) 4π ; г) π .	ОК 04	3
21		Решите уравнение $f'(x)=0$, если $f(x)=3x^2 - 6x + 4$. Выберите ответ. а) 1; б) -1; в) 4; г) -4.	ОК 06	3
22		Производную функции $y = 4x^3$ равна : а) $12x^2$ б) $12x$ в) $4x^2$ г) $12x^3$	ОК 07	3
23		Если две дифференцируемые функции отличаются на постоянное слагаемое, то: а) их производные равны; б) их производные различаются на разность постоянных слагаемых; в) вопрос о различии их производных установить не удаётся.	ПК 1.1	3
24		Производная функции $y = 0,75x^4 - 2 \cos x$ равна: а) $y = 3x^3 + 2 \cos x$; б) $y = 3x^3 - 2 \sin x$; в) $y = 3x^3 - 2 \cos x$; г) $y = 3x^3 + 2 \sin x$.	ПК 1.1	4
25		Площадь треугольника вычисляется по формуле: а) $S = a*b$; б) $S = (a*b)/2$; в) $S = 2a*b$; г) $S = (a*b)/3$	ОК 05	3
26		График какой функции изображен на рисунке? а) $y = \cos x$; б) $y = \sin x$	ОК 06	4



		$= \sin x$; в) y $= \operatorname{ctg} x$; г) y $= \operatorname{tg} x$.		
27		Вычислить значение производной функции $y = \sin x - 2x$ в точке $x_0 = 0$. а) 1 б) 0 в) -3 г) -1	ОК 01	4
28		Упростить выражение $\cos \alpha - \sin \alpha \cdot \operatorname{ctg} \alpha$. а) 1; б) 0; в) 3; г) -1.	ОК 02	4
29		Найти производную функции $y(x) = e^x - 4x^2$. $\frac{4}{x^3}$ а) $e^x - 3x^3$; б) $e^x - 8x$; в) $e^x - 2x$; г) $e^x - 4x$.	ОК 06	4
30		Найдите производную функции $y = x^3 + \cos x$. а) $y' = 3x^2 - \sin x$ б) $y' = x^3 - \sin x$ в) $y' = 3x^2 + \sin x$ г) $y' = x^3 \ln 3 + \sin x$	ПК 1.1	4

31		Найдите производную функции $y = -e^x + 3x^3$. а) $y' = e^x + 3x$ б) $y' = -xe^x + 9x^2$ в) $y' = -e^x + 9x^2$ г) $y' = -e^{x-1} + 9x^3$.	ОК 07	4
32		Вторая производная $y''(x)$ функции $y(x) = 4x^2 - 2x$ имеет вид а) 4 б) 8 в) 6 г) 7	ОК 03	4
33		Вычислите $(x^3 + 2x^4 - x)'$. а) $3x^2 + 2x^3 - x$ б) $3x^2 + 8x^3 - x^2$ в) $3x^4 + 8x^4 - x^2$ г) $3x^2 + 8x^3 - 1$	ПК 1.1	4
34		Точка движется по закону $S(t) = 2x^3 - 3x^2 + 1$. Найдите скорость точки в момент времени $t_0 = 2$ с. а) 12 м/с б) 4 м/с в) 5 м/с г) 6 м/с	ПК 1.1	4
35		Найдите производную функции $y = x^2 + x$ в точке $x_0 = 2$. а) 5 б) 6 в) 4 г) 3	ОК 01	4
36		Найдите коэффициент касательной к графику функции $f(x) = 5x^2 - 2x$ в точке $x_0 = 1$. а) 8 б) 3 в) 0 г) 9	ОК 07	5
37		Найдите точку \min функции $y = x^3 - 3x$. а) -1 б) 1 в) 0 г) 3	ПК 1.1	5
38		Найдите критические точки функции $y = 5x^3 - 15x$. а) 1 б) -1 в) 1, -1 г) 0	ОК 06	5
39		Найдите критические точки функции $f(x) = 2x^4 - 4x^2$ а) 0, ±1 б) 3 в) 0 г) 0, ±1	ОК 07	4
40		Вторая производная $y''(x)$ функции $y(x) = 4x^2 - 2x$ имеет вид а) 4 б) 8 в) 6 г) 7	ОК 01	4
41		Скорость тела определяется по формуле $V(t) = 5t^3 + t^2$. Чему равно ускорение тела в момент времени $t_0 = 1$ с? а) 16 б) 6 в) 17 г) 34	ОК 06	4
42		Точка движется по закону $S(t) = 2t^3 - 3t$. Чему равно ускорение в момент $t_0 = 1$ с?	ОК 07	4

		а)15 б)12 в)9 г)3		
43		Найдите наименьшее значение функции $f(x) = 2x^3 - 6x + 1$ на $[-1; 0]$. а)5 б)-3 в)1 г)0	ОК 03	5
44		Радиус основания цилиндра 2,5 см, высота 12см. Найти площадь боковой поверхности. а)60 б)65 в)35 г)60π	ПК 1.1	5
45		Найдите полную поверхность куба со стороной 4см. а)64 б)65 в)96 г)60	ОК 02	4
46		Определенный интеграл $\int_2^3 3x^2 dx$ равен: а)19 б)18 в)35 г)27	ОК 05	5
47		Определенный интеграл $\int_1^2 4x^3 dx$ равен а)36 б)17 в)16 г)15	ОК 05	5
48		Диаметр основания конуса равен 42, а длина образующей равна 75. Найдите высоту конуса а)72 б)74 в)66 г)65	ОК 04	4
49		Высота конуса равна 4, а диаметр основания — 6. Найдите образующую конуса. а)5 б)4 в)6 г)15	ОК 01	5
50		Вычислить объем цилиндра, если радиус основания 3, высота 1. а)9 π б)6 π в)3 π; г)2 π .	ОК 05	5
51		Радиус шара равен 1см, чему равен объем шара? а)16π см ³ ; б) 32 π см ³ в) $\frac{4}{3} \pi$ см ³ ; г) $\frac{32}{3} \pi$ см ³ .	ОК 06	5
52		На рисунке изображен график производной функции $y=f(x)$. При каком значении x функция принимает свое наибольшее значение на отрезке $[-4; -2]$?  а) 0,5; б) -4; в) -5; г) 1.	ОК 03	5
53		Образующая конуса 10см, а высота 8см. Найдите боковую поверхность. 1	ОК 04	5
54		Материальная точка движется по закону $S(t) = 3t + 7 + 0,5t^2$, где t – время движения в секундах. Через какое время после начала движения скорость тела окажется	ОК 07	5

		равной 15 м/с? 1) 18; 2) 15; 3) 12; 4) 21.		
55		<p>На рисунке изображён график производной функции, определённой на интервале $(-7; 4)$. Определите количество промежутков возрастания функции:</p>  <p>а) 1; б) 2; в) 3; г) 0.</p>	ОК 04	5
56		<p>На рисунке изображён график функции $y = f(x)$, определённой на интервале $(-7; 10)$. Найдите сумму точек экстремума функции на отрезке $[-4; 8]$.</p>  <p>а) 7 б) 12; в) 15; г) 18.</p>	ОК 03	5
57		<p>На рисунке изображён график производной функции $y = f'(x)$, определённой на интервале $(-8; 6)$. В какой точке отрезка $[-5; -1]$ функция $y = f(x)$ принимает наибольшее значение?</p>  <p>а) -1; б) -3; в) -5; г) -2.</p>	ПК 1.1	5
58		<p>Вычислите: $\int_{-1}^1 x^3 dx$:</p> <p>а) -1; б) 0; в) 1; г) 2.</p>	ОК 01	4

59		Неопределенный интеграл $\int \cos x dx$ равен: а) $y = -\sin x + C$; б) $y = \sin x + C$; в) $y = -\cos x + C$; г) $y = \cos x + C$.	ОК 06	3
60		Образующая конуса 10см, а высота 8см. Найдите объём конуса. а) 96; б) 90; в) 96π г) 90π	ОК 01	5
61		Найдите объём куба со стороной 4см. а) 96; б) 90; в) 64π г) 90π	ОК 05	5
62		1. Радиус основания цилиндра равен 7, высота равна 10. Найдите площадь боковой поверхности цилиндра, деленную на π : а) 140 б) 70 в) 24 г) 140	ОК 07	5
63		Геометрическая фигура, которая образована в результате вращения прямоугольного треугольника вокруг одного из своих катетов: а) конус б) сфера в) шар г) цилиндр	ОК 02	3
64		Площадь боковой поверхности цилиндра равна 72π , а диаметр основания — 9. Найдите высоту цилиндра: а) 12 б) 8 в) 63 г) 60	ОК 05	5
65		Определите высоту цилиндра, если радиус основания 0,5, а объём цилиндра 8π . а) 24; б) 16; в) 36; г) 32.	ОК 02	5
66		Какова вероятность того, что случайно выбранное натуральное число от 10 до 19 делится на три? а) 0,3 б) 0,7 в) 0,333... г) 0,35	ОК 02	5
67		1. Простейшими задачами математической статистики являются: 2. а) выборка и группировка статистических данных, полученных в результате эксперимента; 3. б) определение параметров распределения, вид которого заранее известен; 4. в) получение оценки вероятности изучаемого события.	ОК 05	4
68		Сколько существует вариантов выбора двух чисел из восьми: а) 18 б) 28 в) 16 г) 20	ПК 1.1	4
69	1	Найдите значение выражения $\log_2 16 + \log_2 2$ а) 4; б) 5; в) 6; г) 4,5.	ОК 07	5
70		$\frac{\lg 125}{\lg 5}$ Вычислить а) 75; б) 35; в) $\lg 25$; г) 3	ОК 05	5

ОПИСАНИЕ ОРГАНИЗАЦИИ ОЦЕНИВАНИЯ И ПРАВИЛ ОПРЕДЕЛЕНИЯ РЕЗУЛЬТАТОВ ОЦЕНИВАНИЯ.

Уровень подготовки обучающихся по учебной дисциплине оценивается в баллах: «5» («отлично»), «4» («хорошо»), «3» («удовлетворительно»), «2» («неудовлетворительно»).

Оценка *«отлично»* - обучающийся показывает полные и глубокие знания программного материала, логично и аргументировано отвечает на поставленный вопрос, а также дополнительные вопросы, показывает высокий уровень теоретических знаний. Практическую часть выполняет на 100%.

Оценка *«хорошо»* - обучающийся показывает глубокие знания программного материала, грамотно его излагает, достаточно полно отвечает на поставленный вопрос и дополнительные вопросы, умело формулирует выводы. В тоже время при ответе допускает несущественные погрешности. Практическую часть выполняет на 90%-80%.

Оценка *«удовлетворительно»* - обучающийся показывает достаточные, но не глубокие знания программного материала; при ответе не допускает грубых ошибок или противоречий, однако в формулировании ответа отсутствует должная связь между анализом, аргументацией и выводами. Для получения правильного ответа требуется уточняющие вопросы. Практическую часть выполняет на 70%-60%.

Оценка *«неудовлетворительно»* - обучающийся показывает недостаточные знания программного материала, не способен аргументировано и последовательно его излагать, допускаются грубые ошибки в ответах, неправильно отвечает на поставленный вопрос или затрудняется с ответом. Практическую часть выполняет на менее 50%.

Экзамен по учебной дисциплине проводится в период экзаменационных сессий, установленных календарным учебным графиком. Экзамен принимается преподавателями, которые проводили занятия по данному учебному предмету.