

МИНИСТЕРСТВО НАУКИ И ВЫСШЕГО ОБРАЗОВАНИЯ
РОССИЙСКОЙ ФЕДЕРАЦИИ
ФЕДЕРАЛЬНОЕ ГОСУДАРСТВЕННОЕ БЮДЖЕТНОЕ ОБРАЗОВАТЕЛЬНОЕ
УЧРЕЖДЕНИЕ ВЫСШЕГО ОБРАЗОВАНИЯ
«СЕВЕРО-КАВКАЗСКАЯ ГОСУДАРСТВЕННАЯ АКАДЕМИЯ»
СРЕДНЕПРОФЕССИОНАЛЬНЫЙ КОЛЛЕДЖ



РАБОЧАЯ ПРОГРАММА
ОБЩЕОБРАЗОВАТЕЛЬНОЙ УЧЕБНОЙ ДИСЦИПЛИНЫ

МАТЕМАТИКА

по специальности 40.02.04 Юриспруденция

Черкесск, 2026 г.

Рабочая программа общеобразовательной учебной дисциплины разработана на основе Федерального государственного образовательного стандарта (далее – ФГОС) СОО в пределах образовательной программы СПО по специальности среднего профессионального образования (далее – СПО) 40.02.04 Юриспруденция, базовый уровень, направление подготовки 40.00.00 Юриспруденция

Организация-разработчик:
СПК ФГБОУ ВО «СевКавГА»

Разработчики:
Тарасенко И.В. - преподаватель ФГБОУ ВО «СевКавГА» среднепрофессиональный колледж

Одобрена на заседании цикловой комиссии «Общеобразовательные дисциплины»
От 06 февраля 2026 г. протокол № 6
Руководитель образовательной программы _____ Б.А. Калмыкова

Рекомендована методическим советом колледжа
От 19 февраля 2026 г. протокол № 3

СОДЕРЖАНИЕ

**1. ОБЩАЯ ХАРАКТЕРИСТИКА РАБОЧЕЙ ПРОГРАММЫ
ОБЩЕОБРАЗОВАТЕЛЬНОЙ УЧЕБНОЙ ДИСЦИПЛИНЫ**

**2. СТРУКТУРА И СОДЕРЖАНИЕ ОБЩЕОБРАЗОВАТЕЛЬНОЙ УЧЕБНОЙ
ДИСЦИПЛИНЫ**

**3. УСЛОВИЯ РЕАЛИЗАЦИИ ПРОГРАММЫ ОБЩЕОБРАЗОВАТЕЛЬНОЙ
УЧЕБНОЙ ДИСЦИПЛИНЫ**

**4. КОНТРОЛЬ И ОЦЕНКА РЕЗУЛЬТАТОВ ОСВОЕНИЯ
ОБЩЕОБРАЗОВАТЕЛЬНОЙ УЧЕБНОЙ ДИСЦИПЛИНЫ**

1. ОБЩАЯ ХАРАКТЕРИСТИКА РАБОЧЕЙ ПРОГРАММЫ ОБЩЕОБРАЗОВАТЕЛЬНОЙ УЧЕБНОЙ ДИСЦИПЛИНЫ ОУД.03 «МАТЕМАТИКА»

1.1. Место дисциплины в структуре профессиональной образовательной программы СПО:

Общеобразовательная дисциплина «Математика» является обязательной частью общеобразовательного цикла образовательной программы в соответствии с ФГОС по специальности 40.02.04 Юриспруденция

1.2. Цели и планируемые результаты освоения дисциплины:

1.2.1. Цель дисциплины

Содержание программы общеобразовательной дисциплины «Математика» направлено на достижение результатов ее изучения в соответствии с требованиями ФГОС СОО с учетом профессиональной направленности ФГОС СПО. Приоритетными целями обучения математике на базовом уровне являются:

формирование центральных математических понятий (число, величина, геометрическая фигура, переменная, вероятность, функция), обеспечивающих преемственность и перспективность математического образования обучающихся;

подведение обучающихся на доступном для них уровне к осознанию взаимосвязи математики и окружающего мира, понимание математики как части общей культуры человечества;

развитие интеллектуальных и творческих способностей обучающихся, познавательной активности, исследовательских умений, критичности мышления, интереса к изучению математики;

формирование функциональной математической грамотности: умения распознавать математические аспекты в реальных жизненных ситуациях и при изучении других дисциплин, проявления зависимостей и закономерностей, формулировать их на языке математики и создавать математические модели, применять освоенный математический аппарат для решения практико-ориентированных задач, задач профессиональной деятельности, интерпретировать и оценивать полученные результаты.

1.2.2. Планируемые результаты освоения общеобразовательной дисциплины в соответствии с ФГОС СПО и на основе ФГОС СОО

Особое значение дисциплина имеет при формировании и развитии ОК и ПК

Особое значение общеобразовательная дисциплина «Биология» имеет при формировании и развитии ОК 01; ОК 02; ОК 03; ОК 04; ОК 05, ОК 06, ОК 07 и ПК 1.1, представленных в актуализированных ФГОС СПО по специальности

Код и наименование формируемых компетенций	Планируемые результаты обучения	
	Общие	Дисциплинарные
К 01. Выбирать способы решения задач профессиональной деятельности применительно различным контекстам	<p>Личностные результаты должны отражать в части: трудового воспитания:</p> <ul style="list-style-type: none"> - готовность к труду, осознание ценности мастерства, трудолюбие; - готовность к активной деятельности технологической и социальной направленности, способность инициировать, планировать и самостоятельно выполнять такую деятельность; - интерес к различным сферам профессиональной деятельности. <p>Метапредметные результаты должны отражать:</p> <p>Овладение универсальными учебными познавательными действиями:</p> <p>а) базовые логические действия:</p> <ul style="list-style-type: none"> - самостоятельно формулировать и актуализировать проблему, рассматривать ее всесторонне; - устанавливать существенный признак или основания для сравнения, классификации и обобщения; - определять цели деятельности, задавать параметры и критерии их достижения; - выявлять закономерности и противоречия в рассматриваемых явлениях; - вносить коррективы в деятельность, оценивать соответствие результатов целям, оценивать риски последствий деятельности <p>б) базовые исследовательские действия:</p> <ul style="list-style-type: none"> - владеть навыками учебно-исследовательской и проектной деятельности, навыками разрешения проблем; - выявлять причинно-следственные связи и актуализировать задачу, выдвигать 	<p>ПРб1. Владение методами доказательств, алгоритмами решения задач; умение формулировать определения, аксиомы и теоремы, применять их, проводить доказательные рассуждения в ходе решения задач;</p> <p>ПРб2. Умение оперировать понятиями: степень числа, логарифм числа; умение выполнять вычисление значений и преобразования выражений со степенями и логарифмами, преобразования дробно-рациональных выражений;</p> <p>ПРб3. Умение оперировать понятиями: рациональные, иррациональные, показательные, степенные, логарифмические, тригонометрические уравнения и неравенства, их системы;</p> <p>ПРб4. Умение оперировать понятиями: функция, непрерывная функция, производная, первообразная, определенный интеграл; умение находить производные элементарных функций, используя справочные материалы; исследовать в простейших случаях функции на монотонность, находить наибольшие и наименьшие значения функций; строить графики многочленов с использованием аппарата математического анализа; применять производную при решении задач на движение; решать практико-ориентированные задачи на наибольшие и наименьшие значения, на нахождение пути, скорости и ускорения;</p> <p>ПРб5. Умение оперировать понятиями: рациональная функция, показательная функция, степенная функция, логарифмическая функция, тригонометрические функции, обратные функции; умение строить графики изученных функций, использовать графики при изучении процессов и зависимостей, при решении задач из других учебных предметов и задач из реальной жизни; выражать формулами зависимости между величинами;</p> <p>ПРб6. Умение решать текстовые задачи разных типов (в том числе на проценты, доли и части, на движение, работу, стоимость товаров и услуг, налоги, задачи из области управления личными и семейными финансами); составлять выражения, уравнения, неравенства и их системы по условию задачи, исследовать полученное решение и оценивать</p>

	<p>гипотезу ее решения, находить аргументы для доказательства своих утверждений, задавать параметры и критерии решения;</p> <p>- анализировать полученные в ходе решения задачи результаты, критически оценивать их достоверность, прогнозировать изменение в новых условиях;</p> <p>разрабатывать план решения проблемы с учетом анализа имеющихся материальных и нематериальных ресурсов;</p> <p>- уметь переносить знания в познавательную и практическую области жизнедеятельности;</p> <p>- уметь интегрировать знания из разных предметных областей;</p> <p>- выдвигать новые идеи, предлагать оригинальные подходы и решения в актике</p>	<p>правдоподобность результатов;</p> <p>ПР67. Умение оперировать понятиями: среднее арифметическое, медиана, наибольшее и наименьшее значения, размах, дисперсия, стандартное отклонение числового набора; умение извлекать, интерпретировать информацию, представленную в таблицах, на диаграммах, графиках, отражающую свойства реальных процессов и явлений; представлять информацию с помощью таблиц и диаграмм; исследовать статистические данные, в том числе с применением графических методов и электронных средств;</p> <p>ПР68. Умение оперировать понятиями: случайный опыт и случайное событие, вероятность случайного события; умение вычислять вероятность с использованием графических методов; применять формулы сложения и умножения вероятностей, комбинаторные факты и формулы при решении задач; оценивать вероятности реальных событий;</p> <p>знакомство со случайными величинами; умение приводить примеры проявления закона больших чисел в природных и общественных явлениях;</p> <p>ПР69. Умение оперировать понятиями: точка, прямая, плоскость, пространство, двугранный угол, скрещивающиеся прямые, параллельность и перпендикулярность прямых и плоскостей, угол между прямыми, угол между прямой и плоскостью, угол между плоскостями, расстояние от точки до плоскости, расстояние между прямыми, расстояние между плоскостями; умение использовать при решении задач изученные факты и теоремы планиметрии; умение оценивать размеры объектов окружающего мира;</p> <p>ПР610. Умение оперировать понятиями: многогранник, сечение многогранника, куб, параллелепипед, призма, пирамида, фигура и поверхность вращения, цилиндр, конус, шар, сфера, сечения фигуры вращения, плоскость, касающаяся сферы, цилиндра, конуса, площадь поверхности пирамиды, призмы, конуса, цилиндра, площадь сферы, объем куба, прямоугольного параллелепипеда, пирамиды, призмы, цилиндра, конуса, шара; умение изображать многогранники и поверхности вращения, их сечения от руки, с помощью чертежных инструментов и электронных средств; умение</p>
--	--	--

		<p>распознавать симметрию в пространстве; умение распознавать правильные многогранники;</p> <p>ПРБ11. Умение оперировать понятиями: движение в пространстве, подобные фигуры в пространстве; использовать отношение площадей поверхностей и объемов подобных фигур при решении задач;</p> <p>ПРБ12. Умение вычислять геометрические величины (длина, угол, площадь, объем, площадь поверхности), используя изученные формулы и методы;</p> <p>ПРБ13. Умение оперировать понятиями: прямоугольная система координат, координаты точки, вектор, координаты вектора, скалярное произведение, угол между векторами, сумма векторов, произведение вектора на число; находить с помощью изученных формул координаты середины отрезка, расстояние между двумя точками;</p> <p>ПРБ14. Умение выбирать подходящий изученный метод для решения задачи, распознавать математические факты и математические модели в природных и общественных явлениях, в искусстве; умение приводить примеры математических открытий российской и мировой математической науки</p>
<p>К 02. Использовать современные средства поиска, анализа и интерпретации информации и информационные технологии для выполнения задач профессиональной деятельности</p>	<p>Личностные результаты должны отражать в части: ценности научного познания:</p> <ul style="list-style-type: none"> -сформированность мировоззрения, соответствующего современному уровню развития науки и общественной практики, основанного на диалоге культур, способствующего осознанию своего места в поликультурном мире; <p>Метапредметные результаты должны отражать:</p> <p>Овладение универсальными учебными познавательными действиями:</p> <p>в) работа с информацией:</p> <ul style="list-style-type: none"> - владеть навыками получения информации из источников разных типов, самостоятельно осуществлять поиск, анализ, систематизацию информации различных видови форм 	<p>ПРБ1. Владение методами доказательств, алгоритмами решения задач; умение формулировать определения, аксиомы и теоремы, применять их, проводить доказательные рассуждения в ходе решения задач;</p> <p>ПРБ2. Умение оперировать понятиями: степень числа, логарифм числа; умение выполнять вычисление значений и преобразования выражений со степенями и логарифмами, преобразования дробно-рациональных выражений;</p> <p>ПРБ3. Умение оперировать понятиями: рациональные, иррациональные, показательные, степенные, логарифмические, тригонометрические уравнения и неравенства, их системы;</p> <p>ПРБ4. Умение оперировать понятиями: функция, непрерывная функция, производная, первообразная, определенный интеграл; умение находить производные элементарных функций, используя справочные материалы; исследовать в простейших случаях функции на монотонность, находить наибольшие</p>

	<p>представления;</p> <ul style="list-style-type: none"> - создавать тексты в различных форматах с учетом назначения информации и целевой аудитории, выбирая оптимальную форму представления и визуализации; - оценивать достоверность, легитимность информации, ее соответствие правовыми морально-этическим нормам; - использовать средства информационных и коммуникационных технологий в решении когнитивных, коммуникативных и организационных задач с соблюдением требований эргономики, техники безопасности, гигиены, ресурсосбережения, правовых и этических норм, норм информационной безопасности 	<p>и наименьшие значения функций; строить графики многочленов с использованием аппарата математического анализа; применять производную при решении задач на движение; решать практико-ориентированные задачи на наибольшие и наименьшие значения, нахождение пути, скорости и ускорения;</p> <p>ПРб5. Умение оперировать понятиями: рациональная функция, показательная функция, степенная функция, логарифмическая функция, тригонометрические функции, обратные функции; умение строить графики изученных функций, использовать графики при изучении процессов и зависимостей, при решении задач из других учебных предметов и задач из реальной жизни; выражать формулами зависимости между величинами;</p> <p>ПРб6. Умение решать текстовые задачи разных типов (в том числе на проценты, доли и части, на движение, работу, стоимость товаров и услуг, налоги, задачи из области управления личными и семейными финансами); составлять выражения, уравнения, неравенства и их системы по условию задачи, исследовать полученное решение и оценивать правдоподобность результатов;</p> <p>ПРб7. Умение оперировать понятиями: среднее арифметическое, медиана, наибольшее и наименьшее значения, размах, дисперсия, стандартное отклонение числового набора; умение извлекать, интерпретировать информацию, представленную в таблицах, на диаграммах, графиках, отражающую свойства реальных процессов и явлений; представлять информацию с помощью таблиц и диаграмм; исследовать статистические данные, в том числе с применением графических методов и электронных средств;</p> <p>ПРб8. Умение оперировать понятиями: случайный опыт и случайное событие, вероятность случайного события; умение вычислять вероятность с использованием графических методов; применять формулы сложения и умножения вероятностей, комбинаторные факты и формулы при решении задач; оценивать вероятности реальных событий;</p> <p>знакомство со случайными величинами; умение приводить примеры проявления закона больших чисел в природных</p>
--	---	---

		<p>и общественных явлениях;</p> <p>ПРб9. Умение оперировать понятиями: точка, прямая, плоскость, пространство, двугранный угол, скрещивающиеся прямые, параллельность и перпендикулярность прямых и плоскостей, угол между прямыми, угол между прямой и плоскостью, угол между плоскостями, расстояние от точки до плоскости, расстояние между прямыми, расстояние между плоскостями; умение использовать при решении задач изученные факты и теоремы планиметрии; умение оценивать размеры объектов окружающего мира;</p> <p>ПРб10. Умение оперировать понятиями: многогранник, сечение многогранника, куб, параллелепипед, призма, пирамида, фигура и поверхность вращения, цилиндр, конус, шар, сфера, сечения фигуры вращения, плоскость, касающаяся сферы, цилиндра, конуса, площадь поверхности пирамиды, призмы, конуса, цилиндра, площадь сферы, объем куба, прямоугольного параллелепипеда, пирамиды, призмы, цилиндра, конуса, шара; умение изображать многогранники и поверхности вращения, их сечения от руки, с помощью чертежных инструментов и электронных средств; умение распознавать симметрию в пространстве; умение распознавать правильные многогранники;</p> <p>ПРб11. Умение оперировать понятиями: движение в пространстве, подобные фигуры в пространстве; использовать отношение площадей поверхностей и объемов подобных фигур при решении задач;</p> <p>ПРб12. Умение вычислять геометрические величины (длина, угол, площадь, объем, площадь поверхности), используя изученные формулы и методы;</p> <p>ПРб13. Умение оперировать понятиями: прямоугольная система координат, координаты точки, вектор, координаты вектора, скалярное произведение, угол между векторами, сумма векторов, произведение вектора на число; находить с помощью изученных формул координаты середины отрезка, расстояние между двумя точками;</p> <p>ПРб14. Умение выбирать подходящий изученный метод для решения задачи, распознавать математические факты и математические модели в природных и общественных явлениях, в искусстве; умение приводить примеры математических открытий российской и мировой</p>
--	--	---

<p>К 03. Планировать реализовывать собственное профессиональное личностное развитие, предпринимательскую деятельность профессиональной сфере, использовать знания о правовой и финансовой грамотности в различных жизненных ситуациях</p>	<p>Личностные результаты должны отражать в части: духовно-нравственного воспитания:</p> <ul style="list-style-type: none"> - сформированность нравственного сознания, этического поведения; - способность оценивать ситуацию и принимать осознанные решения, ориентируясь на морально-нравственные нормы и ценности; - осознание личного вклада в построение устойчивого будущего; - ответственное отношение к своим родителям и (или) другим членам семьи, созданию семьи на основе осознанного принятия ценностей семейной жизни в соответствии с традициями народов России; <p>Метапредметные результаты должны отражать:</p> <p>Овладение универсальными регулятивными действиями:</p> <p>а) самоорганизация:</p> <ul style="list-style-type: none"> - самостоятельно осуществлять познавательную деятельность, выявлять проблемы, ставить и формулировать собственные задачи в образовательной деятельности и жизненных ситуациях; самостоятельно составлять план решения проблемы с учетом имеющихся ресурсов, собственных возможностей и предпочтений; давать оценку новым ситуациям; <p>б) самоконтроль:</p> <ul style="list-style-type: none"> - использовать приемы рефлексии для оценки ситуации, выбора верного решения; - уметь оценивать риски и своевременно принимать решения по их снижению; <p>в) эмоциональный интеллект, предполагающий сформированность:</p>	<p>математической науки</p> <p>ПРб1. Владение методами доказательств, алгоритмами решения задач; умение формулировать определения, аксиомы и теоремы, применять их, проводить доказательные рассуждения в ходе решения задач;</p> <p>ПРб4. Умение оперировать понятиями: функция, непрерывная функция, производная, первообразная, определенный интеграл; умение находить производные элементарных функций, используя справочные материалы; исследовать в простейших случаях функции на монотонность, находить наибольшие и наименьшие значения функций; строить графики многочленов с использованием аппарата математического анализа; применять производную при решении задач на движение; решать практико-ориентированные задачи на наибольшие и наименьшие значения, на нахождение пути, скорости и ускорения;</p> <p>ПРб5. Умение оперировать понятиями: рациональная функция, показательная функция, степенная функция, логарифмическая функция, тригонометрические функции, обратные функции; умение строить графики изученных функций, использовать графики при изучении процессов и зависимостей, при решении задач из других учебных предметов и задач из реальной жизни; выражать формулами зависимости между величинами;</p> <p>ПРб6. Умение решать текстовые задачи разных типов (в том числе на проценты, доли и части, на движение, работу, стоимость товаров и услуг, налоги, задачи из области управления личными и семейными финансами); составлять выражения, уравнения, неравенства и их системы по условию задачи, исследовать полученное решение и оценивать правдоподобность результатов;</p> <p>ПРб7. Умение оперировать понятиями: среднее арифметическое, медиана, наибольшее и наименьшее значения, размах, дисперсия, стандартное отклонение числового набора; умение извлекать, интерпретировать информацию, представленную в таблицах, на диаграммах, графиках, отражающую свойства реальных процессов и явлений; представлять информацию с помощью таблиц и</p>
---	--	--

	<p>внутренней мотивации, включающей стремление к достижению цели и успеху, оптимизм, инициативность, умение действовать, исходя из своих возможностей;</p> <p>- эмпатии, включающей способность понимать эмоциональное состояние других, учитывать его при осуществлении коммуникации, способность к сочувствию и сопереживанию;</p> <p>- социальных навыков, включающих способность выстраивать отношения с другими людьми, заботиться, проявлять интерес и разрешать конфликты</p>	<p>диаграмм; исследовать статистические данные, в том числе с применением графических методов и электронных средств;</p> <p>ПР68. Умение оперировать понятиями: случайный опыт и случайное событие, вероятность случайного события; умение вычислять вероятность с использованием графических методов; применять формулы сложения и умножения вероятностей, комбинаторные факты и формулы при решении задач; оценивать вероятности реальных событий; знакомство со случайными величинами; умение приводить примеры проявления закона больших чисел в природных и общественных явлениях;</p> <p>ПР614. Умение выбирать подходящий изученный метод для решения задачи, распознавать математические факты и математические модели в природных и общественных явлениях, в искусстве; умение приводить примеры математических открытий российской и мировой математической науки</p>
<p>К 04. Эффективно взаимодействовать работать в коллективе команде</p>	<p>Личностные результаты должны отражать в части: ценности научного познания: осознание ценности научной деятельности, готовность осуществлять проектную и исследовательскую деятельность индивидуально и в группе</p> <p>Метапредметные результаты должны отражать:</p> <p>Овладение универсальными коммуникативными действиями:</p> <p>б) совместная деятельность:</p> <p>- понимать и использовать преимущества командной и индивидуальной работы;</p> <p>- принимать цели совместной деятельности, организовывать и координировать действия по ее достижению: составлять план действий, распределять роли с учетом мнений участников обсуждать результаты совместной работы;</p> <p>Овладение универсальными регулятивными действиями:</p>	<p>ПР67. Умение оперировать понятиями: среднее арифметическое, медиана, наибольшее и наименьшее значения, размах, дисперсия, стандартное отклонение числового набора; умение извлекать, интерпретировать информацию, представленную в таблицах, на диаграммах, графиках, отражающую свойства реальных процессов и явлений; представлять информацию с помощью таблиц и диаграмм; исследовать статистические данные, в том числе с применением графических методов и электронных средств;</p> <p>ПР68. Умение оперировать понятиями: случайный опыт и случайное событие, вероятность случайного события; умение вычислять вероятность с использованием графических методов; применять формулы сложения и умножения вероятностей, комбинаторные факты и формулы при решении задач; оценивать вероятности реальных событий; знакомство со случайными величинами; умение приводить примеры проявления закона больших чисел в природных и общественных явлениях;</p> <p>ПР614. Умение выбирать подходящий изученный метод для решения задачи, распознавать математические факты</p>

	<p>г) принятие себя и других людей:</p> <ul style="list-style-type: none"> - принимать мотивы и аргументы других людей при анализе результатов деятельности; - признавать свое право и право других людей на ошибки; - развивать способность понимать мир с позиции другого человека. 	<p>и математические модели в природных и общественных явлениях, в искусстве; умение приводить примеры математических открытий российской и мировой математической науки</p>
<p>К 05. Осуществлять устную и письменную коммуникацию на государственном языке Российской Федерации с учетом особенностей социального и культурного контекста</p>	<p>Личностные результаты должны отражать в части: эстетического воспитания:</p> <ul style="list-style-type: none"> - эстетическое отношение к миру, включая эстетику быта, научного и технического творчества, спорта, труда и общественных отношений; - способность воспринимать различные виды искусства, традиции и творчество своего и других народов, ощущать эмоциональное воздействие искусства; <p>Метапредметные результаты должны отражать:</p> <p>Овладение универсальными коммуникативными действиями:</p> <p>а) общение: - осуществлять коммуникации во всех сферах жизни;</p> <ul style="list-style-type: none"> - распознавать невербальные средства общения, понимать значение социальных знаков, распознавать предпосылки конфликтных ситуаций и смягчать конфликты; - развернуто и логично излагать свою точку зрения с использованием языковых средств 	<p>ПРб1. Владение методами доказательств, алгоритмами решения задач; умение формулировать определения, аксиомы и теоремы, применять их, проводить доказательные рассуждения в ходе решения задач;</p> <p>ПРб8. Умение оперировать понятиями: случайный опыт и случайное событие, вероятность случайного события; умение вычислять вероятность с использованием графических методов; применять формулы сложения и умножения вероятностей, комбинаторные факты и формулы при решении задач; оценивать вероятности реальных событий; знакомство со случайными величинами; умение приводить примеры проявления закона больших чисел в природных и общественных явлениях;</p> <p>ПРб9. Умение оперировать понятиями: точка, прямая, плоскость, пространство, двугранный угол, скрещивающиеся прямые, параллельность и перпендикулярность прямых и плоскостей, угол между прямыми, угол между прямой и плоскостью, угол между плоскостями, расстояние от точки до плоскости, расстояние между прямыми, расстояние между плоскостями; умение использовать при решении задач изученные факты и теоремы планиметрии; умение оценивать размеры объектов окружающего мира;</p> <p>ПРб10. Умение оперировать понятиями: многогранник, сечение многогранника, куб, параллелепипед, призма, пирамида, фигура и поверхность вращения, цилиндр, конус, шар, сфера, сечения фигуры вращения, плоскость, касающаяся сферы, цилиндра, конуса, площадь поверхности пирамиды, призмы, конуса, цилиндра, площадь сферы, объем куба, прямоугольного параллелепипеда, пирамиды, призмы, цилиндра, конуса, шара; умение изображать многогранники</p>

		<p>и поверхности вращения, их сечения от руки, с помощью чертежных инструментов и электронных средств; умение распознавать симметрию в пространстве; умение распознавать правильные многогранники;</p> <p>ПРб11 Умение оперировать понятиями: движение в пространстве, подобные фигуры в пространстве; использовать отношение площадей поверхностей и объемов подобных фигур при решении задач;</p> <p>ПРб12. Умение вычислять геометрические величины (длина, угол, площадь, объем, площадь поверхности), используя изученные формулы и методы;</p> <p>ПРб13. Умение оперировать понятиями: прямоугольная система координат, координаты точки, вектор, координаты вектора, скалярное произведение, угол между векторами, сумма векторов, произведение вектора на число; находить с помощью изученных формул координаты середины отрезка, расстояние между двумя точками;</p> <p>ПРб14. Умение выбирать подходящий изученный метод для решения задачи, распознавать математические факты и математические модели в природных и общественных явлениях, в искусстве; умение приводить примеры математических открытий российской и мировой математической науки</p>
<p>К 06 Проявлять гражданско-патриотическую позицию, демонстрировать осознанное поведение на основе традиционных российских духовно-нравственных ценностей, в том числе с учетом гармонизации межнациональных и межрелигиозных отношений, применять стандарты антикоррупционного поведения</p>	<p>Личностные результаты должны отражать в части:</p> <p>- гражданского воспитания: принятие традиционных национальных, общечеловеческих гуманистических и демократических ценностей;</p> <p>- патриотического воспитания: ценностное отношение к государственным символам, историческому и природному наследию, памятникам, традициям народов России, достижениям России в науке, искусстве, спорте, технологиях и труде;</p> <p>Метапредметные результаты должны отражать: Овладение универсальными регулятивными действиями: в) эмоциональный интеллект, предполагающий сформированность:</p>	<p>- ПРб1. Владение методами доказательств, алгоритмами решения задач; умение формулировать определения, аксиомы и теоремы, применять их, проводить доказательные рассуждения в ходе решения задач;</p> <p>ПРб4. Умение оперировать понятиями: функция, непрерывная функция, производная, первообразная, определенный интеграл; умение находить производные элементарных функций, используя справочные материалы; исследовать в простейших случаях функции на монотонность, находить наибольшие и наименьшие значения функций; строить графики многочленов с использованием аппарата математического анализа; применять производную при решении задач на движение; решать практико-ориентированные задачи на наибольшие и наименьшие значения, на нахождение пути, скорости и ускорения;</p>

	<p>--самосознания, включающего способность понимать свое эмоциональное состояние, видеть направления развития собственной эмоциональной сферы, быть уверенным в себе;</p> <ul style="list-style-type: none"> - саморегулирования, включающего самоконтроль, умение принимать ответственность за свое поведение, способность адаптироваться к эмоциональным изменениям и проявлять гибкость, быть открытым новому; - внутренней мотивации, включающей стремление к достижению цели и успеху, оптимизм, инициативность, умение действовать, исходя из своих возможностей; - эмпатии, включающей способность понимать эмоциональное состояние других, учитывать его при осуществлении коммуникации, способность к сочувствию и сопереживанию; - социальных навыков, включающих способность выстраивать отношения с другими людьми, заботиться, проявлять интерес и разрешать конфликты 	<p>ПРб6. Умение решать текстовые задачи разных типов (в том числе на проценты, доли и части, на движение, работу, стоимость товаров и услуг, налоги, задачи из области управления личными и семейными финансами); составлять выражения, уравнения, неравенства и их системы по условию задачи, исследовать полученное решение и оценивать правдоподобность результатов;</p> <p>ПРб7. Умение оперировать понятиями: среднее арифметическое, медиана, наибольшее и наименьшее значения, размах, дисперсия, стандартное отклонение числового набора; умение извлекать, интерпретировать информацию, представленную в таблицах, на диаграммах, графиках, отражающую свойства реальных процессов и явлений; представлять информацию с помощью таблиц и диаграмм; исследовать статистические данные, в том числе с применением графических методов и электронных средств;</p> <p>ПРб8. Умение оперировать понятиями: случайный опыт и случайное событие, вероятность случайного события; умение вычислять вероятность с использованием графических методов; применять формулы сложения и умножения вероятностей, комбинаторные факты и формулы при решении задач; оценивать вероятности реальных событий; знакомство со случайными величинами; умение приводить примеры проявления закона больших чисел в природных и общественных явлениях;</p> <p>ПРб14. Умение выбирать подходящий изученный метод для решения задачи, распознавать математические факты и математические модели в природных и общественных явлениях, в искусстве; умение приводить примеры математических открытий российской и мировой математической науки</p>
<p>К 07 Содействовать сохранению окружающей среды, ресурсосбережению, применять знания об изменении климата, принципы бережливого производства, эффективно действовать в чрезвычайных ситуациях</p>	<p>Личностные результаты должны отражать в части: экологического воспитания:</p> <ul style="list-style-type: none"> - активное неприятие действий, приносящих вред окружающей среде; - умение прогнозировать неблагоприятные экологические последствия предпринимаемых действий, предотвращать 	<p>ПРб1. Владение методами доказательств, алгоритмами решения задач; умение формулировать определения, аксиомы и теоремы, применять их, проводить доказательные рассуждения в ходе решения задач;</p> <p>ПРб4. Умение оперировать понятиями: функция, непрерывная функция, производная, первообразная, определенный интеграл; умение находить производные</p>

	<p>их;</p> <ul style="list-style-type: none"> - расширение опыта деятельности экологической направленности; <p>Метапредметные результаты должны отражать: Овладение универсальными учебными познавательными действиями:</p> <p>б) базовые исследовательские действия:</p> <ul style="list-style-type: none"> - разрабатывать план решения проблемы с учетом анализа имеющихся материальных и нематериальных ресурсов; - осуществлять целенаправленный поиск переноса средств и способов действия в профессиональную среду; - уметь переносить знания в познавательную и практическую области жизнедеятельности; <p>Овладение универсальными регулятивными действиями:</p> <p>б) самоконтроль:</p> <ul style="list-style-type: none"> - давать оценку новым ситуациям, вносить коррективы в деятельность, оценивать соответствие результатов целям 	<p>элементарных функций, используя справочные материалы; исследовать в простейших случаях функции на монотонность, находить наибольшие и наименьшие значения функций; строить графики многочленов с использованием аппарата математического анализа; применять производную при решении задач на движение; решать практико-ориентированные задачи на наибольшие и наименьшие значения, на нахождение пути, скорости и ускорения;</p> <p>ПР65. Умение оперировать понятиями: рациональная функция, показательная функция, степенная функция, логарифмическая функция, тригонометрические функции, обратные функции; умение строить графики изученных функций, использовать графики при изучении процессов и зависимостей, при решении задач из других учебных предметов и задач из реальной жизни; выражать формулами зависимости между величинами;</p> <p>ПР66. Умение решать текстовые задачи разных типов (в том числе на проценты, доли и части, на движение, работу, стоимость товаров и услуг, налоги, задачи из области управления личными и семейными финансами); составлять выражения, уравнения, неравенства и их системы по условию задачи, исследовать полученное решение и оценивать правдоподобность результатов;</p> <p>ПР68. Умение оперировать понятиями: случайный опыт и случайное событие, вероятность случайного события; умение вычислять вероятность с использованием графических методов; применять формулы сложения и умножения вероятностей, комбинаторные факты и формулы при решении задач; оценивать вероятности реальных событий; знакомство со случайными величинами; умение приводить примеры проявления закона больших чисел в природных и общественных явлениях;</p> <p>ПР69. Умение оперировать понятиями: точка, прямая, плоскость, пространство, двугранный угол, скрещивающиеся прямые, параллельность и перпендикулярность прямых и плоскостей, угол между прямыми, угол между прямой и плоскостью, угол между плоскостями, расстояние от точки до плоскости, расстояние между прямыми, расстояние между</p>
--	--	---

		<p>плоскостями; умение использовать при решении задач изученные факты и теоремы планиметрии; умение оценивать размеры объектов окружающего мира;</p> <p>ПРб10. Умение оперировать понятиями: многогранник, сечение многогранника, куб, параллелепипед, призма, пирамида, фигура и поверхность вращения, цилиндр, конус, шар, сфера, сечения фигуры вращения, плоскость, касающаяся сферы, цилиндра, конуса, площадь поверхности пирамиды, призмы, конуса, цилиндра, площадь сферы, объем куба, прямоугольного параллелепипеда, пирамиды, призмы, цилиндра, конуса, шара; умение изображать многогранники и поверхности вращения, их сечения от руки, с помощью чертежных инструментов и электронных средств; умение распознавать симметрию в пространстве; умение распознавать правильные многогранники;</p> <p>ПРб11 Умение оперировать понятиями: движение в пространстве, подобные фигуры в пространстве; использовать отношение площадей поверхностей и объемов подобных фигур при решении задач;</p> <p>ПРб12. Умение вычислять геометрические величины (длина, угол, площадь, объем, площадь поверхности), используя изученные формулы и методы;</p> <p>ПРб13. Умение оперировать понятиями: прямоугольная система координат, координаты точки, вектор, координаты вектора, скалярное произведение, угол между векторами, сумма векторов, произведение вектора на число; находить с помощью изученных формул координаты середины отрезка, расстояние между двумя точками;</p> <p>ПРб14. Умение выбирать подходящий изученный метод для решения задачи, распознавать математические факты и математические модели в природных и общественных явлениях, в искусстве; умение приводить примеры математических открытий российской и мировой математической науки</p>
<p>ПК 1.1. Осуществлять профессиональное толкование норм права</p>	<p>уметь: осуществлять профессиональное толкование нормативных правовых актов для реализации прав граждан в сфере пенсионного обеспечения и</p>	<p>уметь решать текстовые задачи разных типов (в том числе на проценты, доли и части, на движение, работу, стоимость товаров и услуг, налоги, задачи из области управления личными и семейными финансами); составлять выражения, уравнения, неравенства и их системы по условию задачи, исследовать полученное решение и оценивать</p>

	социальной защиты.	правдоподобность результатов; - уметь оперировать понятиями: определение, аксиома, теорема, следствие, свойство, признак, доказательство, равносильные формулировки; уметь формулировать обратное и противоположное утверждение, приводить примеры и контрпримеры, использовать метод математической индукции; проводить доказательные рассуждения при решении задач, оценивать логическую правильность рассуждений;
--	--------------------	---

2. СТРУКТУРА И СОДЕРЖАНИЕ ОБЩЕОБРАЗОВАТЕЛЬНОЙ УЧЕБНОЙ ДИСЦИПЛИНЫ

2.1. Объем общеобразовательной учебной дисциплины и виды учебной работы

Вид учебной работы	Объем в часах
Объем образовательной программы	242
Суммарная учебная нагрузка во взаимодействии с преподавателем	234
в том числе:	
лекции, уроки	156
практические занятия	78
лабораторные занятия	-
из них профессионально ориентированное содержание (содержание прикладного модуля)	40
Промежуточная аттестация: 1 семестр -ДФК 2 семестр - экзамен	8

2.2. Тематический план и содержание общеобразовательной учебной дисциплины

Наименование разделов и тем	Содержание учебного материала и формы организации деятельности обучающихся	Объем в часах	Коды компетенций, формированию которых способствует элемент программы
1	2	3	4
1 СЕМЕСТР			
Раздел 1. Повторение курса математики основной школы		18	ОК 01, ОК 02, ОК 03, ОК 04, ОК 05, ОК 06 ПК-1.1
Тема 1.1. Цель и задачи математики при освоении специальности. Множества и логика	Содержание учебного материала Цель и задачи математики при освоении специальности. Базовые знания и умения по математике в профессиональной и в повседневной деятельности. Множество, операции над множествами. Диаграммы Эйлера–Венна. Использование теоретико-множественного аппарата для описания реальных процессов и явлений в профессиональной деятельности, при решении задач из других дисциплин. Определение, теорема, следствие, доказательство	4	
Тема 1.2. Числа и вычисления	Содержание учебного материала Натуральные и целые числа. Признаки делимости целых чисел. Рациональные числа. Обыкновенные и десятичные дроби, проценты, бесконечные периодические дроби. Арифметические операции с рациональными числами, преобразования числовых выражений. Действительные числа. Рациональные и иррациональные числа. Арифметические операции с действительными числами. Приближённые вычисления, правила округления, прикидка и оценка результата вычислений Практическое занятие	2	
Тема 1.3 Тождества и тождественные преобразования. Уравнения и неравенства	Тождества и тождественные преобразования. Уравнение, корень уравнения. Неравенство, решение неравенства. Метод интервалов. Решение целых и дробно-рациональных уравнений и неравенств. Применение уравнений и неравенств к решению математических задач и задач из различных областей науки и реальной жизни. Системы и совокупности рациональных уравнений и неравенств. Системы линейных уравнений. Решение прикладных задач с помощью системы линейных уравнений	2	
Тема 1.4. Процентные вычисления	Профессионально ориентированное содержание (содержание прикладного модуля)		

в профессиональных задачах	<p>Применение дробей и процентов для решения прикладных задач из различных отраслей знаний и реальной жизни. Приближённые вычисления, правила округления, прикидка и оценка результата вычислений. Разные способы вычисления процентов. Процентные вычисления в профессиональных задачах. Применение уравнений и неравенств к решению математических задач и задач из различных областей науки и реальной жизни</p> <p>Практическое занятие</p>	6	
Тема 1.5. Последовательности и прогрессии	<p>Содержание учебного материала</p> <p>Последовательности, способы задания последовательностей. Монотонные последовательности. Арифметическая и геометрическая прогрессии. Бесконечно убывающая геометрическая прогрессия. Сумма бесконечно убывающей геометрической прогрессии. Формула сложных процентов. Использование прогрессии для решения реальных задач прикладного характера</p> <p>Комбинированное занятие</p>	2	ОК 01, ОК 03, ОК 04, ОК 07 ПК-1.1
Тема 1.6. Функции и графики	<p>Содержание учебного материала</p> <p>Функция, способы задания функции. График функции. Взаимно обратные функции. Область определения и множество значений функции. Нули функции. Промежутки знакопостоянства. Чётные и нечётные функции</p>	2	
Раздел 2 Прямые и плоскости в пространстве. Координаты и векторы в пространстве		36	
Тема 2.1. Повторение планиметрии. Основные понятия стереометрии	<p>Содержание учебного материала</p> <p>Основные фигуры, факты и теоремы планиметрии.</p> <p>Основные понятия стереометрии. Точка, прямая, плоскость, пространство. Понятие об аксиоматическом построении стереометрии: аксиомы стереометрии и следствия из них</p>	2	
Тема 2.2. Прямые и плоскости в пространстве. Параллельность прямых, прямой и плоскости	<p>Содержание учебного материала</p> <p>Взаимное расположение прямых в пространстве: пересекающиеся, параллельные и скрещивающиеся прямые. Параллельность прямых и плоскостей в пространстве: параллельные прямые в пространстве, параллельность трёх прямых, параллельность прямой и плоскости. Углы с сонаправленными сторонами, угол между прямыми в пространстве. Параллельность плоскостей: параллельные плоскости, свойства параллельных плоскостей. Простейшие пространственные фигуры на плоскости: тетраэдр, куб, параллелепипед, построение сечений</p> <p>Практическое занятие</p>	6	
Тема 2.3.	Содержание учебного материала	4	

Перпендикулярность прямых, прямой и плоскости, плоскостей	Перпендикулярность прямой и плоскости: перпендикулярные прямые в пространстве, прямые параллельные и перпендикулярные к плоскости, признак перпендикулярности прямой и плоскости, теорема о прямой перпендикулярной плоскости		
Тема 2.4. Углы между прямыми и плоскостями	Содержание учебного материала Углы в пространстве: угол между прямой и плоскостью, двугранный угол, линейный угол двугранного угла. Перпендикуляр и наклонные: расстояние от точки до плоскости, расстояние от прямой до плоскости, проекция фигуры на плоскость. Перпендикулярность плоскостей: признак перпендикулярности двух плоскостей. Теорема о трёх перпендикулярах	4	
Тема 2.5. Координаты и векторы в пространстве	Содержание учебного материала Вектор на плоскости и в пространстве. Сложение и вычитание векторов. Умножение вектора на число. Разложение вектора по трём некомпланарным векторам. Правило параллелепипеда. Решение задач, связанных с применением правил действий с векторами. Прямоугольная система координат в пространстве. Координаты вектора. Простейшие задачи в координатах. Угол между векторами. Скалярное произведение векторов. Вычисление углов между прямыми и плоскостями. Координатно-векторный метод при решении геометрических задач	6	
	Простейшие задачи в координатах		
	Практическое занятие	2	
Тема 2.6. Прямые и плоскости в практических задачах	Профессионально-ориентированное содержание (содержание прикладного модуля) Расположение прямых и плоскостей в окружающем мире (природе, искусстве, архитектуре, технике). Решение практико-ориентированных задач		
	Практическое занятие	6	
Тема 2.7. Решение задач. Прямые и плоскости, координаты и век.	Содержание учебного материала Расположение прямых и плоскостей в пространстве. Перпендикулярность и параллельность прямых и плоскостей. Декартовы координаты в пространстве. Векторы в пространстве. Сложение и вычитание векторов. Умножение вектора на число. Координаты вектора	4	
Раздел 3. Степени и корни. Степенная, показательная и логарифмическая функции		42	
Тема 3.1. Арифметический корень n-ой степени.	Содержание учебного материала Арифметический корень натуральной степени. Действия с арифметическими корнями n-ой степени.	4	ООК 01, ОК 02, ОК 03, ОК 04, ОК 05, ОК 06 ОК 07

			ПК1.1
Тема 3.2 Степени. Стандартная форма записи действительного числа	Содержание учебного материала	4	
	Степень с целым показателем. Стандартная форма записи действительного числа. Использование подходящей формы записи действительных чисел для решения практических задач и представления данных. Степень с рациональным показателем. Свойства степени. Преобразование выражений, содержащих степени с рациональным показателем		
Тема 3.3 Степенная функция	Содержание учебного материала	4	
	Степенная функция с натуральным и целым показателем. Её свойства и график. Свойства и график корня n-ой степени		
Тема 3.4. Решение иррациональных уравнений и неравенств	Содержание учебного материала	4	
	Решение иррациональных уравнений и неравенств		
Тема 3.5 Показательные уравнения и неравенства	Содержание учебного материала	4	
	Показательные уравнения и неравенства		
	Практическое занятие		
Тема 3.6 Логарифм числа. Свойства логарифмов	Содержание учебного материала	2	
	Преобразование тригонометрических выражений. Решение тригонометрических уравнений и неравенств в том числе с использованием свойств функций		
	Практическое занятие		
Тема.3.7 Показательная и логарифмическая функции, уравнения, неравенства	Содержание учебного материала	4	
	Показательная и логарифмическая функции, их свойства и графики. Логарифмические уравнения и неравенства		
	Практическое занятие		
Тема 3.8. Логарифмы в природе и технике	Профессионально ориентированное содержание (содержание прикладного модуля)	4	
	Применение логарифма. История развития математики. Логарифмическая спираль в природе. Ее математические свойства. Использование графиков функций для исследования процессов и зависимостей, которые возникают при решении задач из различных областей науки и реальной жизни		
	Практическое занятие		
Тема 3.9 Применение уравнений, систем и неравенств к решению задач	Содержание учебного материала	2	
	Использование графиков функций для решения уравнений и линейных систем. Применение уравнений, систем и неравенств к решению математических задач и задач из различных областей науки и реальной жизни		

	Практическое занятие	2	ОК 01, ОК 04, ОК 05 ОК 06, ОК 07 ПК-1.1
Раздел 4. Основы тригонометрии. Тригонометрические функции		26	
Тема 4.1. Основы тригонометрии	Содержание учебного материала	6	
	Синус, косинус и тангенс числового аргумента. Арксинус, арккосинус, арктангенс числового аргумента. Тригонометрическая окружность, определение тригонометрических функций числового аргумента		
2 СЕМЕСТР			
Тема 4.2. Основные тригонометрические тождества	Содержание учебного материала	2	
	Преобразование тригонометрических выражений. Основные тригонометрические формулы		
	Практическое занятие	2	
Тема 4.3 Тригонометрические функции, их свойства и графики	Содержание учебного материала	2	
	Нахождение наибольшего и наименьшего значений функций, построение графиков с использованием аппарата математического анализа		
	Практическое занятие	2	
Тема 4.4 Тригонометрические уравнения и неравенства	Содержание учебного материала	2	
	Решение тригонометрических уравнений. Примеры тригонометрических неравенств		
	Практическое занятие	2	
Тема 4.5 Использование тригонометрии в профессиональной сфере	Профессионально ориентированное содержание (содержание прикладного модуля)	2	
	Проведение практических расчетов по формулам тригонометрии		
	Использование графиков функций для исследования процессов и зависимостей, которые возникают при решении задач из других учебных дисциплин и реальной жизни	4	
	Практическое занятие		
Тема 4.6. Решение задач тригонометрии	Содержание учебного материала	2	
	Тригонометрические функции, тождества и уравнения		
	Практическое занятие		
Раздел 5. Производная и первообразная функции		46	
Тема 5.1. Монотонность и	Содержание учебного материала	2	

экстремумы функции. Точки экстремума	Промежутки монотонности функции. Максимумы и минимумы функции. Наибольшее и наименьшее значение функции на промежутке		ОК 01, ОК 02, ОК 03, ОК 04, ОК 05, ОК 07 ПК1.1
	Практическое занятие	4	
Тема 5.2. Понятие непрерывности функции. Метод интервалов	Содержание учебного материала	4	
	Непрерывные функции. Метод интервалов для решения неравенств		
Тема 5.3. Производная. Геометрический и физический смысл производной	Содержание учебного материала	2	
	Производная функции. Геометрический и физический смысл производной. Производные элементарных функций. Формулы нахождения производной суммы, произведения и частного функций		
	Практическое занятие	4	
Тема 5.4. Монотонность функции. Точки экстремума	Содержание учебного материала	4	
	Применение производной к исследованию функций на монотонность и экстремумы		
	Практическое занятие	2	
Тема 5.5. Наибольшее и наименьшее значения функции	Содержание учебного материала	4	
	Нахождение наибольшего и наименьшего значения функции на отрезке. Применение производной для нахождения наилучшего решения в прикладных задачах, для определения скорости процесса, заданного формулой или графиком		
	Практическое занятие	2	
Тема 5.6. Нахождение оптимального результата с помощью производной	Профессионально ориентированное содержание (содержание прикладного модуля)		
	Прикладные задачи, в том числе социально-экономического и физического характера, их решение средствами математического анализа		
	Практическое занятие	4	
Тема 5.7. Первообразная функции	Содержание учебного материала	4	
	Первообразная. Таблица первообразных		
Тема 5.8. Площадь криволинейной трапеции. Формула Ньютона – Лейбница	Содержание учебного материала	6	
	Интеграл, его геометрический и физический смысл. Вычисление интеграла по формуле Ньютона-Лейбница		
Тема 5.9. Применение производной и первообразной функции	Содержание учебного материала	4	
	Решение задач на применение производной и интеграла для вычисления физических величин и площадей		

	Раздел 6. Многогранники и тела вращения	34	
Тема 6.1. Многогранники	Содержание учебного материала	6	ОК 02, ОК 03, ОК 05, ОК 04, ОК 0.7, ПК-1.1
	Понятие многогранника, основные элементы многогранника, выпуклые и невыпуклые многогранники; развёртка многогранника. Призма: n-угольная призма; грани и основания призмы; прямая и наклонная призмы; боковая и полная поверхность призмы. Параллелепипед, прямоугольный параллелепипед и его свойства. Пирамида: n-угольная пирамида, грани и основание пирамиды; боковая и полная поверхность пирамиды; правильная и усечённая пирамида. Элементы призмы и пирамиды. Вычисление элементов многогранников: рёбра, диагонали, углы		
	Практическое занятие	2	
Тема 6.2. Правильные многогранники. Площадь поверхности многогранников	Содержание учебного материала	4	
	Правильные многогранники: понятие правильного многогранника; правильная призма и правильная пирамида; правильная треугольная пирамида и правильный тетраэдр; куб. Представление о правильных многогранниках: октаэдр, додекаэдр и икосаэдр и др. Сечения призмы и пирамиды. Площадь боковой поверхности и полной поверхности прямой призмы, площадь оснований, теорема о боковой поверхности прямой призмы. Площадь боковой поверхности и поверхности правильной пирамиды, теорема о площади боковой поверхности усечённой пирамиды		
	Практическое занятие	2	
Тема 6.3. Тела вращения	Содержание учебного материала	6	
	Цилиндрическая поверхность, образующие цилиндрической поверхности, ось цилиндрической поверхности. Цилиндр: основания и боковая поверхность, образующая и ось, площадь боковой и полной поверхности. Коническая поверхность, образующие конической поверхности, ось и вершина конической поверхности. Конус: основание и вершина, образующая и ось, площадь боковой и полной поверхности. Усечённый конус: образующие и высота, основания и боковая поверхность. Сфера и шар: центр, радиус, диаметр, площадь поверхности сферы. Взаимное расположение сферы и плоскости, касательная плоскость к сфере, площадь сферы. Изображение тел вращения на плоскости. Развёртка цилиндра и конуса		
Тема 6.4.	Содержание учебного материала	6	

Объемы и площади поверхностей тел	Понятие об объёме тела в пространстве. Основные свойства объёмов тел. Теорема об объёме прямоугольного параллелепипеда и следствия из неё. Объем пирамиды и призмы. Объем цилиндра, конуса. Объем шара и площадь сферы. Подобные тела в пространстве. Соотношения между площадями поверхностей, объёмами подобных тел. Сечения цилиндра (параллельно и перпендикулярно оси), сечения конуса (параллельное основанию и проходящее через вершину), сечения шара. Многогранник, описанный около сферы; сфера, вписанная в многогранник или в тело вращения		
Тема 6.5. Движение в пространстве. Сечения и комбинации пространственных фигур в профессиональных задачах	Профессионально ориентированное содержание (содержание прикладного модуля) Симметрия в пространстве: симметрия относительно точки, прямой, плоскости. Элементы симметрии в пирамидах, параллелепипедах, правильных многогранниках. Симметрия в природе, архитектуре, технике, в быту, в профессии. Использование движений в пространстве при решении задач. Построение сечений многогранников и тел вращения. Метод следов. Комбинация тел вращения и многогранников. Использование комбинаций многогранников и тел вращения в практико-ориентированных задачах Практическое занятие	6	
Тема 6.6. Решение задач. Многогранники и тела вращения	Содержание учебного материала Вычисление величин (длина, угол, объем, площадь поверхности) геометрических фигур, используя изученные формулы и методы. Построение сечений многогранников методом следов, выполнение (выносных) плоских чертежей из рисунков простых объёмных фигур: вид сверху, сбоку, снизу Практическое занятие	2	
Раздел 7. Теория вероятностей и статистика		32	
Тема 7.1 . Представление данных и описательная статистика	Содержание учебного материала Представление данных с помощью таблиц и диаграмм. Среднее арифметическое, медиана, наибольшее и наименьшее значения, размах, дисперсия, стандартное отклонение числовых наборов Содержание учебного материала	6 2	ОК 01, ОК 02, ОК 03, ОК 04, ОК 05, ОК 07 ПК1.1
Тема 7.2. Случайные события. Операции над событиями	Случайные эксперименты (опыты) и случайные события. Элементарные события (исходы). Вероятность случайного события. Близость частоты и вероятности событий. Случайные опыты с равновероятными элементарными событиями. Вероятности событий в опытах с равновероятными элементарными событиями. Операции над событиями: пересечение, объединение, противоположные события. Диаграммы Эйлера. Формула сложения вероятностей. Условная вероятность.		

	Умножение вероятностей. Дерево случайного эксперимента. Формула полной вероятности. Независимые события		
	Практическое занятие	2	
Тема 7.3. Вероятность в профессиональных задачах	Профессионально ориентированное содержание (содержание прикладного модуля)		
	Первичная обработка статистических данных. Графическое их представление. Нахождение средних характеристик, наблюдаемых данных. Оценка вероятности события в профессиональной деятельности, решение профессиональных задач на вероятность события, применение статистических методов для решения профессиональных задач		
	Практическое занятие	4	
Тема 7.4. Элементы комбинаторики	Содержание учебного материала	4	
	Комбинаторное правило умножения. Перестановки и факториал. Число сочетаний. Треугольник Паскаля. Формула бинома Ньютона		
Тема 7.5 Серии последовательных испытаний	Содержание учебного материала	4	
	Бинарный случайный опыт (испытание), успех и неудача. Независимые испытания. Серия независимых испытаний до первого успеха. Серия независимых испытаний Бернулли .		
Тема 7.6. Случайные величины и распределения. Математическое ожидание случайной величины	Содержание учебного материала	6	
	Случайная величина. Распределение вероятностей. Диаграмма распределения. Примеры распределений, в том числе, геометрическое и биномиальное. Числовые характеристики случайных величин: математическое ожидание, дисперсия и стандартное отклонение. Примеры применения математического ожидания, в том числе в задачах из повседневной жизни. Математическое ожидание бинарной случайной величины. Математическое ожидание суммы случайных величин. Математическое ожидание и дисперсия геометрического и биномиального распределений		
Тема 7.7. Закон больших чисел. Непрерывные случайные величины (распределения) Нормальное распределение	Содержание учебного материала	4	
	Закон больших чисел и его роль в науке, природе и обществе. Выборочный метод исследований. Примеры непрерывных случайных величин. Понятие о плотности распределения. Задачи, приводящие к нормальному распределению. Понятие о нормальном распределении		
Консультации		2	
Промежуточная аттестация: 1 семестр – другая форма контроля; 2 семестр - экзамен		8	
Всего:		242	

3. УСЛОВИЯ РЕАЛИЗАЦИИ ПРОГРАММЫ ОБЩЕОБРАЗОВАТЕЛЬНОЙ УЧЕБНОЙ ДИСЦИПЛИНЫ

3.1. Для реализации программы общеобразовательной учебной дисциплины предусмотрены следующие специальные помещения:

Кабинет математики, оснащенный оборудованием и техническими средствами обучения:

Рабочие места преподавателя и обучающихся: доска меловая – 1 шт., стол ученический – 17 шт., стул ученический – 30 шт., стол – 1 шт., стул – 1 шт. Технические средства обучения: персональный компьютер в сборе; многофункциональное устройство; комплект проекционный мультимедийный в составе (проектор, экран)

3.2. Информационное обеспечение реализации программы

Богомолов, Н. В. Математика : учебник для среднего профессионального образования / Н. В. Богомолов, П. И. Самойленко. — 6-е изд., перераб. и доп. — Москва : Издательство Юрайт, 2025. — 400 с. — (Профессиональное образование). — ISBN 978-5-534-21352-2. — Текст : электронный // Образовательная платформа Юрайт [сайт]. — URL: <https://urait.ru/bcode/581714> (дата обращения: 04.10.2025).

Математика: алгебра и начала математического анализа, геометрия. Алгебра и начала математического анализа 10-11кл [Текст]: учебник: базовый и углубленный уровни / Ш.А.Алимов, Ю.М.Колягин, М.В.Ткачева и др.- 12-е изд, стер.- М.: Просвещение, 2024.- 463с.

Математика: алгебра и начала математического анализа, геометрия. Геометрия 10-11кл [Текст]: учебник: базовый и углубленный уровни / Л.С.Атанасян, В.Ф.Бутузов, С.Б.Кадомцев и др.- 11-е изд, стер.- М.: Просвещение, 2023.- 287с.

Баврин, И. И. Математика для технических колледжей и техникумов : учебник и практикум для среднего профессионального образования / И. И. Баврин. — 2-е изд., испр. и доп. — Москва : Издательство Юрайт, 2025. — 397 с. — (Профессиональное образование). — ISBN 978-5-534-08026-1. — Текст : электронный // Образовательная платформа Юрайт [сайт]. — URL: <https://urait.ru/bcode/561750> (дата обращения: 04.10.2025).

Баврин, И. И. Математический анализ : учебник и практикум для среднего профессионального образования / И. И. Баврин. — 2-е изд., испр. и доп. — Москва : Издательство Юрайт, 2025. — 327 с. — (Профессиональное образование). — ISBN 978-5-534-18667-3. — Текст : электронный // Образовательная платформа Юрайт [сайт]. — URL: <https://urait.ru/bcode/561218> (дата обращения: 04.10.2025)

4. КОНТРОЛЬ И ОЦЕНКА РЕЗУЛЬТАТОВ ОСВОЕНИЯ ОБЩЕОБРАЗОВАТЕЛЬНОЙ ДИСЦИПЛИНЫ

Контроль и оценка результатов освоения общеобразовательной дисциплины раскрываются через дисциплинарные результаты, направленные на формирование общих и профессиональных компетенций по разделам и темам содержания учебного материала.

Общая/профессиональная компетенция	Раздел/Тема	Тип оценочных мероприятий
ОК 01. Выбирать способы решения задач профессиональной деятельности применительно к различным контекстам	Р 1, Тема 1.1, 1.2, 1.3 П-о/с, 1.4. Р 2, Темы 2.1, 2.2, 2.3, 2.4, 2.5, 2.6 П-о/с, 2.7 Р 3, Темы 3.1, 3.2, 3.3, 3.4, 3.5, 3.6 Р 4, Темы 4.1, 4.2, 4.3, 4.4, 4.5, 4.6, 4.7 П-о/с, 4.8, 4.9, 4.10 Р 5, Темы 5.1, 5.2, 5.3 П-о/с, 5.4, 5.5, 5.6 Р 6, Темы 6.1, 6.2, 6.3, 6.4, 6.5, 6.6, 6.7 П-о/с, 6.8	Тестирование Устный опрос Индивидуальная самостоятельная работа Контрольная работа Выполнение заданий на экзамене
ОК 02.Использовать современные средства поиска, анализа и интерпретации информации, и информационные технологии для выполнения задач профессиональной деятельности	Р 1, Тема 1.1, 1.2, 1.3 П-о/с, 1.4. Р 3, Темы 3.1, 3.2, 3.3, 3.4, 3.5, 3.6 Р 6, Темы 6.1, 6.2, 6.3, 6.4, 6.5, 6.6, 6.7 П-о/с, 6.8 Р 7, Темы 7.1, 7.2 П-о/с, 7.3, 7.4	Тестирование Устный опрос Представление результатов практических работ Контрольная работа Выполнение заданий на экзамене
ОК 03. Планировать и реализовывать собственное профессиональное и личностное развитие, предпринимательскую деятельность в профессиональной сфере, использовать знания по правовой и финансовой грамотности в различных жизненных ситуациях	Р 1, Тема 1.1, 1.2, 1.3 П-о/с, 1.4. Р 2, Темы 2.1, 2.2, 2.3, 2.4, 2.5, 2.6 П-о/с, 2.7 Р 3, Темы 3.1, 3.2, 3.3, 3.4, 3.5, 3.6 Р 4, Темы 4.1, 4.2, 4.3, 4.4, 4.5, 4.6, 4.7 П-о/с, 4.8, 4.9, 4.10 Р 6, Темы 6.1, 6.2, 6.3, 6.4, 6.5, 6.6, 6.7 П-о/с, 6.8 Р 7, Темы 7.1, 7.2 П-о/с, 7.3, 7.4	Тестирование Устный опрос Представление результатов практических работ Контрольная работа Выполнение заданий на экзамене
ОК 04.Эффективно взаимодействовать и работать в коллективе и команде	Р 1, Тема 1.1, 1.2, 1.3 П-о/с, 1.4. Р 2, Темы 2.1, 2.2, 2.3, 2.4, 2.5, 2.6 П-о/с, 2.7 Р 3, Темы 3.1, 3.2, 3.3, 3.4, 3.5, 3.6 Р 4, Темы 4.1, 4.2, 4.3, 4.4, 4.5, 4.6, 4.7 П-о/с,	Тестирование Устный опрос Представление результатов практических работ Контрольная работа Выполнение заданий на экзамене

	4.8, 4.9, 4.10 Р 5, Темы 5.1, 5.2, 5.3 П-о/с, 5.4, 5.5, 5.6	
ОК 05. Осуществлять устную и письменную коммуникацию на государственном языке Российской Федерации с учетом особенностей социального и культурного контекста	Р 1, Тема 1.1, 1.2, 1.3 П-о/с, 1.4. Р 3, Темы 3.1, 3.2, 3.3, 3.4, 3.5, 3.6 Р 6, Темы 6.1, 6.2, 6.3, 6.4, 6.5, 6.6, 6.7 П-о/с, 6.8 Р 7, Темы 7.1, 7.2 П-о/с, 7.3, 7.4	Тестирование Устный опрос Контрольная работа Выполнение заданий на экзамене
ОК 06. Проявлять гражданско-патриотическую позицию, демонстрировать осознанное поведение на основе традиционных российских духовно-нравственных ценностей, в том числе с учетом гармонизации межнациональных и межрелигиозных отношений, применять стандарты антикоррупционного поведения	Р 1, Тема 1.1, 1.2, 1.3 П-о/с, 1.4. Р 4, Темы 4.1, 4.2, 4.3, 4.4, 4.5, 4.6, 4.7 П-о/с, 4.8, 4.9, 4.10 Р 5, Темы 5.1, 5.2, 5.3 П-о/с, 5.4, 5.5, 5.6	Тестирование Устный опрос Индивидуальная самостоятельная работа Представление результатов практических работ Контрольная работа Выполнение заданий на экзамене
ОК 07. Содействовать сохранению окружающей среды, ресурсосбережению, применять знания об изменении климата, принципы бережливого производства, эффективно действовать в чрезвычайных ситуациях	Р 2, Темы 2.1, 2.2, 2.3, 2.4, 2.5, 2.6 П-о/с, 2.7 Р 4, Темы 4.1, 4.2, 4.3, 4.4, 4.5, 4.6, 4.7 П-о/с, 4.8, 4.9, 4.10 Р 5, Темы 5.1, 5.2, 5.3 П-о/с, 5.4, 5.5, 5.6 Р 6, Темы 6.1, 6.2, 6.3, 6.4, 6.5, 6.6, 6.7 П-о/с, 6.8	Тестирование Устный опрос Индивидуальная самостоятельная работа Представление результатов практических работ Контрольная работа Выполнение заданий на экзамене
ПК1.1. Выполнять косметические услуги по уходу за кожей лица, шеи и зоны декольте	Р.1. Темы 1.1-1.4, Р.2. Темы 2.1-2.7, Р.4. Темы 4.1-4.10 Р 3. Темы 3.1-3.6 Р 5. Темы 5.1-5.6 Р 6 Темы 6.1-6.6	Тестирование Устный опрос Индивидуальная самостоятельная работа Представление результатов практических работ Контрольная работа Выполнение заданий на экзамене

**МИНИСТЕРСТВО НАУКИ И ВЫСШЕГО ОБРАЗОВАНИЯ РОССИЙСКОЙ
ФЕДЕРАЦИИ
ФЕДЕРАЛЬНОЕ ГОСУДАРСТВЕННОЕ БЮДЖЕТНОЕ УЧРЕЖДЕНИЕ ВЫСШЕГО
ОБРАЗОВАНИЯ «СЕВЕРО-КАВКАЗСКАЯ ГОСУДАРСТВЕННАЯ АКАДЕМИЯ»
СРЕДНЕПРОФЕССИОНАЛЬНЫЙ КОЛЛЕДЖ**

Фонд оценочных средств

для проведения текущего контроля и промежуточной аттестации образовательной программы
по учебной дисциплине «Математика»

для специальности 40.02.04 Юриспруденция

форма проведения оценочной процедуры
экзамен

г. Черкесск, 2026 г

I. ОБЩИЕ ПОЛОЖЕНИЯ.

Фонд оценочных средств (ФОС) предназначен для контроля и оценки образовательных достижений обучающихся, освоивших программу общеобразовательной учебной дисциплины «Математика».

ФОС включает контрольные материалы для проведения текущего контроля и промежуточной аттестации в форме экзамена.

ФОС разработан в соответствии с Федеральным государственным образовательным стандартом среднего общего образования и рабочей программой общеобразовательной учебной дисциплины «Математика».

II. РЕЗУЛЬТАТЫ ОСВОЕНИЯ ОБЩЕОБРАЗОВАТЕЛЬНОЙ УЧЕБНОЙ ДИСЦИПЛИНЫ, ПОДЛЕЖАЩЕЙ ПРОВЕРКЕ

Общие компетенции	Планируемые результаты освоения дисциплины		Показатели оценки
	Общие	Дисциплинарные	
ОК 01. Выбирать способы решения задач профессиональной деятельности применительно к различным контекстам	Личностные результаты должны отражать в части: трудового воспитания: - готовность к труду, осознание ценности мастерства, трудолюбие; - готовность к активной деятельности технологической и социальной направленности, способность инициировать, планировать и самостоятельно выполнять такую деятельность; - интерес к различным сферам профессиональной деятельности. Метапредметные результаты должны отражать: Овладение универсальными учебными познавательными действиями: а) базовые логические действия: - самостоятельно	Владение методами доказательств, алгоритмами решения задач; умение формулировать определения, аксиомы и теоремы, применять их, проводить доказательные рассуждения в ходе решения задач; ПРБ2. Умение оперировать понятиями: степень числа, логарифм числа; умение выполнять вычисление значений и преобразования выражений со степенями и логарифмами, преобразования дробно-рациональных выражений; ПРБ3. Умение оперировать понятиями: рациональные, иррациональные, показательные, степенные, логарифмические,	Практические задания Тестирование Задания для входного контроля (обязательная часть, дополнительная часть) Задания для проведения текущего контроля (теоретические вопросы – устный опрос, контрольные работы) Задания для рубежного контроля Экзаменационные задания

	<p>формулировать и актуализировать проблему, рассматривать ее всесторонне;</p> <ul style="list-style-type: none"> - устанавливать существенный признак или основания для сравнения, классификации и обобщения; - определять цели деятельности, задавать параметры и критерии их достижения; - выявлять закономерности и противоречия в рассматриваемых явлениях; - вносить коррективы в деятельность, оценивать соответствие результатов целям, оценивать риски последствий деятельности <p>б) базовые исследовательские действия:</p> <ul style="list-style-type: none"> - владеть навыками учебно-исследовательской и проектной деятельности, навыками разрешения проблем; - выявлять причинно-следственные связи и актуализировать задачу, выдвигать гипотезу ее решения, находить аргументы 	<p>тригонометрические уравнения и неравенства, их системы;</p> <p>ПР64. Умение оперировать понятиями: функция, непрерывная функция, производная, первообразная, определенный интеграл; умение находить производные элементарных функций, используя справочные материалы; исследовать в простейших случаях функции на монотонность, находить наибольшие и наименьшие значения функций; строить графики многочленов с использованием аппарата математического анализа; применять производную при решении задач на движение; решать практико-ориентированные задачи на наибольшие и наименьшие значения, нахождение пути, скорости и ускорения;</p> <p>ПР65. Умение оперировать понятиями: рациональная функция, показательная функция, степенная функция,</p>	
--	---	---	--

	<p>для доказательства своих утверждений, задавать параметры и критерии решения;</p> <p>- анализировать полученные в ходе решения задачи результаты, критически оценивать их достоверность, прогнозировать изменение в новых условиях; разрабатывать план решения проблемы с учетом анализа имеющихся материальных и нематериальных ресурсов;</p> <p>- уметь переносить знания в познавательную и практическую области жизнедеятельности;</p> <p>- уметь интегрировать знания из разных предметных областей;</p> <p>- выдвигать новые идеи, предлагать оригинальные подходы и решения</p>	<p>логарифмическая функция, тригонометрические функции, обратные функции; умение строить графики изученных функций, использовать графики при изучении процессов и зависимостей, при решении задач из других учебных предметов и задач из реальной жизни; выражать формулами зависимости между величинами;</p> <p>ПР66. Умение решать текстовые задачи разных типов (в том числе на проценты, доли и части, на движение, работу, стоимость товаров и услуг, налоги, задачи из области управления личными и семейными финансами); составлять выражения, уравнения, неравенства и их системы по условию задачи, исследовать полученное решение и оценивать правдоподобность результатов;</p> <p>ПР67. Умение оперировать понятиями: среднее арифметическое, медиана, наибольшее и наименьшее значения, размах, дисперсия, стандартное отклонение</p>	
--	--	---	--

<p>ОК 02.Использовать современные средства поиска, анализа и интерпретации информации, и информационные технологии для выполнения задач профессиональной деятельности</p>	<p>Личностные результаты должны отражать в части: ценности научного познания: -сформированность мировоззрения, соответствующего современному уровню развития науки и общественной практики, основанного на диалоге культур, способствующего осознанию своего места в поликультурном мире; Метапредметные результаты должны отражать: Овладение универсальными учебными познавательными действиями: в) работа с информацией: - владеть навыками получения информации из источников разных типов, самостоятельно осуществлять поиск, анализ, систематизацию интерпретацию информации различных видов форм представления; - создавать тексты в различных форматах с учетом назначения информации и целевой аудитории, выбирая оптимальную форму представления и визуализации; - оценивать</p>	<p>числового набора; умение извлекать, интерпретировать информацию, представленную в таблицах, на диаграммах, графиках, отражающую свойства реальных процессов и явлений; представлять информацию с помощью таблиц и диаграмм; исследовать статистические данные, в том числе с применением графических методов и электронных средств; ПР68. Умение оперировать понятиями: случайный опыт и случайное событие, вероятность случайного события; умение вычислять вероятность с использованием графических методов; применять формулы сложения и умножения вероятностей, комбинаторные факты и формулы при решении задач; оценивать вероятности реальных событий; знакомство со случайными величинами; умение приводить примеры проявления закона больших чисел в природных</p>	
---	--	---	--

	<p>достоверность, легитимность информации, ее соответствие правовыми морально-этическим нормам;</p> <p>- использовать средства информационных коммуникационных технологий в решении когнитивных, коммуникативных организационных задач с соблюдением требований эргономики, техники безопасности, гигиены, ресурсосбережения, правовых этических норм, норм информационной Личностные результаты должны отражать в части: духовно-нравственного воспитания:</p> <p>- сформированность нравственного сознания, этического поведения;</p> <p>- способность оценивать ситуацию и принимать осознанные решения, ориентируясь на морально-нравственные нормы и ценности;</p> <p>- осознание личного вклада в построение устойчивого будущего;</p> <p>- ответственное отношение к своим родителям и (или) другим</p>	<p>и общественных явлениях;</p> <p>ПР69. Умение оперировать понятиями: точка, прямая, плоскость, пространство, двугранный угол, скрещивающиеся прямые, параллельность и перпендикулярность прямых и плоскостей, угол между прямыми, угол между прямой и плоскостью, угол между плоскостями, расстояние от точки до плоскости, расстояние между прямыми, расстояние между плоскостями; умение использовать при решении задач изученные факты и теоремы планиметрии;</p> <p>умение оценивать размеры объектов окружающего мира;</p> <p>ПР610. Умение оперировать понятиями: многогранник, сечение многогранника, куб, параллелепипед, призма, пирамида, фигура и поверхность вращения, цилиндр, конус, шар, сфера, сечения фигуры вращения, плоскость, касающаяся сферы, цилиндра, конуса, площадь поверхности пирамиды, призмы, конуса, цилиндра,</p>	
--	--	--	--

	<p>членам семьи, созданию семьи на основе осознанного принятия ценностей семейной жизни в соответствии с традициями народов России;</p> <p>Метапредметные результаты должны отражать:</p> <p>Овладение универсальными регулятивными действиями:</p> <p>а) самоорганизация:</p> <ul style="list-style-type: none"> - самостоятельно осуществлять познавательную деятельность, выявлять проблемы, ставить и формулировать собственные задачи в образовательной деятельности и жизненных ситуациях; самостоятельно составлять план решения проблемы с учетом имеющихся ресурсов, собственных возможностей и предпочтений; давать оценку новым ситуациям; <p>б) самоконтроль:</p> <ul style="list-style-type: none"> использовать приемы рефлексии для оценки ситуации, выбора верного решения; - уметь оценивать риски и своевременно принимать решения по их снижению; <p>в) эмоциональный интеллект, предполагающий сформированность:</p>	<p>площадь сферы, объем куба, прямоугольного параллелепипеда, пирамиды, призма, цилиндра, конуса, шара; умение изображать многогранники и поверхности вращения, их сечения от руки, с помощью чертежных инструментов и электронных средств; умение распознавать симметрию в пространстве; умение распознавать правильные многогранники;</p> <p>ПР611 Умение оперировать понятиями: движение в пространстве, подобные фигуры в пространстве; использовать отношение площадей поверхностей и объемов подобных фигур при решении задач;</p> <p>ПР612. Умение вычислять геометрические величины (длина, угол, площадь, объем, площадь поверхности), используя изученные формулы и методы;</p> <p>ПР613. Умение оперировать понятиями: прямоугольная система координат, координаты точки,</p>	
--	---	--	--

<p>ОК 03. Планировать и реализовывать собственное профессиональное и личностное развитие, предпринимательскую деятельность в профессиональной сфере, использовать знания по правовой и финансовой грамотности в различных жизненных ситуациях</p>	<p>внутренней мотивации, включающей стремление к достижению цели и успеху, оптимизм, инициативность, умение действовать, исходя из своих возможностей; - эмпатии, включающей способность понимать эмоциональное состояние других, учитывать его при осуществлении коммуникации, способность к сочувствию и сопереживанию; - социальных навыков, включающих способность выстраивать отношения с другими людьми, заботиться, проявлять интерес и разрешать конфликты безопасности</p> <p>Личностные результаты должны отражать в части: духовно-нравственного воспитания: - сформированность нравственного сознания, этического поведения; - способность оценивать ситуацию и принимать осознанные решения,</p>	<p>вектор, координаты вектора, скалярное произведение, угол между векторами, сумма векторов, произведение вектора на число; находить с помощью изученных формул координаты середины отрезка, расстояние между двумя точками; ПР614. Умение выбирать подходящий изученный метод для решения задачи, распознавать математические факты и математические модели в природных и общественных явлениях, в искусстве; умение приводить примеры математических открытий российской и мировой математической .</p> <p>ПР61. Владение методами доказательств, алгоритмами решения задач; умение формулировать определения, аксиомы и теоремы, применять их, проводить доказательные рассуждения в ходе решения задач; ПР64. Умение</p>	
---	---	--	--

<p>ПК1.1. Выполнять косметические услуги по уходу за кожей лица ,шеи и зоны декольте</p>	<p>ориентируясь на морально-нравственные нормы и ценности; - осознание личного вклада в построение устойчивого будущего; - ответственное отношение к своим родителям и (или) другим членам семьи, созданию семьи на основе осознанного принятия ценностей семейной жизни в соответствии с традициями народов России; Метапредметные результаты должны отражать: Овладение универсальными регулятивными действиями: а) самоорганизация: - самостоятельно осуществлять познавательную деятельность, выявлять проблемы, ставить и формулировать собственные задачи в образовательной деятельности и жизненных ситуациях; самостоятельно составлять план решения проблемы с учетом имеющихся ресурсов, собственных возможностей и предпочтений; давать оценку новым ситуациям; б) самоконтроль: использовать приемы рефлексии</p>	<p>оперировать понятиями: функция, непрерывная функция, производная, первообразная, определенный интеграл; умение находить производные элементарных функций, используя справочные материалы; исследовать в простейших случаях функции на монотонность, находить наибольшие и наименьшие значения функций; строить графики многочленов с использованием аппарата математического анализа; применять производную при решении задач на движение; решать практико-ориентированные задачи на наибольшие и наименьшие значения, нахождение пути, скорости и ускорения; ПР65. Умение оперировать понятиями: рациональная функция, показательная функция, степенная функция, логарифмическая функция, тригонометрические функции, обратные функции; умение</p>	
--	---	--	--

	<p>для оценки ситуации, выбора верного решения; - уметь оценивать риски и своевременно принимать решения по их снижению; в) эмоциональный интеллект, предполагающий сформированность: внутренней мотивации, включающей стремление к достижению цели и успеху, оптимизм, инициативность, умение действовать, исходя из своих возможностей; - эмпатии, включающей способность понимать эмоциональное состояние других, учитывать его при осуществлении коммуникации, способность к сочувствию и сопереживанию; - социальных навыков, включающих способность выстраивать отношения с другими людьми, заботиться, проявлять интерес и разрешать конфликты</p>	<p>строить графики изученных функций, использовать графики при изучении процессов и зависимостей, при решении задач из других учебных предметов и задач из реальной жизни; выражать формулами зависимости между величинами; ПР66. Умение решать текстовые задачи разных типов (в том числе на проценты, доли и части, на движение, работу, стоимость товаров и услуг, налоги, задачи из области управления личными и семейными финансами); составлять выражения, уравнения, неравенства и их системы по условию задачи, исследовать полученное решение и оценивать правдоподобность результатов; ПР67. Умение оперировать понятиями: среднее арифметическое, медиана, наибольшее и наименьшее значения, размах, дисперсия, стандартное отклонение числового набора; умение извлекать, интерпретировать информацию, представленную в</p>	
--	---	---	--

		<p>таблицах, на диаграммах, графиках, отражающую свойства реальных процессов и явлений; представлять информацию с помощью таблиц и диаграмм; исследовать статистические данные, в том числе с применением графических методов и электронных средств;</p> <p>ПР68. Умение оперировать понятиями: случайный опыт и случайное событие, вероятность случайного события; умение вычислять вероятность с использованием графических методов; применять формулы сложения и умножения вероятностей, комбинаторные факты и формулы при решении задач; оценивать вероятности реальных событий; знакомство со случайными величинами; умение приводить примеры проявления закона больших чисел в природных и общественных явлениях;</p> <p>ПР614. Умение выбирать подходящий изученный метод</p>	
--	--	--	--

		<p>для решения задачи, распознавать математические факты и математические модели в природных и общественных явлениях, в искусстве; умение приводить примеры математических открытий российской и мировой математической науки</p>	
<p>ОК 04. Эффективно взаимодействовать и работать в коллективе и команде</p>	<p>Личностные результаты должны отражать в части: ценности научного познания: осознание ценности научной деятельности, готовность осуществлять проектную и исследовательскую деятельность индивидуально и в группе Метапредметные результаты должны отражать: Овладение универсальными коммуникативными действиями: б)совместная деятельность: - понимать и использовать преимущества командной и индивидуальной работы; - принимать цели совместной деятельности, организовывать и координировать действия по ее достижению:</p>	<p>уметь оперировать понятиями: рациональная функция, показательная функция, степенная функция, логарифмическая функция, тригонометрические функции, обратные функции; умение строить графики изученных функций, использовать графики при изучении процессов и зависимостей, при решении задач из других учебных предметов и задач из реальной жизни; выражать формулами зависимости между величинами; - уметь оперировать понятиями: тождество, тождественное преобразование, уравнение, неравенство, система уравнений и неравенств, равносильность уравнений, неравенств и систем, рациональные, иррациональные,</p>	

	<p>составлять план действий, распределять роли с учетом мнений участников</p> <p>обсуждать результаты совместной работы;</p> <p>Овладение универсальными регулятивными действиями:</p> <p>г) принятие себя и других людей:</p> <ul style="list-style-type: none"> - принимать мотивы и аргументы других людей при анализе результатов деятельности; - признавать свое право и право других людей на ошибки; - развивать способность понимать мир с позиции другого человека 	<p>показательные, степенные, логарифмические, тригонометрические уравнения, неравенства и системы; уметь решать уравнения, неравенства и системы с помощью различных приемов; решать уравнения, неравенства и системы с параметром; применять уравнения, неравенства, их системы для решения математических задач и задач из различных областей науки и реальной жизни;</p> <ul style="list-style-type: none"> - уметь свободно оперировать понятиями: движение, параллельный перенос, симметрия на плоскости и в пространстве, поворот, преобразование подобия, подобные фигуры; уметь распознавать равные и подобные фигуры, в том числе в природе, искусстве, архитектуре; уметь использовать геометрические отношения, находить геометрические величины (длина, угол, площадь, объем) при решении задач из других учебных предметов и из реальной жизни 	
		<p>уметь оперировать понятиями: рациональные, иррациональные, показательные, степенные, логарифмические, тригонометрические уравнения</p>	и

		<p> неравенства, их системы; - уметь оперировать понятиями: многогранник, сечение многогранника, куб, параллелепипед, призма, пирамида, фигура и поверхность вращения, цилиндр, конус, шар, сфера, сечения фигуры вращения, плоскость, касающаяся сферы, цилиндра, конуса, площадь поверхности пирамиды, призмы, конуса, цилиндра, площадь сферы, объем куба, прямоугольного параллелепипеда, пирамиды, призмы, цилиндра, конуса, шара; умение изображать многогранники и поверхности вращения, их сечения от руки, с помощью чертежных инструментов и электронных средств; уметь распознавать симметрию в пространстве; уметь распознавать правильные многогранники; - уметь оперировать понятиями: прямоугольная система координат, координаты точки, вектор, координаты вектора, скалярное произведение, угол между векторами, сумма векторов, произведение вектора на число; находить с помощью изученных формул координаты середины отрезка, расстояние между </p>	
--	--	---	--

		двумя точками	
	<p>готовность к саморазвитию, самостоятельности и самоопределению;</p> <p>- овладение навыками учебно-исследовательской, проектной и социальной деятельности;</p> <p>Овладение универсальными коммуникативными действиями:</p> <p>б) совместная деятельность:</p> <p>- понимать и использовать преимущества командной и индивидуальной работы;</p> <p>- принимать цели совместной деятельности, организовывать и координировать действия по ее достижению:</p> <p>составлять план действий, распределять роли с учетом мнений участников</p> <p>обсуждать результаты совместной работы;</p> <p>- координировать и выполнять работу в условиях реального, виртуального и комбинированного взаимодействия;</p> <p>- осуществлять позитивное стратегическое поведение в различных ситуациях, проявлять творчество и воображение, быть</p>	<p>- уметь оперировать понятиями: случайный опыт и случайное событие, вероятность случайного события;</p> <p>уметь вычислять вероятность с использованием графических методов;</p> <p>применять формулы сложения и умножения вероятностей, комбинаторные факты и формулы при решении задач;</p> <p>оценивать вероятности реальных событий;</p> <p>знакомство со случайными величинами; умение приводить примеры проявления закона больших чисел в природных и общественных явлениях;</p> <p>- уметь свободно оперировать понятиями: степень с целым показателем, корень натуральной степени, степень с рациональным показателем, степень с действительным (вещественным) показателем, логарифм числа, синус, косинус и тангенс произвольного числа;</p> <p>- уметь свободно оперировать понятиями: график функции, обратная функция, композиция функций, линейная функция, квадратичная функция, степенная функция с целым показателем, тригонометрические функции, обратные</p>	

	<p>инициативным. Овладение универсальными регулятивными действиями: г) принятие себя и других людей: - принимать мотивы и аргументы других людей при анализе результатов деятельности; - признавать свое право и право других людей на ошибки; - развивать способность понимать мир с позиции другого человека</p>	<p>тригонометрические функции, показательная и логарифмическая функции; уметь строить графики функций, выполнять преобразования графиков функций; - уметь использовать графики функций для изучения процессов и зависимостей при решении задач из других учебных предметов и из реальной жизни; выражать формулами зависимости между величинами; - свободно оперировать понятиями: четность функции, периодичность функции, ограниченность функции, монотонность функции, экстремум функции, наибольшее и наименьшее значения функции на промежутке; уметь проводить исследование функции; - уметь использовать свойства и графики функций для решения уравнений, неравенств и задач с параметрами; изображать на координатной плоскости множества решений уравнений, неравенств и их систем</p>	
<p>ОК 05. Осуществлять устную и письменную коммуникацию на государственном языке Российской Федерации с учетом</p>	<p>Личностные результаты должны отражать в части: эстетического воспитания: - эстетическое</p>	<p>ПРБ1. Владение методами доказательств, алгоритмами решения задач; умение формулировать определения, аксиомы</p>	

<p>особенностей социального и культурного контекста</p>	<p>отношение к миру, включая эстетику быта, научного и технического творчества, спорта, труда и общественных отношений;</p> <p>- способность воспринимать различные виды искусства, традиции и творчество своего и других народов, ощущать эмоциональное воздействие искусства;</p> <p>Метапредметные результаты должны отражать:</p> <p>Овладение универсальными коммуникативными действиями:</p> <p>а) общение: - осуществлять коммуникации во всех сферах жизни;</p> <p>- распознавать невербальные средства общения, понимать значение социальных знаков, распознавать предпосылки конфликтных ситуаций и смягчать конфликты;</p> <p>- развернуто и логично излагать свою точку зрения с использованием языковых средств</p>	<p>и теоремы, применять их, проводить доказательные рассуждения в ходе решения задач;</p> <p>ПР68. Умение оперировать понятиями: случайный опыт и случайное событие, вероятность случайного события;</p> <p>умение вычислять вероятность с использованием графических методов; применять формулы сложения и умножения вероятностей, комбинаторные факты и формулы при решении задач;</p> <p>оценивать вероятности реальных событий;</p> <p>знакомство со случайными величинами; умение приводить примеры проявления закона больших чисел в природных и общественных явлениях;</p> <p>ПР69. Умение оперировать понятиями: точка, прямая, плоскость, пространство, двугранный угол, скрещивающиеся прямые, параллельность и перпендикулярность прямых и плоскостей, угол между прямыми, угол между прямой и плоскостью, угол между плоскостями, расстояние от точки до плоскости, расстояние между прямыми, расстояние между плоскостями;</p>	
---	--	---	--

		<p>умение использовать при решении задач изученные факты и теоремы планиметрии; умение оценивать размеры объектов окружающего мира;</p> <p>ПРб10. Умение оперировать понятиями: многогранник, сечение многогранника, куб, параллелепипед, призма, пирамида, фигура и поверхность вращения, цилиндр, конус, шар, сфера, сечения фигуры вращения, плоскость, касающаяся сферы, цилиндра, конуса, площадь поверхности пирамиды, призмы, конуса, цилиндра, площадь сферы, объем куба, прямоугольного параллелепипеда, пирамиды, призмы, цилиндра, конуса, шара; умение изображать многогранники и поверхности вращения, их сечения от руки, с помощью чертежных инструментов и электронных средств; умение распознавать симметрию в пространстве; умение распознавать правильные многогранники;</p> <p>ПРб11 Умение оперировать понятиями: движение в пространстве, подобные фигуры в пространстве; использовать отношение площадей поверхностей и</p>	
--	--	--	--

		<p>объемов подобных фигур при решении задач;</p> <p>ПР612. Умение вычислять геометрические величины (длина, угол, площадь, объем, площадь поверхности), используя изученные формулы и методы;</p> <p>ПР613. Умение оперировать понятиями: прямоугольная система координат, координаты точки, вектор, координаты вектора, скалярное произведение, угол между векторами, сумма векторов, произведение вектора на число; находить с помощью изученных формул координаты середины отрезка, расстояние между двумя точками;</p> <p>ПР614. Умение выбирать подходящий изученный метод для решения задачи, распознавать математические факты и математические модели в природных и общественных явлениях, в искусстве; умение приводить примеры математических открытий российской и мировой математической науки</p>	
<p>ОК 06. Проявлять гражданско-патриотическую позицию, демонстрировать осознанное поведение на основе российских духовно-</p>	<p>Личностные результаты должны отражать в части:</p> <p>- гражданского воспитания:</p> <p>принятие традиционных</p>	<p>ПР66. Умение решать текстовые задачи разных типов (в том числе на проценты, доли и части, на движение, работу, стоимость товаров и услуг, налоги, задачи</p>	

<p>нравственных ценностей, в том числе с учетом гармонизации межнациональных и межрелигиозных отношений, применять стандарты антикоррупционного поведения</p>	<p>национальных, общечеловеческих гуманистических и демократических ценностей; -патриотического воспитания: ценностное отношение к государственным символам, историческому и природному наследию, памятникам, традициям народов России, достижениям России в науке, искусстве, спорте, технологиях и труде; Метапредметные результаты должны отражать: Овладение универсальными регулятивными действиями: в) эмоциональный интеллект, предполагающий сформированность: --самосознания, включающего способность понимать свое эмоциональное состояние, видеть направления развития собственной эмоциональной сферы, быть уверенным в себе; - саморегулирования, включающего самоконтроль, умение принимать ответственность за свое поведение, способность адаптироваться к эмоциональным</p>	<p>из области управления личными и семейными финансами); составлять выражения, уравнения, неравенства и их системы по условию задачи, исследовать полученное решение и оценивать правдоподобность результатов; ПР67. Умение оперировать понятиями: среднее арифметическое, медиана, наибольшее и наименьшее значения, размах, дисперсия, стандартное отклонение числового набора; умение извлекать, интерпретировать информацию, представленную в таблицах, на диаграммах, графиках, отражающую свойства реальных процессов и явлений; представлять информацию с помощью таблиц и диаграмм; исследовать статистические данные, в том числе с применением графических методов и электронных средств; ПР68. Умение оперировать понятиями: случайный опыт и случайное событие, вероятность случайного события; умение вычислять вероятность с использованием графических методов; применять формулы сложения и умножения вероятностей, комбинаторные факты</p>	
---	---	---	--

	<p>изменениям и проявлять гибкость, быть открытым новому;</p> <ul style="list-style-type: none"> - внутренней мотивации, включающей стремление к достижению цели и успеху, оптимизм, инициативность, умение действовать, исходя из своих возможностей; - эмпатии, включающей способность понимать эмоциональное состояние других, учитывать его при осуществлении коммуникации, способность к сочувствию и сопереживанию; - социальных навыков, включающих способность выстраивать отношения с другими людьми, заботиться, проявлять интерес и разрешать конфликты 	<p>и формулы при решении задач; оценивать вероятности реальных событий; знакомство со случайными величинами; умение приводить примеры проявления закона больших чисел в природных и общественных явлениях;</p> <p>ПРБ14. Умение выбирать подходящий изученный метод для решения задачи, распознавать математические факты</p>	
	<p>Личностные результаты должны отражать в части: ценности научного познания: осознание ценности научной деятельности, готовность осуществлять проектную и исследовательскую деятельность индивидуально и в группе</p> <p>Метапредметные</p>	<p>уметь оперировать понятиями: функция, непрерывная функция, производная, первообразная, определенный интеграл; уметь находить производные элементарных функций, используя справочные материалы; исследовать в простейших случаях функции на монотонность, находить наибольшие и</p>	

	<p>результаты должны отражать: Овладение универсальными коммуникативными действиями: б)совместная деятельность: - понимать и использовать преимущества командной и индивидуальной работы; - принимать цели совместной деятельности, организовывать и координировать действия по ее достижению: составлять план действий, распределять роли с учетом мнений участников обсуждать результаты совместной работы; Овладение универсальными регулятивными действиями: г) принятие себя и других людей: - принимать мотивы и аргументы других людей при анализе результатов деятельности; - признавать свое право и право других людей на ошибки; - развивать способность понимать мир с позиции другого человека</p>	<p>наименьшие значения функций; строить графики многочленов с использованием аппарата математического анализа; применять производную при решении задач на движение; решать практико-ориентированные задачи на наибольшие и наименьшие значения, нахождение пути, скорости и ускорения; - уметь оперировать понятиями: движение в пространстве, подобные фигуры в пространстве; использовать отношение площадей поверхностей и объемов подобных фигур при решении задач; - уметь вычислять геометрические величины (длина, угол, площадь, объем, площадь поверхности), используя изученные формулы и методы</p>	
<p>ОК 07. Содействовать сохранению окружающей среды, ресурсосбережению,</p>	<p>Личностные результаты должны отражать</p>	<p>ПРБ1. Владение методами доказательств, алгоритмами</p>	

<p>применять знания об изменении климата, принципы бережливого производства, эффективно действовать в чрезвычайных ситуациях</p>	<p>в части: экологического воспитания: - активное неприятие действий, приносящих вред окружающей среде; - умение прогнозировать неблагоприятные экологические последствия предпринимаемых действий, предотвращать их; - расширение опыта деятельности экологической направленности; Метапредметные результаты должны отражать: Владение универсальными учебными познавательными действиями: б) базовые исследовательские действия: - разрабатывать план решения проблемы с учетом анализа имеющихся материальных и нематериальных ресурсов; - осуществлять целенаправленный поиск переноса средств и способов действия в профессиональную среду; - уметь переносить знания в познавательную и практическую области жизнедеятельности; Овладение универсальными регулятивными действиями:</p>	<p>решения задач; умение формулировать определения, аксиомы и теоремы, применять их, проводить доказательные рассуждения в ходе решения задач; ПР64. Умение оперировать понятиями: функция, непрерывная функция, производная, первообразная, определенный интеграл; умение находить производные элементарных функций, используя справочные материалы; исследовать в простейших случаях функции на монотонность, находить наибольшие и наименьшие значения функций; строить графики многочленов с использованием аппарата математического анализа; применять производную при решении задач на движение; решать практико-ориентированные задачи на наибольшие и наименьшие значения, нахождение пути, скорости и ускорения; ПР65. Умение</p>	
--	---	--	--

	<p>б) самоконтроль: - давать оценку новым ситуациям, вносить коррективы в деятельность, оценивать соответствие</p>	<p>оперировать понятиями: рациональная функция, показательная функция, степенная функция, логарифмическая функция, тригонометрические функции, обратные функции; умение строить графики изученных функций, использовать графики при изучении процессов и зависимостей, при решении задач из других учебных предметов и задач из реальной жизни; выражать формулами зависимости между величинами; ПР66. Умение решать текстовые задачи разных типов (в том числе на проценты, доли и части, на движение, работу, стоимость товаров и услуг, налоги, задачи из области управления личными и семейными финансами); составлять выражения, уравнения, неравенства и их системы по условию задачи, исследовать полученное решение и оценивать правдоподобность результатов; ПР68. Умение оперировать понятиями: случайный опыт</p>	
--	---	--	--

		<p>и случайное событие, вероятность случайного события; умение вычислять вероятность с использованием графических методов; применять формулы сложения и умножения вероятностей, комбинаторные факты и формулы при решении задач; оценивать вероятности реальных событий; знакомство со случайными величинами; умение приводить примеры проявления закона больших чисел в природных и общественных явлениях;</p> <p>ПР69. Умение оперировать понятиями: точка, прямая, плоскость, пространство, двугранный угол, скрещивающиеся прямые, параллельность и перпендикулярность прямых и плоскостей, угол между прямыми, угол между прямой и плоскостью, угол между плоскостями, расстояние от точки до плоскости, расстояние между прямыми, расстояние между плоскостями; умение использовать при решении задач изученные факты и теоремы</p>	
--	--	---	--

		<p> планиметрии; умение оценивать размеры объектов окружающего мира; ПР610. Умение оперировать понятиями: многогранник, сечение многогранника, куб, параллелепипед, призма, пирамида, фигура и поверхность вращения, цилиндр, конус, шар, сфера, сечения фигуры вращения, плоскость, касающаяся сферы, цилиндра, конуса, площадь поверхности пирамиды, призмы, конуса, цилиндра, площадь сферы, объем куба, прямоугольного параллелепипеда, пирамиды, призмы, цилиндра, конуса, шара; умение изображать многогранники и поверхности вращения, их сечения от руки, с помощью чертежных инструментов и электронных средств; умение распознавать симметрию в пространстве; умение распознавать правильные многогранники; ПР611 Умение оперировать понятиями: движение в пространстве, </p>	
--	--	---	--

		<p>подобные фигуры в пространстве; использовать отношение площадей поверхностей и объемов подобных фигур при решении задач;</p> <p>ПР612. Умение вычислять геометрические величины (длина, угол, площадь, объем, площадь поверхности), используя изученные формулы и методы;</p> <p>ПР613. Умение оперировать понятиями: прямоугольная система координат, координаты точки, вектор, координаты вектора, скалярное произведение, угол между векторами, сумма векторов, произведение вектора на число; находить с помощью изученных формул координаты середины отрезка, расстояние между двумя точками;</p> <p>ПР614. Умение выбирать подходящий изученный метод для решения задачи, распознавать математические факты и математические модели в природных и общественных явлениях, в искусстве; умение приводить примеры математических</p>	
--	--	--	--

<p>ПК 1.1. Осуществлять профессиональное толкование норм права</p>	<p>уметь: осуществлять профессиональное толкование нормативных правовых актов для реализации прав граждан в сфере пенсионного обеспечения и социальной защиты.</p>	<p>открытий российской и мировой математической науки</p> <p>уметь решать текстовые задачи разных типов (в том числе на проценты, доли и части, на движение, работу, стоимость товаров и услуг, налоги, задачи из области управления личными и семейными финансами); составлять выражения, уравнения, неравенства и их системы по условию задачи, исследовать полученное решение и оценивать правдоподобность результатов;</p> <p>- уметь оперировать понятиями: определение, аксиома, теорема, следствие, свойство, признак, доказательство, равносильные формулировки; уметь формулировать обратное и противоположное утверждение, приводить примеры и контрпримеры, использовать метод математической индукции; проводить доказательные рассуждения при решении задач, оценивать логическую правильность рассуждений;</p>	
--	--	--	--

Фонд оценочных средств для входного контроля

Входной контроль состоит из заданий, взятых из открытого банка ОГЭ и ВПР по математике. На выполнение заданий входного контроля дается 1 академический час (45 минут).

Входной контроль состоит из 2-х частей: обязательной и дополнительной.

Обязательная часть содержит задания минимального обязательного уровня, дополнительная часть – более сложные задания.

При выполнении заданий требуется представить ход решения и указать полученный ответ. Правильно выполненное задание из обязательной части оценивается в один балл; правильное выполнение заданий дополнительной части оценивается 3 баллами или 1-2 баллами за частичное решение.

Баллы, полученные за все выполненные задания, суммируются.

Шкала перевода баллов в отметки по пятибалльной системе

Отметка	Число баллов, необходимое для получения отметки
«3» (удов.)	7-9
«4» (хорошо)	10-12
«5» (отлично)	13-15

Образовательные результаты, подлежащие проверке (элементы):

ОК 01, ОК 02, ОК 05, ОК 06.ПК 1.1.

Задания входного контроля

Обязательная часть

При решении заданий 1-4 запишите правильный ответ из четырех предложенных:

1. (1 балл) Раскройте формулу сокращенного умножения a^2-b^2 :

А) $a^2-2ab+b^2$; Б) $(a-b)(a+b)$; В) $a^2+2ab-b^2$; Г) $(a-b)(a-b)$

2. (1 балл) Площадь треугольника вычисляется по формуле:

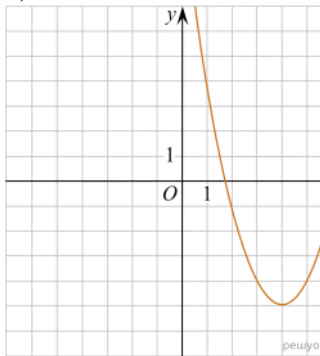
А) $S=a*b$; Б) $S=(a*b)/2$; В) $S=2a*b$; Г) $S=(a*b)/3$.

3. (1 балл) Какое из следующих чисел заключено между числами $\frac{10}{17}$ и $\frac{5}{8}$?

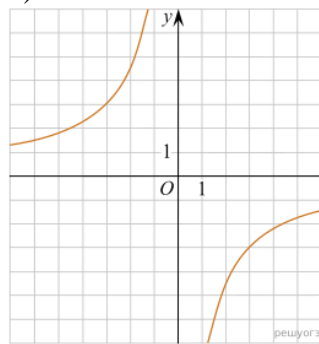
А) 0,4; Б) 0,5; В) 0,6; Г) 0,7

4. (1 балл) Даны графики функций. Какая формула соответствует графику 3):

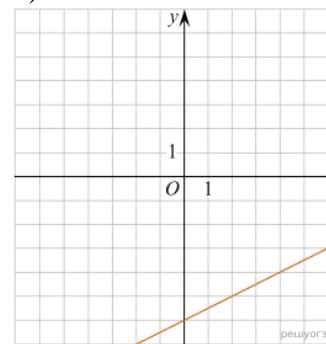
1)



2)



3)



А) $y = \frac{1}{2}x - 6$; Б) $y = x^2 - 8x + 11$; В) $y = -\frac{9}{x}$; Г) $y = x + 5$.

При выполнении заданий 5-8 запишите ход решения и полученный ответ.

$$\frac{1}{2} + \frac{11}{5}$$

5. (2 балла) Вычислите:

6. (2 балла) Решите уравнение $x^2-7x+10=0$. Если уравнение имеет более одного корня, в ответ запишите меньший из корней.

7. (2 балла) Для ремонта требуется 57 рулонов обоев. Какое наименьшее количество пачек обойного клея нужно для такого ремонта, если 1 пачка клея рассчитана на 5 рулонов?

8. (2 балла) Высота ВН параллелограмма ABCD делит его сторону AD на отрезки AN = 2 и ND = 32. Диагональ параллелограмма BD равна 40. Найдите площадь параллелограмма.

Дополнительная часть

При выполнении задания 9 запишите ход, обоснование решения и полученный ответ.

9. (3 балла) Рыболов проплыл на лодке от пристани некоторое расстояние вверх по течению реки, затем бросил якорь, 2 часа ловил рыбу и вернулся обратно через 5 часов от начала путешествия. На какое расстояние от пристани он отплыл, если скорость течения реки равна 2 км/ч, а собственная скорость лодки 6 км/ч?

Эталоны ответов:

Номер задания	1	2	3	4	5	6	7	8	9
Ответ	Б	Б	В	А	2,7	2	12	816	8

1. Фонд оценочных средств для текущего контроля

Текущий контроль проводится во время аудиторных занятий по математике в соответствии с учебным планом и рабочей программы ОД «Математика» по всем разделам программы. Текущий контроль состоит из двух частей: теоретической и практической. При этом обучающиеся получают две отметки.

Теоретическая часть проходит в форме устных ответов: обучающиеся вытягивают пять карточек с вопросами, дают полный ответ (со списком вопросов обучающиеся знакомятся в начале изучения раздела).

Шкала перевода баллов в отметки по пятибалльной системе

Отметка	Количество верных ответов на теоретические вопросы
«3» (удов.)	3
«4» (хорошо)	4
«5» (отлично)	5

Задания практической части (контрольные работы) частично взяты из открытого банка ЕГЭ и ВПР по математике.

На выполнение контрольной работы по математике дается 1 академический час (45 минут).

Контрольная работа состоит из 2-х частей. В первой части предлагается выполнить 4 задания – выбрать правильный ответ из четырех предложенных. Во второй части предлагается выполнить 6 заданий – оформить ход решения и записать полученный ответ.

За правильное выполнение любого задания первой части обучающийся получает один балла. Правильное выполнение заданий второй части оценивается 2 баллами или 1 баллом за частичное решение.

Баллы, полученные за все выполненные задания, суммируются.

Шкала перевода баллов в отметки по пятибалльной системе

Отметка	Число баллов, необходимое для получения отметки
«3» (удов.)	8-10
«4» (хорошо)	11-13
«5» (отлично)	14-16

3.1 Прямые и плоскости, координаты и векторы в пространстве

Образовательные результаты, подлежащие проверке (элементы):

ОК 01, ОК 03, ОК 05, ОК 07.

ПК 1.1.

Теоретические вопросы:

1. Сформулируйте теорему Пифагора.
2. Перечислите основные фигуры в пространстве.
3. Перечислите способы задания плоскости.
4. Продолжите теорему: «Если одна из двух параллельных прямых перпендикулярна плоскости, то...».
5. Продолжите теорему: «Если две параллельные плоскости пересекаются третьей, то...».
6. Сформулируйте определение двугранного угла.
7. Раскройте понятие «угол между прямыми».
8. Перечислите взаимное расположение двух прямых в пространстве.
9. Какие прямые называются параллельными в пространстве?
10. Какие прямые называются скрещивающимися в пространстве?
11. Какие прямые называются перпендикулярными в пространстве?
12. Перечислите взаимное расположение прямой и плоскости в пространстве.
13. Раскройте понятие «угол между прямой и плоскостью».
14. Раскройте понятие «параллельность прямой и плоскости».
15. Раскройте понятие «перпендикулярность прямой и плоскости».
16. Перечислите взаимное расположение двух плоскостей в пространстве.
17. Раскройте понятие «угол между плоскостями».
18. Раскройте понятие «параллельность плоскостей».
19. Раскройте понятие «перпендикулярность плоскостей».
20. Как найти расстояние от точки до прямой?
21. Как найти расстояние между прямыми?
22. Как найти расстояние между плоскостями?
23. Продолжите определение: «Перпендикуляр – это...».
24. Продолжите определение: «Наклонная – это...».
25. Продолжите определение: «Проекция наклонной – это...».
26. Перечислите свойства параллельного проектирования.
27. Из чего состоит прямоугольная система координат в пространстве?
28. Если точка лежит в плоскости π , какая координата у нее нулевая?
29. Приведите пример координат точки A , которая лежит на оси z .
30. Раскройте понятие «вектор».
31. Какие векторы называются коллинеарными?
32. Какие векторы называются перпендикулярными?

Контрольная работа

Первая часть

При решении заданий 1-4 запишите правильный ответ из четырех предложенных.

1. (1 балл) Расшифруйте краткую запись: $a \in \beta$.
А) точка a принадлежит плоскости β ; Б) точка a принадлежит прямой β ; В) прямая a принадлежит плоскости β ; Г) прямая a пересекает плоскость β .
2. (1 балл) Прямые AB и CD скрещиваются. Какое расположение имеют прямые AC и BD ?
А) параллельные; Б) перпендикулярные; В) скрещиваются; Г) пересекаются.
3. (1 балл) Какие из векторов $a(1,2,-3)$, $c(3,6,-6)$, $v(2,4,-6)$ коллинеарные?
А) a , v ; Б) c , v ; В) a , c ; Г) коллинеарных векторов нет.

4. (1 балл) Даны точки $A(2,0,5)$, $B(2,4,-2)$ $C(-2,6,3)$. Серединой какого отрезка является точка $M(0,3,4)$?

А) АВ; Б) ВС; В) АС; Г) СВ.

Вторая часть

При выполнении заданий 5-10 запишите ход решения и полученный ответ.

5. (2 балла) Через концы отрезка АВ и его середину М проведены параллельные прямые, пересекающие некоторую плоскость в точках A_1 , B_1 и M_1 . Найдите длину отрезка MM_1 , если отрезок АВ не пересекает плоскость и если $AA_1=6,8$ см, $BB_1=7,4$ см.

6. (2 балла) Прямые АС, АВ и АД попарно перпендикулярны. Найдите отрезок СД, если $AB=5$ см, $BC=13$ см, $AD=9$ см.

7. (2 балла) (2 балла) Даны векторы $a(-6,0,8)$, $b(-3,2,-6)$. Найдите скалярное произведение векторов.

8. (2 балла) Начертить куб $ABCD A_1 B_1 C_1 D_1$. Построить точку $K \in AB$, точку $M \in DD_1 C$, отрезок $PE \in A_1 B_1 C_1$.

9. (2 балла) При каких значениях p векторы $\vec{a}(4,p,2)$, $\vec{b}(1,2,p)$ перпендикулярны?

10. (2 балла) Оформите лист бумаги А4 вертикальными, горизонтальными, наклонными линиями, используя разные цветовые оттенки.

Эталоны ответов:

Номер задания	1	2	3	4	5	6	7	8	9	10
Ответ	В	В	А	В	7,1	15	-30	-	-1	-

3.2 Основы тригонометрии. Тригонометрические функции

Образовательные результаты, подлежащие проверке (элементы):

ОК 01, ОК 02, ОК 03. ПК 1.1

Теоретические вопросы:

1. Чему равен угол в один радиан?
2. В каких четвертях тригонометрического круга функция $y=\sin x$ принимает положительные значения?
3. В каких четвертях тригонометрического круга функция $y=\cos x$ принимает отрицательные значения?
4. Продолжите определение: «Синус острого угла – это...».
5. Продолжите определение: «Косинус острого угла – это...».
6. Продолжите определение: «Тангенс острого угла – это...».
7. Сформулируйте основное тригонометрическое тождество.
8. Чему равно произведение $\operatorname{tg}x \cdot \operatorname{ctg}x$?
9. Чему равен $\sin(2x)$? Сформулируйте правило вычисления.
10. Чему равен $\cos(2x)$? Сформулируйте правило вычисления.
11. Перечислите тригонометрические функции, укажите их периоды.
12. Чему равен период функции $y=\cos(4x)$?
13. ему равен период функции $y=\cos(x/4)$?
14. Определите область значения функции $y=3\cos(5x)$?
15. Перечислите способы решения тригонометрических уравнений.
16. Раскройте алгоритм решения однородных тригонометрических уравнений первого порядка.
17. Раскройте алгоритм решения однородных тригонометрических уравнений второго порядка.

Контрольная работа

Первая часть

При решении заданий 1-4 запишите правильный ответ из четырех предложенных.

1. (1 балл) В $\triangle ABC$ $\cos C = \frac{AB}{AC}$. Какая из сторон является гипотенузой $\triangle ABC$?
А) АВ; Б) АС; В) ВС; Г) СВ.
2. (1 балл) Углом какой четверти является угол $\alpha = 410^\circ$?
А) I; Б) II; В) III; Г) IV.
3. (1 балл) Какие из функций являются чётными?
А) $y = \sin x$; Б) $y = \cos x$; В) $y = \operatorname{tg} x$; Г) $y = \operatorname{ctg} x$.
4. (1 балл) Период функции $y = \sin x$?
А) $\pi/2$; Б) 2π ; В) 4π ; Г) π .

Вторая часть

При выполнении заданий 5-10 запишите ход решения и полученный ответ.

5. (2 балла) Вычислите: $\sin\frac{\pi}{2} + \cos\frac{\pi}{2}$.

6. (2 балла) Найдите значение выражения $4\arccos\frac{\sqrt{2}}{2} - 4\arcsin(-\frac{\sqrt{2}}{2})$

7. (2 балла) Найдите значение выражения $7\operatorname{tg} 13^\circ \cdot \operatorname{tg} 77^\circ$.

8. (2 балла) Решите уравнение $\cos x = \frac{1}{2}$. Запишите наименьший положительный корень уравнения.

9. Решите уравнение $\sin^2 x - 4 \sin x + 3 = 0$.

10. Постройте график тригонометрической функции $y=2 \sin x$

Эталоны ответов:

Номер задания	1	2	3	4	5	6	7	8	9	10
Ответ	Б	А	В	Б	1	2π	7	$\pi/3$	$\pi/2+2\pi n,$ $n \in Z$	

3.3 Производная и первообразная функции

Образовательные результаты, подлежащие проверке (элементы):

ОК 01, ОК 03, ОК 06.

ПК 1.1.

Теоретические вопросы:

1. Продолжите определение: «Производная – это...».
2. Раскройте геометрический смысл производной.
3. Раскройте физический смысл производной.
4. Перечислите правила вычисления производных.
5. Чему равна производная степенной функции?
6. Чему равна производная произведения?
7. Чему равна производная частного?
8. Чему равна производная сложной функции?
9. Сформулируйте признак возрастания функции.
10. Сформулируйте признак убывания функции.
11. Сформулируйте признак точки максимума функции.
12. Сформулируйте признак точки минимума функции.
13. Составьте алгоритм решения задач на нахождения наибольшего и наименьшего значения функции на отрезке?
14. Составьте алгоритм исследования и построения графика функции с помощью производной.
15. Продолжите определение: «Функция $F(x)$ называется ...».
16. Раскройте геометрический смысл определенного интеграла.
17. Продолжите определение: «Криволинейная трапеция – это...».
18. Сформулируйте формулу Ньютона-Лейбница.
19. В чем заключается общий вид всех первообразных?
20. Перечислите правила вычисления интегралов.

Контрольная работа

Первая часть

При решении заданий 1-4 запишите правильный ответ из четырех предложенных.

1. (1 балл) Чему равна производная функции $y=2x^3$?
А) $y' = 5x$; Б) $y' = 6x$; В) $y' = 6$; Г) $y' = 6x^2$.
2. (1 балл) По какой из формул вычисляется производная частного?
А) $(u+v)' = u' + v'$; Б) $(uv)' = u'v + uv'$; В) $\left(\frac{u}{v}\right)' = \frac{u'v - uv'}{v^2}$; Г) $(f(g(x)))' = f'(g(x)) * g'(x)$.
3. (1 балл) Решите уравнение $f'(x)=0$, если $f(x)=3x^2 - 6x + 4$. Выберите ответ.
А) 1; Б) -1; В) 4; Г) -4.
4. (1 балл) Общий вид всех первообразных для $f(x)=\sin x$?
А) $F(x)=\cos x + C$; Б) $F(x)=-\cos x + C$; В) $F(x)=\operatorname{tg} x + C$; Г) $F(x)=-\operatorname{tg} x + C$.

Ответ	Г	В	А	Б	8	1,25	(-4; 4)	-3	12	10x10
--------------	---	---	---	---	---	------	---------	----	----	-------

3.4 Многогранники и тела вращения

Образовательные результаты, подлежащие проверке (элементы):

ОК 01, ОК 03, ОК 05, ОК 06, ОК 7.

ПК 1.1

Теоретические вопросы:

1. Продолжите определение: «Многогранник – это...».
2. Продолжите определение: «Призма – это...».
3. Продолжите определение: «Прямоугольный параллелепипед – это...».
4. Продолжите определение: «Куб – это...».
5. Продолжите определение: «Пирамида – это...».
6. Сформулируйте свойство о противолежащих гранях параллелепипеда.
7. Сформулируйте свойство о диагоналях параллелепипеда.
8. Сформулируйте свойство о диагонали и линейных размерах прямоугольного параллелепипеда.
9. Какая призма называется прямой?
10. Какая призма называется правильной?
11. Раскройте понятие «правильная пирамида».
12. Что такое апофема правильной пирамиды?
13. В чем отличие полной поверхности призмы от полной поверхности пирамиды?
14. Сформулируйте теорему о вычислении боковой поверхности прямой призмы.
15. Сформулируйте теорему о вычислении боковой поверхности правильной пирамиды.
16. Назовите предметы из вашей профессиональной деятельности, которые имеют формы многогранников.
17. Продолжите определение: «Цилиндр – это...».
18. Продолжите определение: «Конус – это...».
19. Продолжите определение: «Усеченный конус – это...».
20. Продолжите определение: «Шар – это...».
21. Что является высотой усеченного конуса?
22. Что является осевым сечением цилиндра, конуса, усеченного конуса, шара?
23. Перечислите единицы измерения площади, объема.
24. Чему равно отношение площадей поверхностей подобных фигур в пространстве?
25. Чему равно отношение объемов подобных фигур в пространстве?
26. Назовите предметы из вашей профессиональной деятельности, которые имеют формы тел вращения.

Контрольная работа

Первая часть

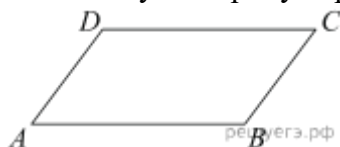
При решении заданий 1-4 запишите правильный ответ из четырех предложенных.

1. (1 балл) В каких единицах измеряется объем многогранника?
А) в метрах; Б) в кубических метрах; В) в квадратных метрах; Г) в двугранных градусах.
2. (1 балл) Площадь полной поверхности призмы вычисляется по формуле:
А) $S = S_{\text{бок}} + 2 S_{\text{осн.}}$; Б) $S_{\text{бок}} = P_{\text{осн}} * H$; В) $S = S_{\text{бок}} + 2 S_{\text{осн.}}$; Г) $S_{\text{бок}} = 2 P_{\text{осн}} * H$.
3. (1 балл) Что является осевым сечением конуса?
А) равнобедренный треугольник; Б) равнобедренная трапеция; В) прямоугольник; Г) прямоугольная трапеция.
4. (1 балл) Какая фигура получается при вращении прямоугольного треугольника вокруг одного из своих катетов?
А) конус; Б) усеченный конус; В) пирамида; Г) усеченная пирамида.

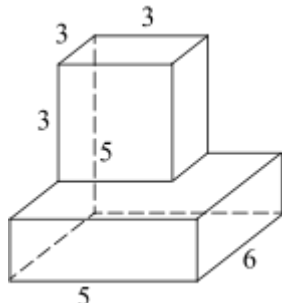
Вторая часть

При выполнении заданий 5-10 запишите ход решения и полученный ответ.

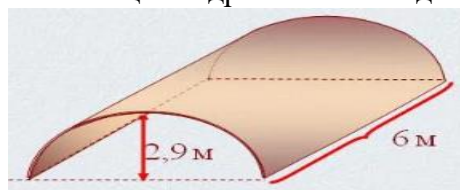
5. (2 балла) Ребро основания правильной треугольной пирамиды 3 м, апофема 6м. Найдите площадь боковой поверхности пирамиды.
6. (2 балла) Две стороны параллелограмма относятся как 3:17, а периметр его равен 40. Найдите большую сторону параллелограмма.



7. (2 балла) Прямоугольник со сторонами 8 см и 3 см вращается вокруг большей стороны. Найдите объем, площади боковой и полной поверхностей полученного тела.
8. (2 балла) Найдите объем многогранника, изображенного на рисунке (все двугранные углы прямые).



9. (2 балла) Клиенту необходимо, чтобы в комнате обязательно присутствовали объемные элементы декора цилиндрической формы. Построить из бумаги модель цилиндра. Размеры для построения выбрать самостоятельно, с учетом того, что соотношение радиуса к высоте должно быть 1:2.
10. (2 балла) Рассчитать количество 2-х килограммовых банок краски нужно купить для окрасивания цилиндрического свода подвала. Расход краски 100 г на 1 м². Считать $\pi=3$.



Эталоны ответов:

Номер задания	1	2	3	4	5	6	7	8	9	10
Ответ	Б	А	А	А	27	17	72 π ;	87	-	3

							48 π ; 64 π			
--	--	--	--	--	--	--	------------------------	--	--	--

3.5 Степенная, показательная и логарифмическая функции

Образовательные результаты, подлежащие проверке (элементы):

ОК 01, ОК 02, ОК 03, ОК 06. ПК 1.1

Теоретические вопросы:

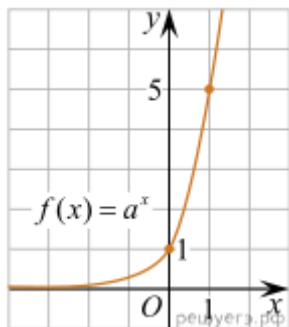
1. Сформулируйте определение степенной функции.
2. Перечислите свойства степенной функции
3. Сформулируйте определение показательной функции.
4. Перечислите свойства показательной функции
5. Сформулируйте определение логарифмической функции.
6. Перечислите свойства логарифмической функции.
7. Продолжите определение: «Логарифм – это...».
8. Чему равен логарифм произведения?
9. Чему равен логарифм частного?
10. Приведите примеры логарифмической спирали в природе и в окружающем мире.
11. На что необходимо обратить внимание при решении иррационального уравнения четной степени?
12. Чему равен корень четной степени из отрицательного числа? Приведите пример.
13. Чему равен корень нечетной степени из отрицательного числа? Приведите пример.
14. На что стоит обратить внимание при решении логарифмических и иррациональных, дробно-рациональных уравнений и неравенств?
15. В чем заключается графический способ решения уравнений.

Контрольная работа

Первая часть

При решении заданий 1-4 запишите правильный ответ из четырех предложенных.

1. (1 балл) Между какими двумя натуральными числами находится число $\sqrt[3]{19}$?
А) 19 и 20; Б) 2 и 3; В) 18 и 19; Г) 3 и 4.
2. (1 балл) На рисунке изображён график функции вида $f(x)=a^x$. Найдите значение $f(2)$.



- А) 25.; Б) 5; В) 32; Г) нет верного ответа.
3. (1 балл) Какая из функций возрастают на всей области определения?
А) $f(x)=\log_5 x$; Б) $f(x)=0,7^x$; В) $f(x)=x^2$; Г) $f(x)=\log_{\frac{1}{2}} x$.
 4. (1 балл) Укажите область определения функции $f(x) = \lg \frac{2x-3}{x+7}$
А) $(-7; 1,5)$; Б) $(-\infty; -1,5), (7; +\infty)$; В) $(-1,5; 7)$; Г) $(-\infty; -7), (1,5; +\infty)$.

Вторая часть

При выполнении заданий 5-10 запишите ход решения и полученный ответ.

5. (2 балла) Найдите значение выражения $4^8 \cdot 11^{10} : 44^8$.
6. (2 балла) Сколько целых решений имеет неравенство $1 < 7^{x-1} \leq 49$?
7. (2 балла) Найдите корень уравнения $\log_5(4+x) = 2$.
8. (2 балла) Расстояние от наблюдателя, находящегося на небольшой высоте h

километров над землёй, до наблюдаемой им линии горизонта вычисляется по формуле $l = \sqrt{2Rh}$, где $R=6400$ км — радиус Земли. С какой высоты горизонт виден на расстоянии 48 километров? Ответ выразите в километрах.

9. (2 балла) В ходе распада радиоактивного изотопа его масса уменьшается по закону $m(t) = m_0 \cdot 2^{-t/T}$, где m_0 — начальная масса изотопа, t — время, прошедшее от начального момента, T — период полураспада. В начальный момент времени масса изотопа 184 мг. Период его полураспада составляет 7 мин. Найдите, через сколько минут масса изотопа будет равна 23 мг.

10. (2 балла) Найдите значение выражения $\log_6 108 + \log_6 2$

Эталоны ответов:

Номер задания	1	2	3	4	5	6	7	8	9	10
Ответ	Б	А	А	Г	121	2	21	0,18	21	3

3.6 Элементы теории вероятностей и математической статистики

Образовательные результаты, подлежащие проверке (элементы):

ОК 01, ОК 03, ОК 04, ОК 05.

ПК 1.1.

Теоретические вопросы:

1. Продолжите определение: «Случайное событие – это...». Приведите пример.
2. Приведите пример достоверного события.
3. Приведите пример невозможного события.
4. Продолжите определение: «Вероятность случайного события – это...».
5. Сформулируйте правило нахождения сложения вероятностей.
6. Сформулируйте правило умножения вероятностей.
7. Как найти среднее арифметическое числового ряда?
8. Как найти медиану числового ряда?
9. Как вычисляется размах числового ряда?
10. Для чего нужны диаграммы, графики? Перечислите виды диаграмм.
11. Приведите примеры проявления закона больших чисел в природных явлениях.
12. Приведите примеры проявления закона больших чисел в общественных явлениях.
13. Что изучает статистика?
14. Продолжите определение: «Сочетание – это...».
15. Продолжите определение: «Размещение – это...».
16. Продолжите определение: «Перестановки – это...».

Контрольная работа

Первая часть

При решении заданий 1-4 запишите правильный ответ из четырех предложенных

1. (1 балл) Каких событий не бывает в теории вероятностей?
А) случайные; Б) неслучайные; В) достоверные; Г) невозможные.
2. (1 балл) Событие, которое при выполнении определенной совокупности условий, обязательно произойдет - это:
А) случайное; Б) неслучайное; В) достоверное; Г) невозможное.
3. (1 балл) Вероятность случайного события есть неотрицательное число, заключенное между числами:
А) 0 и 1; Б) 0 и 100; В) -1 и 1; Г) -100 и 100.
4. (1 балл) Группировка – это...
А) упорядочение единиц совокупности по признаку; Б) разбиение единиц совокупности на группы по признаку; В) обобщение единичных фактов; Г) обобщение единичных признаков.

Вторая часть

При выполнении заданий 5-10 запишите ход решения и полученный ответ.

5. (2 балла) В офисе дизайнерского агентства находятся 8 посетителей женского пола и 2 мужского. Определить вероятность того, что первым к консультанту обратится мужчина.
6. (2 балла) На конференцию приехали 2 ученых из Германии, 3 из Сербии и 7 из Швейцарии. Каждый из них делает на конференции один доклад. Порядок докладов определяется жеребьевкой. Найдите вероятность того, что пятым окажется доклад ученого из Сербии.
7. (2 балла) Маша, Тимур, Диана, Костя и Антон бросили жребий — кому достанется проект по оформлению свадебного зала. Найдите вероятность того, что проект точно не будет выполнять Антон.
8. (2 балла) В ящике три красных и три синих фломастера. Фломастеры вытаскивают по очереди в случайном порядке. Какова вероятность того, что первый раз синий фломастер появится третьим по счету?

9. (2 балла) Дан ряд чисел: 175; 172; 179; 171; 174; 170; 172; 169. Найдите моду ряда и среднее арифметическое ряда.

10.(2 балла) При анализе ценовых предпочтений клиентов дизайнерского агентства получены данные, представленные в таблице: доля клиентов, приобретающих дизайнерские услуги одинакового назначения, но различной цены. Найти моду случайной величины. X – цены продаваемых услуг.

x_i	3500	4500	5500	6500	7500	8500
p_i	1/20	3/20	3/20	8/20	4/20	1/20

Эталоны ответов:

Номер задания	1	2	3	4	5	6	7	8	9	10
Ответ	Б	В	А	А	0,2	0,25	0,8	0,15	172; 172,75	6500

2. Фонд оценочных средств для рубежного контроля (по итогам 3.1 – 3.3)

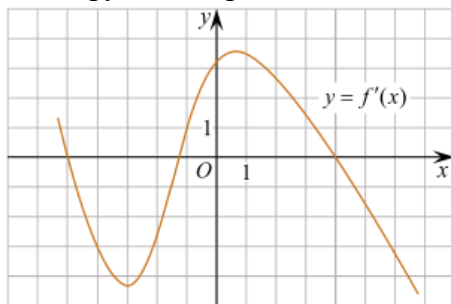
Образовательные результаты, подлежащие проверке (элементы):

ОК 01, ОК 02, ОК 03, ОК 05, ОК 06.
ПК 1.1

Первая часть

При решении заданий 1-4 запишите правильный ответ из четырех предложенных.

1. Даны точки $A(2,0,5)$, $B(-2,6,3)$. Какие координаты имеет середина отрезка AB – точка M ?
А) $M(0, 3, 4)$; Б) $M(2, 3, 4)$; В) $M(0, -3, 4)$; Г) $M(0, 3, -4)$.
2. (1 балл) Прямые AB и CD параллельные. Какое расположение имеют прямые AC и BD ?
А) параллельные; Б) перпендикулярные; В) скрещиваются; Г) пересекаются.
3. (1 балл) Какие из функций являются чётными?
А) $y=\sin x$; Б) $y=\cos x$; В) $y=\operatorname{tg} x$; Г) $y=\operatorname{ctg} x$.
4. (1 балл) На рисунке изображен график производной функции $y=f(x)$. При каком значении x функция принимает свое наибольшее значение на отрезке $[-4; -2]$?



- А) 0,5; Б) -4; В) -5; Г) 1.

Вторая часть

При выполнении заданий 5-10 запишите ход решения и полученный ответ.

5. (2 балла) Через концы отрезка AB и его середину M проведены параллельные прямые, пересекающие некоторую плоскость в точках A_1 , B_1 и M_1 . Найдите длину отрезка MM_1 , если отрезок AB не пересекает плоскость и если $AA_1=6$ см, $BB_1=4$ см.
6. (2 балла) Даны точки $A(6,7,8)$, $B(8,2,6)$. Найдите длину вектора AB .
7. (2 балла) Найдите $\operatorname{tg}\left(\alpha + \frac{\pi}{2}\right)$, если $\operatorname{tg} \alpha = 0,5$.
8. (2 балла) Материальная точка движется прямолинейно по закону $x(t)=t^2-13t+23$ (где x — расстояние от точки отсчета в метрах, t — время в секундах, измеренное с начала движения). В какой момент времени (в секундах) ее скорость была равна 3 м/с?
9. (2 балла) Дана функция $f(x)=3x^2+1$. Чему равна $F(1)$?
10. (2 балла) Решите уравнение $\cos x=1$. В ответ запишите наименьший неотрицательный корень.

Эталоны ответов:

Номер задания	1	2	3	4	5	6	7	8	9	10
Ответ	А	Г	Б	Б	5	$\sqrt{33}$	-2	8	2	0

II. РЕЗУЛЬТАТЫ ОСВОЕНИЯ ПРЕДМЕТА, ПОДЛЕЖАЩЕГО ПРОВЕРКИ.

Код и наименование формируемых компетенций	Критерии оценки
ОК 01 Выбирать способы решения задач профессиональной деятельности применительно к различным контекстам	- уровень освоения обучающимся материала, предусмотренного учебной программой по учебной дисциплине;
ОК 02 Использовать современные средства поиска, анализа и интерпретации информации и информационные технологии для выполнения задач профессиональной деятельности	- теоретические знания при выполнении практических задач;- уровень обоснованности, четкости изложения ответа при соблюдении принципа полноты его содержания.
ОК 03. Планировать и реализовывать собственное профессиональное и личностное развитие, предпринимательскую деятельность в профессиональной сфере, использовать знания по правовой и финансовой грамотности в различных жизненных ситуациях	уметь оперировать понятиями: рациональная функция, показательная функция, степенная функция, логарифмическая функция, тригонометрические функции, обратные функции; умение строить графики
ОК 04. Эффективно взаимодействовать и работать в коллективе и команд	Умение выбирать подходящий изученный метод для решения задачи, распознавать математические факты
ПК 1.1. Осуществлять профессиональное толкование норм права	и математические модели в природных и общественных явлениях, в искусстве;

III. ОПИСАНИЕ ОРГАНИЗАЦИИ ОЦЕНИВАНИЯ И ПРАВИЛ ОПРЕДЕЛЕНИЯ РЕЗУЛЬТАТОВ ОЦЕНИВАНИЯ.

Уровень подготовки обучающихся по учебному предмету оценивается в баллах: «5» («отлично»), «4» («хорошо»), «3» («удовлетворительно»), «2» («неудовлетворительно»).

Оценка «отлично» - обучающийся показывает полные и глубокие знания программного материала, логично и аргументировано отвечает на поставленный вопрос, а также дополнительные вопросы, показывает высокий уровень теоретических знаний. Практическую часть выполняет на 100%.

Оценка «хорошо» - обучающийся показывает глубокие знания программного материала, грамотно его излагает, достаточно полно отвечает на поставленный вопрос и дополнительные вопросы, умело формулирует выводы. В тоже время при ответе допускает несущественные погрешности. Практическую часть выполняет на 90%-80%.

Оценка «удовлетворительно» - обучающийся показывает достаточные, но не глубокие знания программного материала; при ответе не допускает грубых ошибок или противоречий, однако в формулировании ответа отсутствует должная связь между анализом, аргументацией и выводами. Для получения правильного ответа требуется уточняющие вопросы. Практическую часть выполняет на 70%-60%.

Оценка «неудовлетворительно» - обучающийся показывает недостаточные знания программного материала, не способен аргументировано и последовательно его излагать, допускаются грубые ошибки в ответах, неправильно отвечает на поставленный вопрос или затрудняется с ответом. Практическую часть выполняет на менее 50%.

Экзамен по учебному предмету проводится в период экзаменационных сессий, установленных календарным учебным графиком. Экзамен принимается преподавателями, которые проводили занятия по данной учебному предмету.

Во время экзамена по учебному предмету допускается использование наглядных пособий, материалов справочного характера, нормативных документов, образцов техники и других информационно-справочных материалов, перечень которых заранее регламентируется.

Код и наименование формируемых компетенций	Критерии оценки
ОК 01 Выбирать способы решения задач профессиональной деятельности применительно к различным контекстам	- уровень освоения обучающимся материала, предусмотренного учебной программой по учебной дисциплине; - теоретические знания при выполнении практических задач; - уровень обоснованности, четкости изложения ответа при соблюдении принципа полноты его содержания.
ОК 02 Использовать современные средства поиска, анализа и интерпретации информации и информационные технологии для выполнения задач профессиональной деятельности	
ПК 1.1. Осуществлять профессиональное толкование норм права	

Условия выполнения задания

1. Место выполнения задания: кабинет «Математики»
2. Максимальное время выполнения задания: 1 час 30 минут
3. Обучающиеся могут воспользоваться: таблицами радианной меры основных углов в тригонометрии, таблицами производных, таблицами первообразных.

Экзаменационные вопросы.

1. Определитель второго и третьего порядка. Свойства определителей. Решение систем линейных уравнений второго и третьего порядков методом Крамера.
2. Числовая функция, область определения, множество значений.

3. Свойства функции: четность, нечетность, периодичность, ограниченность, монотонность, экстремум функции.
4. График функции. Простейшие преобразования графиков функций.
5. Степень с произвольным действительным показателем. Свойства степени. Степенная функция x^n (для $n=2k, n=2k+1, n=-1, -2, 1/2, 1/3, -1/2$).
6. Логарифмы и их основные свойства. Основное логарифмическое тождество. Формула перехода от логарифмов с одним основанием к логарифмам с другим основанием.
7. Вычисление логарифмов с произвольным основанием. Логарифмирование и потенцирование выражений.
8. Показательная функция, её свойства и график.
9. Логарифмическая функция, её свойства и график.
10. Решение показательных уравнений и неравенств.
11. Решение логарифмических уравнений и неравенств.
12. Тригонометрические функции числового аргумента и их простейшие свойства.
13. Функция $y = \sin x$, её свойства и график.
14. Функция $y = \cos x$, её свойства и график.
15. Функция $y = \operatorname{tg} x$, её свойства и график.
16. Зависимость между тригонометрическими функциями одного аргумента. Формулы приведения.
17. Решение тригонометрических уравнений $\sin x = 0, 1, -1, \cos x = 0, 1, -1$.
18. Простейшие тригонометрические уравнения и их решение.
19. Векторы. Линейные операции над векторами.
20. Скалярное произведение векторов и его свойства. Угол между векторами.
21. Прямая и плоскость в пространстве. Признак параллельности прямой и плоскости. Обратная теорема.
22. Две плоскости в пространстве. Признак параллельности двух плоскостей.
23. Перпендикуляр и наклонные к плоскости. Угол прямой с плоскостью.
24. Перпендикулярность прямой и плоскости. Признак перпендикулярности прямой и плоскости.
25. Теорема о трех перпендикулярах.
26. Геометрический смысл производной. Алгоритм отыскания уравнений касательной и нормали к данной кривой.
27. Формулы дифференцирования.
28. Дифференцирование тригонометрических функций.
29. Первообразная. Неопределенный интеграл и его свойства.
30. Интегрирование элементарных функций. Табличные интегралы.
31. Метод подстановки в неопределенном интеграле.
32. Формула Ньютона-Лейбница. Площадь криволинейной трапеции.
33. Многогранники. Призма, параллелепипед. Свойства граней и диагоналей параллелепипеда.
34. Цилиндр, конус. Сечения цилиндра и конуса. Пирамида, усеченная пирамида.
35. Сфера и шар. Сечение шара плоскостью. Части сферы и шара.
36. Объем параллелепипеда и призмы.
37. Объем пирамиды, усеченной пирамиды.
38. Объем цилиндра, конуса, усеченного конуса.
39. Объем шара.
40. Площадь поверхности призмы.
41. Площадь поверхности пирамиды, усеченной пирамиды.
42. Площадь поверхности цилиндра, конуса, усеченного конуса.
43. Площадь сферы и её частей.
44. Элементы комбинаторики: размещения, перестановки, сочетания.
45. Случайные события. Вероятность события.

Экзаменационные билеты

Вариант 1

- 1) Вычислите $29 \cdot 16^{\frac{1}{4}} - 15$.
1) 131 2) 43 3) 73 4) 101.
- 2) Упростите выражение $\frac{5^{0,5}}{5^{-0,5}}$.
1) 5 2) 1 3) 10 4) 0.
- 3) Упростите выражение $\log_2 50 - 2\log_2 5$.
1) $\log_2 30$ 2) 1 3) $8\log_2 5$ 4) 20.
- 4) Найдите значение $\cos \alpha$, если $\sin \alpha = -0,8$ и $\pi < \alpha < \frac{3\pi}{2}$.
1) -0,6 2) 0,6 3) 0,2 4) 0,36
- 5) Упростите выражение $7\cos^2 \alpha - 5 + 7\sin^2 \alpha$.
1) $1 + \cos^2 \alpha$ 2) 2 3) -12 4) 12.
- 6) Решите уравнение $\cos x = -1$.
1) $2\pi n, n \in \mathbb{Z}$ 2) $\frac{\pi}{2}$ 3) $\frac{\pi}{2} + 2\pi n, n \in \mathbb{Z}$ 4) $\pi n, n \in \mathbb{Z}$
- 7) Укажите промежуток, которому принадлежит корень уравнения $\sqrt{64 - 3x^2} = -x$.
1) $[\frac{4}{3}; 36]$ 2) (35; 37) 3) (-2; 0) 4) $(-\infty; -2]$.
- 8) Укажите промежуток, которому принадлежит корень уравнения $(\frac{1}{32})^{0,5x+1} = 8$.
1) [-4; 0) 2) [0; 1) 3) $[-\infty; -4)$ 4) [4; 6).
- 9) Решите неравенство $\frac{6x-2}{(x-1)(x+2)} \leq 0$.
1) $(-\infty; -2) \cup [\frac{1}{3}; 1)$ 2) $[-2; \frac{1}{3}) \cup (1; +\infty)$ 3) $(-\infty; -2)$ 4) $(-\infty; -5) \cup (-2; \frac{1}{4})$.
- 10) Найдите множество значений функции $y = \cos x - 2$.
1) [3; 1] 2) $(-\infty; +\infty)$ 3) [-1; 1] 4) [-3; -1].
- 11) Найдите производную функции $f(x) = (7 - 2x)^4$.
1) $-4(7 - 2x)^{-3}$ 2) $-8(7 - 2x)^3$ 3) $8(7 - 2x)^3$ 4) $(7 - 2x)^2$.
- 12) Укажите первообразную функции $f(x) = 2x + 4x^3 - 1$.
1) $x^2 + x^4 - x$ 2) $2x^2 + 4x^4$ 3) $2 + 12x^2$ 4) $x^2 + x^4$.
- 13) Решите уравнение $\log_5 x + \log_5 3 = \log_5 12$.
1) 0 2) 4 3) 9 4) 15.
- 14) Найдите точки максимума функции $y = x^3 - 3x^2$.
1) 0 2) 2 3) -2 4) 3.
- 15) Найдите диагонали прямоугольного параллелепипеда по трем его измерениям: 2; 2; 1.
1) 5 2) 10 3) 3 4) 31.
- 16) Вычислите площадь фигуры (S), ограниченной линиями $y = 4 - x^2$, $y = 0$, $x = 0$, $x = 2$.
1) 8 2) $2\frac{2}{3}$ 3) $5\frac{1}{3}$ 4) $6\frac{2}{3}$.
- 17) Укажите область определения функции $y = \log_{0,3}(6x - 3x^2)$.
1) $(-\infty; 0) \cup (2; +\infty)$ 2) $(-2; +\infty)$ 3) $(2; +\infty)$ 4) (0; 2).
- 18) Найдите наибольшее целое решение неравенства $(\frac{1}{3})^{2-5x} - 1 \leq 0$.
1) 0 2) -1 3) 1 4) 2.
- 19) Площади двух граней прямоугольного параллелепипеда равны 56дм^2 и 192дм^2 , а длина их общего ребра 8дм. Найдите объем параллелепипеда.
1) 840 2) 1344 3) 1029 4) 1210.

20) Образующая конуса равна 12см и составляет с плоскостью основания угол 30° . Найдите объем конуса, считая $\pi = 3$.

- 1) 384 2) 192 3) $24\sqrt{2}$ 4) 648.

Вариант 2

1) Вычислите $7 - 3 \cdot 64^{\frac{1}{6}}$.

- 1) 1 2) 8 3) -5 4) -17.

2) Упростите выражение $\frac{11^{1,5}}{11^{0,3}}$.

- 1) 1,2 2) 5 3) $11^{1,2}$ 4) 11^5 .

3) Упростите выражение $2^{\log_2 3} + \log_7 2 - \log_7 14$.

- 1) $2 + 2\log_7 2$ 2) 2 3) $3 - 6\log_7 2$ 4) 7.

4) Найдите значение $\cos \alpha$, если $\sin \alpha = \frac{\sqrt{2}}{3}$ и $0 < \alpha < \frac{\pi}{2}$.

- 1) $-\frac{\sqrt{7}}{3}$ 2) $\frac{7}{9}$ 3) $\frac{\sqrt{7}}{3}$ 4) $\frac{2}{9}$.

5) Упростите выражение $-3\sin^2 \alpha - 6 - 3\cos^2 \alpha$.

- 1) 1 2) $2\cos \alpha$ 3) $\cos \alpha + \sin \alpha$ 4) -9.

6) Укажите промежуток, которому принадлежит корень уравнения $\sqrt{125 - 4x^2} = -x$.

- 1) $[\frac{4}{3}; 36]$ 2) $(-\infty; -10)$ 3) $(\frac{4}{3}; 40]$ 4) $(-\infty; -\frac{4}{3}]$.

7) Решите уравнение $\sin x = 1$.

- 1) $2\pi n, n \in \mathbb{Z}$ 2) $\frac{\pi}{2}$ 3) $\frac{\pi}{2} + 2\pi n, n \in \mathbb{Z}$ 4) $\pi n, n \in \mathbb{Z}$.

8) Укажите промежуток, которому принадлежит корень уравнения $(\frac{1}{25})^{0,4x-2} = 125$.

- 1) $[-4; 0)$ 2) $[0; 1)$ 3) $[1; 4)$ 4) $[4; 6)$.

9) Решите неравенство $\frac{x-3}{(4x-2)(x+2)} \leq 0$.

- 1) $(-2; \frac{1}{2})$ 2) $[-2; 2) \cup (\frac{1}{2}; +\infty)$ 3) $(-\infty; 3)$ 4) $(-\infty; -2) \cup (\frac{1}{2}; 3]$.

10) Найдите множество значений функции $y = \sin x + 4$.

- 1) $[3; 5]$ 2) $(-\infty; +\infty)$ 3) $[-1; 1]$ 4) $[-5; -3]$.

11) Найдите производную функции $f(x) = (5 + 3x)^3$.

- 1) $3(5 + 3x)^2$ 2) $9(5 + 3x)^2$ 3) $-3(5 + 3x)^3$ 4) $-(5 + 3x)^2$.

12) Укажите первообразную функции $f(x) = 3x^2 + 2x - 4$.

- 1) $x^3 + x^2 - 4x$ 2) $6x + 2$ 3) $x^3 + x^2$ 4) $x^2 + x - 4x$.

13) Решите уравнение $\log_7 x + \log_7 6 = \log_7 18$.

- 1) 0 2) 11 3) 3 4) 12.

14) Найдите точку минимума функции $y = x^2 - 1$.

- 1) -1 2) 1 3) -2 4) 0.

15) Найдите диагонали прямоугольного параллелепипеда по трем его измерениям: 2; 3; 6.

- 1) 55 2) 7 3) 49 4) 11.

16) Вычислите площадь фигуры (S), ограниченной линиями $y = x^3 + 1$, $y = 0$, $x = 0$, $x = 2$.

- 1) 8 2) 5 3) 6 4) 4.

17) Укажите область определения функции $y = \log_{0,3}(x^2 - 4x)$.

- 1) $(-\infty; 0) \cup (4; +\infty)$ 2) $(-4; +\infty)$ 3) $(4; +\infty)$ 4) $(0; 4)$.

18) Найдите наименьшее целое решение неравенства $(\frac{4}{11})^{6x-3} - 1 \leq 0$.

- 1) 0 2) 1 3) -1 4) 2.

19) Площади двух граней прямоугольного параллелепипеда равны 35см^2 и 42см^2 , а длина их общего ребра 7см. Найдите объем параллелепипеда.

- 1) 840 2) 10290 3) 770 4) 210.

20) Образующая конуса равна 24 см и составляет с плоскостью основания угол 30° . Найдите объем конуса, считая $\pi = 3$.

- 1) 3840 2) 1092 3) 5184 4) 648.

Вариант 3

1) Вычислите $2 \cdot 125^{\frac{1}{3}} - 0,9^0$

- 1) 10,9 2) 11 3) 9,1 4) 9.

2) Упростите выражение $\frac{6^{1,4}}{6^{0,7}}$

- 1) $6^{0,7}$ 2) 2 3) 0,7 4) 36.

3) Упростите выражение $\log_5 3 - \log_5 15 + \log_3 5$

- 1) $-1 + \log_3 5$ 2) -2 3) 0 4) $\log_5 \frac{8}{15}$.

4) Найдите значение $\sin \alpha$, если $\cos \alpha = -\frac{\sqrt{6}}{4}$ и $\frac{\pi}{2} < \alpha < \pi$

- 1) $\frac{10}{16}$ 2) $\frac{5}{8}$ 3) $\pm \frac{\sqrt{10}}{4}$ 4) $\frac{\sqrt{10}}{4}$

5) Упростите выражение $-4\sin^2 \alpha + 5 - 4\cos^2 \alpha$

- 1) 1 2) $1 + 8\sin^2 \alpha$ 3) $1 + 8\cos^2 \alpha$ 4) 9.

6) Укажите промежуток, которому принадлежит корень уравнения $\sqrt{4x^2 - 27} = -x$

- 1) $[\frac{4}{3}; 36]$ 2) $(-\infty; -2)$ 3) $(37; 40]$ 4) $(-\infty; -7]$.

7) Решите уравнение $\cos x = -1$

- 1) π 2) 0 3) $\frac{\pi}{2} + 2\pi n, n \in \mathbb{Z}$ 4) $\pi + 2\pi n, n \in \mathbb{Z}$

8) Укажите промежуток, которому принадлежит корень уравнения $(\frac{1}{8})^{0,1x-1} = 16$

- 1) $[-4; 0)$ 2) $[0; 1)$ 3) $[1; 4)$ 4) $[4; 6)$.

9) Решите неравенство $\frac{x+8}{(4x-1)(x-2)} \geq 0$

- 1) $(-\infty; -8] \cup (\frac{1}{4}; 2)$ 2) $[-8; \frac{1}{4}) \cup (2; +\infty)$ 3) $(-\infty; 2)$ 4) $(-\infty; -8) \cup (2; +\infty)$.

10) Найдите множество значений функции $y = \sin x - 1$

- 1) $[-1; 1]$ 2) $(-\infty; +\infty)$ 3) $[-2; 0]$ 4) $[0; 2]$.

11) Найдите производную функции $f(x) = (3x - 4)^6$

- 1) $-18(3x - 4)^5$ 2) $6(3x - 4)^5$ 3) $18(3x - 4)^5$ 4) $(3x - 4)^7$.

12) Укажите первообразную функции $f(x) = 5x^4 - 2x + 1$

- 1) $5x^5 - 2x^2 + 12$ 2) $20x^3 - x$ 3) $x^4 - 2x + x$ 4) $x^5 - x^2 + x$.

13) Решите уравнение $\log_4 x + \log_4 5 = \log_4 20$

- 1) 15 2) 5 3) 4 4) 10.

14) Найдите точку максимума функции $y = 4x - x^4$

- 1) 4 2) 2 3) -4 4) 1.

15) Найдите диагонали прямоугольного параллелепипеда по трем его измерениям: 6; 6; 7

- 1) 19 2) 11 3) 121 4) 36.

16) Вычислите площадь фигуры (S), ограниченной линиями $y = 1 - x^3$, $y = 0$, $x = 0$, $x = 1$.

- 1) 1 2) $\frac{3}{4}$ 3) $\frac{1}{4}$ 4) $1\frac{1}{4}$.

17) Укажите область определения функции $y = \log_{0,5}(x^2 - 3x)$.

- 1) $(-3; +\infty)$ 2) $(-\infty; 0) \cup (3; +\infty)$ 3) $(3; +\infty)$ 4) $(0; 3)$.

18) Найдите наибольшее целое решение неравенства $(\frac{2}{7})^{4-8x} - 1 \leq 0$.

- 1) 1 2) -1 3) 2 4) 0.

19) Площади двух граней прямоугольного параллелепипеда равны 20см^2 и 45см^2 , а длина их общего ребра 5см. Найдите объем параллелепипеда.

- 1) 240 2) 120 3) 180 4) 4500.

20) Образующая конуса равна 18дм и составляет с плоскостью основания угол 30° . Найдите объем конуса, считая $\pi = 3$.

- 1) 3804 2) 2187 3) 2192 4) 6408.

Вариант 4

1) Вычислите $3 \cdot 27^{-1/3} + 3^0$

- 1) 0 2) 3 3) 2 4) 4.

2) Упростите выражение $\frac{7^{1,2}}{7^{2,2}}$.

- 1) 49 2) $1/7$ 3) $7^{-3/4}$ 4) 7^{-2} .

3) Упростите выражение $\log_{1/2} 4 - \log_{1/2} 16 - \log_{1/2} 8$

- 1) $1/2$ 2) 5 3) $8\log_2 5$ 4) 25.

4) Найдите значение $\cos \alpha$, если $\sin \alpha = 1/2$ и $\pi < \alpha < \frac{3\pi}{2}$.

- 1) -0,6 2) $-\sqrt{3}/2$ 3) $\sqrt{2}/2$ 4) 0,36

5) Упростите выражение $-3\cos^2 \alpha + 27 - 3\sin^2 \alpha$.

- 1) 12 2) 24 3) 27 4) 0.

6) Решите уравнение $\cos x = 1/2$.

- 1) $\pm\pi/3 + 2\pi n, n \in \mathbb{Z}$ 2) $\frac{\pi}{2}$ 3) $\frac{\pi}{2} + 2\pi n, n \in \mathbb{Z}$ 4) $\pi n, n \in \mathbb{Z}$

Укажите промежуток, которому принадлежит корень уравнения $\sqrt{x-3} = x-9$.

- 1) $[1,5; 9]$ 2) $(3; 10)$ 3) $(2; 21)$ 4) $(-\infty; -2]$.

8) Укажите промежуток, которому принадлежит корень уравнения $(121)^{2x+5} = 11^{x-1}$.

- 1) $[-4; 0)$ 2) $[0; 1)$ 3) $(0; 11)$ 4) $[4; 6)$.

9) Решите неравенство $\frac{(4x-1)(x-2)}{(x-8)} \geq 0$.

- 1) $(-\infty; -2) \cup [\frac{1}{3}; 1)$ 2) $[-2; \frac{1}{3}) \cup (1; +\infty)$ 3) $(-\infty; -2)$ 4) $[1/4; 2] \cup (8; +\infty)$

10) Найдите множество значений функции $y = \sin x - 4$.

- 1) $[3; 1]$ 2) $[-5; -3]$ 3) $[-1; 1]$ 4) $[-3; -1]$.

11) Найдите производную функции $f(x) = (0,5x + 5)^2$.

- 1) $-4(7 - 2x)^{-3}$ 2) $0,5x + 5$ 3) $8(7 - 2x)^3$ 4) $(7 - 2x)^2$.

12) Укажите первообразную функции $f(x) = 11x^{10} + 9x^8 - 1$.

- 1) $x^2 + x^4 - x$ 2) $x^{11} + x^9 - x$ 3) $2 + 12x^2$ 4) $11x^9 + 72x$.

13) Решите уравнение $2 \log_2 x + \log_2 x = 10 \log_2 3$.

- 1) 8 2) 9 3) 18 4) 6.

14) Найдите точки максимума функции $y = -x^2 + x + 6$.

- 1) $1/2$ 2) $1/25$ 3) -2 4) $25/4$.

15) Найдите диагонали прямоугольного параллелепипеда по трем его измерениям: 5; 4; 1.

- 1) $\sqrt{42}$ 2) 42 3) 21 4) 12.

16) Вычислите площадь фигуры (S), ограниченной линиями $y = x^2$, $y = 0$, $x = 1$, $x = 4$.

- 1) $65/3$ 2) 65 3) $1/3$ 4) $6\frac{2}{3}$.

17) Укажите область определения функции $y = \log_{0,5}(2 - 5x + 2x^2)$.

- 1) $(-\infty; 1/2) \cup (2; +\infty)$ 2) $(-2; +\infty)$ 3) $(2; +\infty)$ 4) $(1/2; 2)$.

18) Найдите наименьшее целое решение неравенства $(7/3)^{2-3x} - 1 \leq 0$.

- 1) 1 2) 0 3) -1 4) 2/3.

19) Площади двух граней прямоугольного параллелепипеда равны 169дм^2 и 52дм^2 , а длина их общего ребра 13дм . Найдите объем параллелепипеда.

- 1) 676 2) 176 3) 476 4) 169.

20) Диаметр основания конуса равен 6см . Образующая конуса составляет с плоскостью основания угол 45° . Найдите объем конуса, считая $\pi = 3$.

- 1) 17 2) 27 3) 24 4) 18

Вариант 5

1) Вычислите $6 - 625^{\frac{1}{4}}$.

- 1) 5 2) 6 3) 1 4) 10.

2) Упростите выражение $\frac{13^{2,5}}{13^{1,5}}$.

- 1) 169 2) 13 3) 100 4) 0.

3) Упростите выражение $4 \log_3 3 - \log_3 7 - \log_3 \left(\frac{1}{7}\right)$

- 1) 1/4 2) 4 3) $8 \log_2 5$ 4) 0.

4) Найдите значение $\cos \alpha$, если $\sin \alpha = \sqrt{2}/2$ и $\pi/2 < \alpha < \pi$.

- 1) $\sqrt{2}/2$ 2) $-\sqrt{2}/2$ 3) 1/2 4) 0

5) Упростите выражение $-\cos^2 2\alpha - 5 - \sin^2 2\alpha$.

- 1) 6 2) -6 3) -5 4) 0.

6) Решите уравнение $\cos x = -\sqrt{2}/2$.

- 1) $\pm 3\pi/4 + 2\pi n, n \in \mathbb{Z}$ 2) $\frac{\pi}{4} + 2\pi n$ 3) $\frac{\pi}{2} + 2\pi n, n \in \mathbb{Z}$ 4) $\pi n, n \in \mathbb{Z}$

7) Укажите промежуток, которому принадлежит корень уравнения $\sqrt{49 - 6x^2} = -x$

- 1) $[-5; 0]$ 2) $(-15; 0)$ 3) $(-2; 10)$ 4) $(-\infty; -8]$.

8) Укажите промежуток, которому принадлежит корень уравнения $\left(\frac{1}{49}\right)^{-x-3} = 7^2$.

- 1) $(-25; -11)$ 2) $[-1; 0)$ 3) $[-2; 5)$ 4) $(8; 28)$.

9) Решите неравенство $\frac{(4x-2)(x+2)}{x-3} \leq 0$.

- 1) $(-\infty; -2) \cup \left[\frac{1}{3}; 1\right)$ 2) $(-\infty; -2] \cup \left[\frac{1}{2}; 3\right)$ 3) $(-\infty; -2)$ 4) $(-\infty; -5) \cup \left(-2; \frac{1}{2}\right)$.

10) Найдите множество значений функции $y = \cos x - 6$.

- 1) $[3; 1]$ 2) $[-7; -5]$ 3) $(-1; 4)$ 4) $[-3; -1]$.

11) Найдите производную функции $f(x) = (0,5 - 2x)^4$.

- 1) $-8(0,5 - 2x)^3$ 2) $-8(5 - 2x)^{-3}$ 3) $8(5 - 2x)^3$ 4) $(7 - 2x)^2$.

12) Укажите первообразную функции $f(x) = 2x + 4x^3 - 4$.

- 1) $x^2 + x^4 - 4x$ 2) $2x^2 + 4x^4$ 3) $2 + 12x^2$ 4) $x^2 + x^4$.

13) Решите уравнение $\log_3 2x + \log_3 x = \log_3 8$.

- 1) -2 2) 4 3) 2 4) 0.

14) Найдите точки максимума функции $y = 4x - x^2$.

- 1) 0 2) 2 3) -2 4) 3.

15) Найдите диагонали прямоугольного параллелепипеда по трем его измерениям: 3; 4; 5.

- 1) $5\sqrt{2}$ 2) $5\sqrt{3}$ 3) 35 4) 15.

16) Вычислите площадь фигуры (S), ограниченной линиями $y = -6x$, $y = 0$, $x = 4$.

- 1) 8 2) $2\frac{2}{3}$ 3) 48 4) $6\frac{2}{3}$.

17) Укажите область определения функции $y = \log_{1/5}(4x - 5)$.

- 1) $(-\infty; 0) \cup (2; +\infty)$ 2) $(5/4; +\infty)$ 3) $(2; +\infty)$ 4) $(0; 2)$.

18) Найдите наибольшее целое решение неравенства $\left(\frac{5}{13}\right)^{-2x-1} - 1 \geq 0$.

- 1) $[-1/2; \infty)$ 2) -1 3) 1 4) 2.

19) Площади двух граней прямоугольного параллелепипеда равны 27дм^2 и 57дм^2 , а длина их общего ребра 3дм. Найдите объем параллелепипеда.

- 1) 513 2) 500 3) 413 4) 270.

20) Диаметр основания конуса равна 4см. а высота 3см.. Найдите объем конуса, считая $\pi = 3$.

- 1) 4 2) 12 3) 24 4) 8.

Вариант 6

1) Вычислите $16^{\frac{5}{4}} - 0,16$.

- 1) 19,84 2) 31,84 3) 7,84 4) 12,64.

2) Упростите выражение $\sqrt[3]{-0,25} * \sqrt[3]{-0,5}$

- 2) -0,5 2) 0,25 3) 0,5 4) -0,5.

3) Упростите выражение $\lg x = 2\lg 3 + 3\lg 2$

- 1) 72 2) 82 3) $8\log_2 5$ 4) 42.

4) Найдите значение $\cos \alpha$, если $\sin \alpha = -0,3$ и $3\pi/2 < \alpha < 2\pi$.

- 1) $\sqrt{91}/10$ 2) $\sqrt{71}/10$ 3) $8/10$ 4) $0,36$

5) Упростите выражение $3\cos^2 \alpha + 4 + 3\sin^2 \alpha$.

- 1) 4 2) 5 3) 7 4) 12

6) Решите уравнение $\operatorname{tg}(3x + 2) = -1$.

- 1) $-(\pi/12) - (2/3) + (\pi/3)$ 2) $-\frac{\pi}{4}$ 3) $\frac{\pi}{4} + 2\pi n, n \in \mathbb{Z}$ 4) $\pi n, n \in \mathbb{Z}$

7) Укажите промежуток, которому принадлежит корень уравнения $\sqrt{64 - 3x^2} = -x$.

- 1) $[0; 2]$ 2) $(-2; 0)$ 3) $(0; 2)$ 4) нет корней

8) Укажите промежуток, которому принадлежит корень уравнения $(64)^{\sqrt{x}-1} = 4^{\sqrt{x}-1}$.

- 1) {37} 2) $[0; 1)$ 3) $[-\infty; -4)$ 4) $[4; 6)$.

9) Решите неравенство $\frac{6x-8}{4x+3} < 0$.

- 1) $(-3/4; 4/3)$ 2) $[-1/4; 1)$ 3) $(-\infty; -2)$ 4) $(-\infty; -5) \cup (-2; \frac{1}{4})$.

10) Найдите множество значений функции $y = \cos x + 1/2$.

- 1) $[-0,5; 1,5]$ 2) $(-\infty; +\infty)$ 3) $[-1; 1,5]$ 4) $[-3; -1]$.

11) Найдите производную функции $f(x) = (-6 - 7x)^4$.

- 1) $-28(-6 - 7x)^3$ 2) $-8(7 - 2x)^3$ 3) $8(7 - 2x)^3$ 4) $(7 - 2x)^2$.

12) Укажите первообразную функции $f(x) = x^2 - x + 4$.

- 1) $x^3/3 - x^2/2 + 4x$ 2) $2x^2 + 4x^4$ 3) $2 + 12x^2$ 4) $x^2 + x^4$.

13) Решите уравнение $\log_3 x + \log_3 4 = \log_3 12$.

- 1) 0 2) 3 3) 9 4) -1.

14) Найдите точки минимума функции $y = x^2 - 2x$.

- 1) 0 2) 1 3) -2 4) 3.

15) Найдите диагонали прямоугольного параллелепипеда по трем его измерениям: 3; 3; 7.

- 1) 5 2) $\sqrt{67}$ 3) 3 4) $\sqrt{24}$.

16) Вычислите площадь фигуры (S), ограниченной линиями $y = 2x^2 - 2$, $y = 0$, $x = 2$, $x = 5$.

- 1) 82 2) 72 3) 48 4) 81

17) Укажите область определения функции $y = \log_3(x + 3)$.

1) $(-3; +\infty)$ 2) $(-2; +\infty)$ 3) $(2; +\infty)$ 4) $(0; 2)$.

18) Найдите наибольшее целое решение неравенства $\left(\frac{1}{6}\right)^{2x/15} < \sqrt[5]{6}$

1) $(-\infty; 37,5)$ 2) $(-1,5; +\infty)$ 3) 1 4) 2.

19) Площади двух граней прямоугольного параллелепипеда равны 81дм^2 и 49дм^2 , а длина их общего ребра 9дм. Найдите объем параллелепипеда.

1) 567 2) 576 3) 429 4) 765

20) Высота конуса равна 9см, а образующая составляет с плоскостью основания угол 45° .

Найдите объем конуса, считая $\pi = 3$.

1) 729 2) 129 3) 429 4) 648.

Критерии оценки работы

1 задание: Степень с рациональным показателем – 1 балл

2 задание: Степень с рациональным показателем – 1 балл

3 задание: Свойства логарифмической функции – 1 балл

4 задание: Основные тригонометрические формулы – 2 балла

5 задание: Основные тригонометрические формулы – 2 балла

6 задание: Решение тригонометрических уравнений – 1 балл

7 задание: Решение иррациональных уравнений – 2 балла

8 задание: Решение показательных уравнений – 2 балла

9 задание: Метод интервалов - Решение иррациональных уравнений – 1 балл

10 задание: Свойства тригонометрических функций – 1 балл

11 задание: Вычисление производных - 1 балл

12 задание: Нахождение первообразной функции – 1 балл

13 задание: Решение логарифмических уравнений – 1 балл

14 задание: Нахождение максимального и минимального значений функции – 2 балла

15 задание: Свойства тел в стереометрии – 1 балл

16 задание: Площадь криволинейной трапеции – 3 балла

17 задание: Построение графика логарифмической функции – 3 балла

18 задание: Решение показательных неравенств - 3 балла

19 задание: Многогранники - 3 балла

20 задание: Тела вращения - 3 балла

Рекомендации для проверки (проведения) экзаменационного теста

Тест состоит из 20 заданий.

Задания содержат по 4 варианта ответов, причем каждый вопрос имеет только один вариант правильного ответа.

Максимальный балл за тест – 35.

0 –14 баллов - «2» («неудовлетворительно»)

15 – 19 баллов - «3» («удовлетворительно»)

21 – 29 баллов - «4» («хорошо»)

30 – 35 баллов - «5» («отлично»)

ТЕСТОВЫЕ ВОПРОСЫ ОТКРЫТОГО ТИПА ПО ДИСЦИПЛИНЕ: МАТЕМАТИКА

№	Правильный ответ	Содержание вопроса	Компет енция	Время выполнения (мин)
1		Натуральные числа, противоположные им, число 0 образуют множество	ОК 01	3
2		Множество, состоящее из положительных и отрицательных, дробных и целых, числа 0, называется множеством	ОК 02	3
3		Чтобы перемножить степени с одинаковыми основаниями, надо основание степени оставить тем же, а показатели.....	ОК 02	3
4		Продолжите теорему: «Если одна из двух параллельных прямых перпендикулярна плоскости, то и вторая прямая	ОК 04	3
5		Продолжите теорему: «Если две параллельные плоскости пересекаются третьей, то...».	ОК 07	3
6		Если две параллельные прямые параллельны третьей прямой, то они	ОК 01	3
7		Плоскости называются параллельными, если они	ОК 03	3
8		Прямая называется перпендикулярной плоскости, если она перпендикулярна любой прямой,.....	ОК 04	3
9		Боковая поверхность прямой призмы равна произведению периметра основания на	ОК 07	3
10		Если основаниями прямой призмы являются правильные многоугольники, то она называется ...	ОК 02	3
11		Отрезок, для которого указано, какой из его концов является началом, а какой – концом, называется	ОК 03	3
12		Векторы называются равными, если:	ОК 04	3
13		Если длины двух ненулевых векторов равны, и они противоположно направлены, то они называются	ПК1.1	3

14		Скалярное произведение векторов, выраженных своими координатами, вычисляется как:.....	ОК 01	3
15		Если векторы перпендикулярны, то их скалярное произведение равно	ОК 03	3
16		Производная функции-это	ОК 04	3
17		Операция нахождения производной называется	ОК 04	3
18		Точки , в которых производная равна нулю, называются	ОК 06	3
19		Производная постоянной равна	ПК1.1	3
20		При вычислении производной постоянный множитель можно выносить	ОК 01	3
21		Предел отношения приращения функции в точке x к приращению аргумента, когда последнее стремится к нулю называется...	ПК1.1	3
22		Если материальная точка движется по закону $S(t)$, то первая производная от пути по времени есть...	ОК 01	3
23		Геометрический смысл производной состоит в том, что ...	ОК 07	3
24		Уравнение касательной к данной линии в точке M имеет вид...	ОК03	3
25		Ускорение прямолинейного движения равно...	ПК1.1	3
26		Функция возрастает на заданном промежутке, если...	ОК 06	3
27		Функция возрастает на заданном промежутке, если...	ОК 06	3
28		Если график функции расположен выше оси Ox на интервале, то функция на данном	ОК 03	3
29		Если график функции расположен ниже оси Ox на интервале, то функция на данном	ОК 05	3
30		Если две дифференцируемые функции отличаются на постоянное слагаемое, то их производные	ОК 06	3
31		Дифференцируемая функция может иметь экстремум в тех точках, где производная	ОК 07	3
32		Мгновенная скорость движения точки, если $s(t) = 5t + 3$ равна	ОК 06	3
33		Дискретную случайную величину задают указывая её закон	ПК1.11	3
34		Скорость тела, движущегося по закону $s(t) = t^2 + 2$, в момент времени $t = 10$ будет равна	ОК 01	3
35		Вычислите $(\cos x)'$ =	ОК 03	2
36		Вычислите $(kx+b)'$ =	ОК 01	2
37		Вычислите $(\sqrt{8})'$ =	ОК 03	2
38		Вычислите $(10x)'$ =	ОК 04	2
39		Событие, которое обязательно произойдет,	ОК 05	2

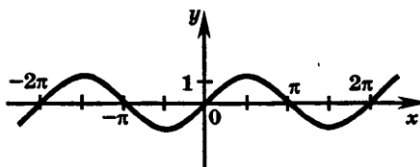
		называется ...		
40		Упорядоченное множество, отличающееся только порядком элементов, называется	ОК 05	2
41		Событие называется ..., если оно не может произойти в результате данного испытания.	ОК 09	2
42		Множество первообразных для данной функции $f(x)$ называется...	ОК 06	3
43		Определенный интеграл с одинаковыми пределами равен...	ОК 03	3
44		Операцию нахождения первообразной для данной функции называют.....	ПК1.1	3
46		Логарифм, основание которого равно 10 называется	ОК 05	3
47		Логарифм произведения – этологарифмов.	ОК 02	3
48		Логарифм частного – этологарифмов.	ОК 05	3
49		Функция $F(x)$ называется первообразной для функции $f(x)$ на $(a; b)$, если для любого $x \in (a; b)$ выполняется равенство	ОК 07	3
50		Объем конуса определяется по формуле	ПК1.1	3
51		Неопределенный интеграл $\int \sin x dx$ равен	ОК 06	3
52		Показательная функция $y=a^x$ является возрастающей, если основание a больше	ОК 02	3
53		Как называется равенство: \square Логарифм, основание которого равно $e \approx 2,7$ называется	ОК 05	3
54		Объем цилиндра определяется по формуле	ОК 07	3
55		Геометрический смысл определённого интеграла состоит в том, что он численно равен площади.....	ОК 04	3
56		Отрезок, соединяющий две вершины призмы, не принадлежащие одной называется	ОК 07	3
57		Грани параллелепипеда не имеющие общих вершин, называются	ОК 01	3
58		Перпендикуляр, опущенный из вершины пирамиды на плоскость основания, называется	ОК 02	3
59		Высота боковой грани правильной пирамиды, проведенная из ее вершины, называется	ОК 04	3
60		У куба все грани	ПК1.1	3

ТЕСТОВЫЕ ВОПРОСЫ ЗАКРЫТОГО ТИПА ПО ДИСЦИПЛИНЕ: МАТЕМАТИКА

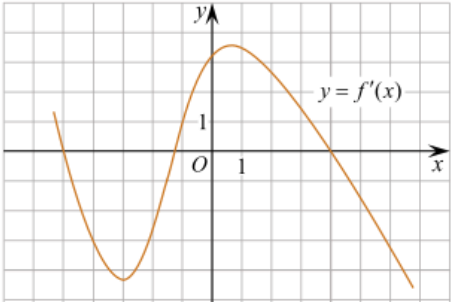
№	Правильный ответ	Содержание вопроса	Компетенция	Время выполнения
---	------------------	--------------------	-------------	------------------

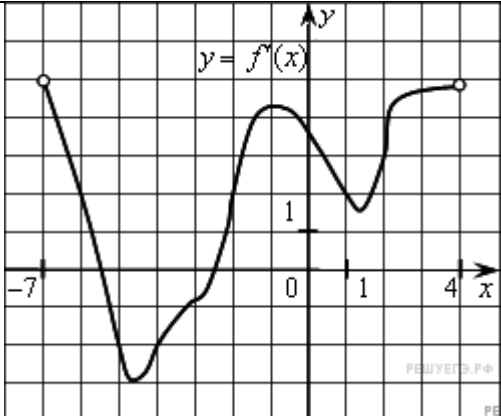
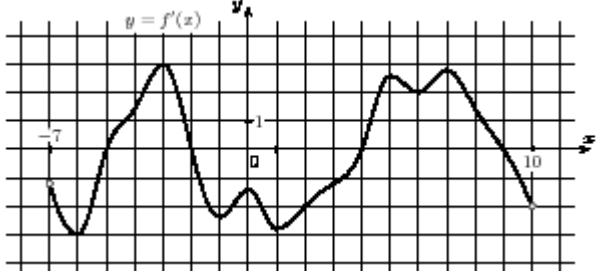
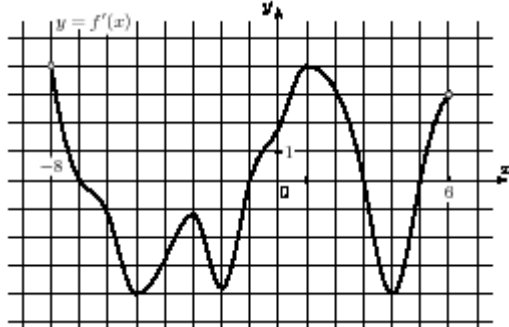
				(мин)
1		Найдите значение выражения $\log_3 \sqrt{27}$ а) 16; б) 0.4; в) 8; г) 1.5	ОК 06	3
2		Сократите дробь $\frac{\log_{11} 32}{\log_{11} 4}$ а) 16; б) 0.4; в) 8; г) 2.5	ОК 07	3
3		Какова величина подоходного налога, который составляет 13% от величины заработной платы в 25000 рублей? а) 1600; б) 400; в) 3250 г) 1200	ОК 01	4
4		Найдите число: 40% которого равны 320 а) 160; б) 400; в) 800; г) 120	ОК 04	3
5		Вычислить: $\frac{(4^3)^2 \cdot 4^5}{4^{10}}$ а) 16; б) 4; в) 8; г) 12	ОК 01	4
6		раскройте формулу сокращенного умножения a^2-b^2 : а) $a^2-2ab+b^2$ б) $(a-b)(a+b)$; в) $a^2+2ab-b^2$; г) $(a-b)(a-b)$	ОК 02	3
7		Больному прописано лекарство, которое нужно пить по 0,5г 3 раза в день в течение 8 дней. В одной упаковке 8 таблеток по 0,25г. Какого наименьшего количества упаковок хватит на весь курс лечения? а) 6 б) 5; в) 6.5; г) 7	ОК 02	4
8		Упростить выражение: $3 \cos^2 x + 3 \sin^2 x - 6$. а) 1; б) -5 в) 3 г) -3	ОК 02	3
9		Найдите множество значений функции $y = \sin x - 1$ а) [-1;1] б) $(-\infty; +\infty)$ в) [-2;0] г) [0;2].	ОК 03	3
10		Найдите значение $\sin \alpha$, если $\cos \alpha = 0,8$ и $\frac{3\pi}{2} < \alpha < 2\pi$ а) 3/5 б) -0,6 в) 0,2 г) 2/5	ОК 04	3
11		Какие из функций являются чётными? а) $y = \sin x$; б) $y = \cos x$; в) $y = \operatorname{tg} x$; г) $y = \operatorname{ctg} x$.	ОК 05	3
12		Какое из данных уравнений не имеет корней? а) $\sin x = -0,44$; б) $\cos x = 5$; в) $\operatorname{tg} x = -10$; г) $\cos x = 1$.	ОК 03	3
13		Расшифруйте краткую запись: $a \in \beta$. а) точка a принадлежит плоскости β ; б) точка a принадлежит прямой β ; в) прямая a принадлежит плоскости β ; г) прямая a пересекает плоскость β .	ОК 07	3

14		Найдите диагонали прямоугольного параллелепипеда по трем его измерениям: 6; 6; 7 а) 19 б) 11 в) 121 г) 36.	ОК 03	5
15		Как вычислить длину вектора, если известны его координаты? а) она равна квадратному корню из суммы квадратов координат б) она равна произведению квадратов координат в) она равна отношению произведения координат к сумме их квадратов г) она равна сумме квадратов координат	ОК 03	3
16		Даны два вектора с координатами. Вектор $\vec{r} \{5;3\}$ и вектор $\vec{t} \{2;8\}$. Найдите скалярное произведение этих векторов. а) - 14 б) - 18 в) 34 г) -32	ОК 04	4
17		1. Чему равна производная 1? а) 1 б) 0 в) x г) a(число)	ОК 04	3
18		Вычислите $(6x^3)'$ а) $6x^2$ б) 0 в) $18x^2$ г) $18x$	ОК 01	3
19		Найдите производную функции $y = (2e^x + 3)$ а) $2e^x + 16$ б) e^x в) $2e^x$ г) 0	ОК 03	3
20		Период функции $y = \sin x$? а) $\pi/2$; б) 2π ; в) 4π ; г) π .	ОК 04	3
21		Решите уравнение $f'(x)=0$, если $f(x)=3x^2 - 6x + 4$. Выберите ответ. а) 1; б) -1; в) 4; г) -4.	ОК 06	3
22		Производную функции $y = 4x^3$ равна : а) $12x^2$ б) $12x$ в) $4x^2$ г) $12x^3$	ОК 07	3
23		Если две дифференцируемые функции отличаются на постоянное слагаемое, то: а) их производные равны; б) их производные различаются на разность постоянных слагаемых; в) вопрос о различии их производных установить не удаётся.	ПК 1.1	3
24		Производная функции $y = 0,75x^4 - 2 \cos x$ равна: а) $y = 3x^3 + 2 \cos x$; б) $y = 3x^3 - 2 \sin x$; в) $y = 3x^3 - 2 \cos x$; г) $y = 3x^3 + 2 \sin x$.	ПК 1.1	4
25		Площадь треугольника вычисляется по формуле: а) $S = a \cdot b$; б) $S = (a \cdot b) / 2$; в) $S = 2a \cdot b$; г) $S = (a \cdot b) / 3$	ОК 05	3
26		График какой функции изображен на рисунке? а) $y = \cos x$;	ОК 06	4



		б) $y = \sin x$; в) $y = \operatorname{ctg} x$; г) $y = \operatorname{tg} x$.		
27		Вычислить значение производной функции $y = \sin x - 2x$ в точке $x_0 = 0$. а) 1 б) 0 в) -3 г) -1	ОК 01	4
28		Упростить выражение $\cos \alpha - \sin \alpha \cdot \operatorname{ctg} \alpha$. а) 1; б) 0; в) 3; г) -1.	ОК 02	4
29		Найти производную функции $y(x) = e^x - 4x^2$. а) $e^x - \frac{4}{3}x^3$; б) $e^x - 8x$; в) $e^x - 2x$; г) $e^x - 4x$.	ОК 06	4
30		Найдите производную функции $y = x^3 + \cos x$. а) $y' = 3x^2 - \sin x$ б) $y' = x^3 - \sin x$ в) $y' = 3x^2 + \sin x$ г) $y' = x^3 \ln 3 + \sin x$	ПК 1.1	4
31		Найдите производную функции $y = -e^x + 3x^3$. а) $y' = e^x + 3x$ б) $y' = -xe^x + 9x^2$ в) $y' = -e^x + 9x^2$ г) $y' = -e^{x-1} + 9x^3$.	ОК 07	4
32		Вторая производная $y''(x)$ функции $y(x) = 4x^2 - 2x$ имеет вид а) 4 б) 8 в) 6 г) 7	ОК 03	4
33		Вычислите $(x^3 + 2x^4 - x)'$. а) $3x^2 + 2x^3 - x$ б) $3x^2 + 8x^3 - x^2$ в) $3x^4 + 8x^4 - x^2$ г) $3x^2 + 8x^3 - 1$	ПК 1.1	4
34		Точка движется по закону $S(t) = 2x^3 - 3x^2 + 1$. Найдите скорость точки в момент времени $t_0 = 2c$. а) 12 м/с б) 4 м/с в) 5 м/с г) 6 м/с	ПК 1.1	4
35		Найдите производную функции $y = x^2 + x$ в точке $x_0 = 2$. а) 5 б) 6 в) 4 г) 3	ОК 01	4
36		Найдите коэффициент касательной к графику функции $f(x) = 5x^2 - 2x$ в точке $x_0 = 1$. а) 8 б) 3 в) 0 г) 9	ОК 07	5
37		Найдите точку \min функции $y = x^3 - 3x$. а) -1 б) 1 в) 0 г) 3	ПК 1.1	5
38		Найдите критические точки функции $y = 5x^3 - 15x$. а) 1 б) -1 в) 1, -1 г) 0	ОК 06	5
39		Найдите критические точки функции $f(x) = 2x^4 - 4x^2$ а) 0, ±1 б) 3 в) 0 г) 0, ±1	ОК 07	4
40		Вторая производная $y''(x)$ функции $y(x) = 4x^2 - 2x$ имеет вид а) 4 б) 8 в) 6 г) 7	ОК 01	4
41		Скорость тела определяется по формуле $V(t) = 5t^3 + t^2$. Чему равно ускорение тела в момент времени $t_0 = 1c$? а) 16 б) 6 в) 17 г) 34	ОК 06	4
42		Точка движется по закону $S(t) = 2t^3 - 3t$. Чему равно ускорение в момент $t_0 = 1c$? а) 15 б) 12 в) 9 г) 3	ОК 07	4

43		Найдите наименьшее значение функции $f(x) = 2x^3 - 6x + 1$ на $[-1; 0]$. а)5 б)-3 в)1 г)0	ОК 03	5
44		Радиус основания цилиндра 2,5 см, высота 12см. Найдите площадь боковой поверхности. а)60 б)65 в)35 г)60 π	ПК 1.1	5
45		Найдите полную поверхность куба со стороной 4см. а)64 б)65 в)96 г)60	ОК 02	4
46		Определенный интеграл $\int_2^3 3x^2 dx$ равен: а)19 б)18 в)35 г)27	ОК 05	5
47		Определенный интеграл $\int_1^2 4x^3 dx$ равен а)36 б)17 в)16 г)15	ОК 05	5
48		Диаметр основания конуса равен 42, а длина образующей равна 75. Найдите высоту конуса а)72 б)74 в)66 г)65	ОК 04	4
49		Высота конуса равна 4, а диаметр основания — 6. Найдите образующую конуса. а)5 б)4 в)6 г)15	ОК 01	5
50		Вычислить объем цилиндра, если радиус основания 3, высота 1. а) 9π б) 6π в) 3π; г) 2π.	ОК 05	5
51		Радиус шара равен 1см, чему равен объем шара? а)16π см ³ ; б) 32π см в) $\frac{4}{3}\pi$ см ³ ; г) $\frac{32}{3}\pi$ см ³ .	ОК 06	5
52		На рисунке изображен график производной функции $y=f(x)$. При каком значении x функция принимает свое наибольшее значение на отрезке $[-4; -2]$?  а) 0,5; б) -4; в) -5; г) 1.	ОК 03	5
53		Образующая конуса 10см, а высота 8см. Найдите боковую поверхность. 1	ОК 04	5
54		Материальная точка движется по закону $S(t) = 3t + 7 + 0,5t^2$, где t – время движения в секундах. Через какое время после начала движения скорость тела окажется равной 15 м/с? 1) 18; 2) 15; 3) 12; 4) 21.	ОК 07	5
55		На рисунке изображён график производной функции, определённой на интервале $(-7; 4)$. Определите количество промежутков возрастания функции:	ОК 04	5

		 <p>а) 1; б) 2; в) 3; г) 0.</p>		
56	<p>На рисунке изображён график функции $y = f(x)$, определённой на интервале $(-7; 10)$. Найдите сумму точек экстремума функции на отрезке $[-4; 8]$.</p>  <p>а) 7 б) 12; в) 15; г) 18.</p>	ОК 03	5	
57	<p>На рисунке изображён график производной функции $y = f'(x)$, определённой на интервале $(-8; 6)$. В какой точке отрезка $[-5; -1]$ функция $y = f(x)$ принимает наибольшее значение?</p>  <p>а) -1; б) -3; в) -5; г) -2.</p>	ПК 1.1	5	
58	<p>Вычислите: $\int_{-1}^1 x^3 dx$:</p> <p>а) -1; б) 0; в) 1; г) 2.</p>	ОК 01	4	
59	<p>Неопределённый интеграл $\int \cos x dx$ равен:</p> <p>а) $y = -\sin x + C$; б) $y = \sin x + C$; в) $y = -\cos x + C$; г) $y = \cos x + C$.</p>	ОК 06	3	
60	<p>Образующая конуса 10 см, а высота 8 см. Найдите объём конуса.</p> <p>а) 96; б) 90; в) 96π г) 90π</p>	ОК 01	5	

61		Найдите объём куба со стороной 4см. а) 96; б) 90; в) 64π г) 90 π	ОК 05	5
62		1. Радиус основания цилиндра равен 7, высота равна 10. Найдите площадь боковой поверхности цилиндра, деленную на π: а) 140 б) 70 в) 24 г) 140	ОК 07	5
63		Геометрическая фигура, которая образована в результате вращения прямоугольного треугольника вокруг одного из своих катетов: а) конус б) сфера в) шар г) цилиндр	ОК 02	3
64		Площадь боковой поверхности цилиндра равна 72π, а диаметр основания — 9. Найдите высоту цилиндра: а) 12 б) 8 в) 63 г) 60	ОК 05	5
65		Определите высоту цилиндра, если радиус основания 0,5, а объём цилиндра 8π. а) 24; б) 16; в) 36; г) 32.	ОК 02	5
66		Какова вероятность того, что случайно выбранное натуральное число от 10 до 19 делится на три? а) 0,3 б) 0,7 в) 0,333... г) 0.35	ОК 02	5
67		Простейшими задачами математической статистики являются: а) выборка и группировка статистических данных, полученных в результате эксперимента; б) определение параметров распределения, вид которого заранее известен; в) получение оценки вероятности изучаемого события.	ОК 05	4
68		Сколько существует вариантов выбора двух чисел из восьми: а) 18 б) 28 в) 16 г) 20	ПК 1.1	4
69		Найдите значение выражения $\log_2 16 + \log_2 2$ а) 4; б) 5; в) 6; г) 4,5.	ОК 07	5
70		$\frac{\lg 125}{\lg 5}$ Вычислить а) 75; б) 35; в) $\lg 25$; г) 3	ОК 05	5